

【地理】共 34 分

一、選擇題（一題 2 分）


- () 1. 三星集團為南韓最大的財閥，其下的公司跨足各行各業，包含半導體、家電、金融、營建等，南韓因而衍伸出一句諺語「韓國人一生無法避免三件事：死亡、稅收與三星」。因集團勢力龐大，使得三星爭議不斷，例如三星集團副會長李在鎔因涉及賄賂案被判入獄，但在其服刑期間，南韓商界卻不斷呼籲政府應特赦李在鎔，避免因三星共和國音群龍無首而撼動整個國家經濟，雖然事件引起全國譁然，但最終總統同意讓他能無罪釋放。請問這個事件顯示出南韓社會的何種特色呢？
- (A) 工業以發展高科技產品為主軸，手機、半導體皆屬之
(B) 政府扶植大型財團，使得國家財富掌控在少數集團手中
(C) 因缺乏天然資源，故工業區主要集中在沿海的港口城市
(D) 經濟發展以出口少數農礦產品為主，

易受國際市場價格影響

- () 2. 智美在日記中寫道：「今年是 1994 年，大饑荒已經很久了，好多人餓死，偉大的金日成領袖說『一日只食兩餐』，但我們餓到吃蚱蜢。我跟媽媽為了要活下去，想要偷偷離開這裡。有人往北走渡過河，可以找到同為朝鮮族的人；有人說往南走能到達說韓語的國家；也有人往東翻過山，渡海到日本；也有人說往西可以偷渡到大連港。每一條路都有風險，逃跑過程很可能被射殺，或被人口販子賣掉。我們得選擇路線，希望我能重生、得到自由……。」根據以上文章，下列敘述何者錯誤？

- (A) 可往北渡過圖們江到中國或往東翻過太白山渡海到日本
(B) 大饑荒的原因與該國平原較少且作物生長季短有關
(C) 脫北路線往南走須越過北緯 38 度才能抵達南韓
(D) 該國的年降雨量少於 500mm，相對乾旱無法種植作物

- () 3. 下圖是日本與南韓目前核能發電佔總發電量的比例圖，可發現日韓在核能的使用上有很大的差異。原本核電比例差不多的兩國從 2011 年 311 大地震後開始出現差異，當時伴隨巨大海嘯以及引發大規模的核災，使得日本核電比例下降。綜上所述，使得核能發電比例兩地不同的因素可能是何者呢？



- (A) 是否位處板塊接觸帶上 (B) 半島與列島之間的差異
(C) 冬季風是否經過海洋 (D) 地形主體為山地或高原

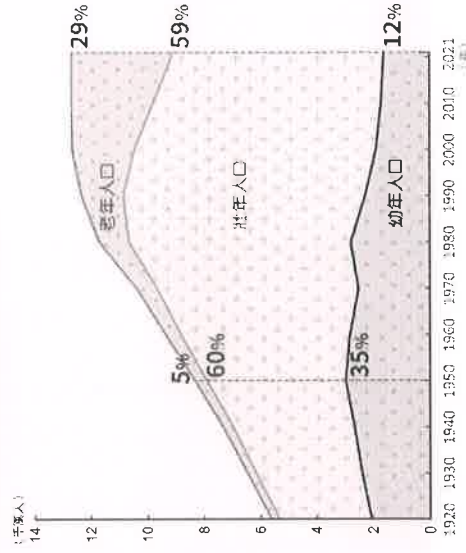
- () 4. 我們可以根据地形、雲遮量、海拔高度等資料，計算不同地區的直達日射量多寡，若直達日射量越高，就表示該區所獲得的太陽輻射量越高，例如台灣的台北、宜蘭地區，冬季降雨量較台灣其他地區多，故冬季的直達日射量也相對較低。下圖是東北亞某一座城市的每月平均直達日射量統計圖，可以發現該城市的直達日射量多寡在不同季節的差異極大，請問造成此如此大差異的原因可能是什麼呢？
- (A) 西北季風經過海洋使當地冬季多雨雪
(B) 東南季風自南方溫暖海域帶來大量水氣
(C) 季節性的鋒面過境造成當地降雨量充沛
(D) 半島地形使當地海洋調節相對較少



- () 5. 思涵預計暑假時前往日本的本州島自助旅行，她打算從金澤出發，以順時針方向環島一圈，其中箭頭部分為騎乘單車的路段。依當時盛行風向判斷，在下圖中哪一路段，她應注意來自身體左方的側風？(A) 甲 (B) 乙 (C) 丙 (D) 丁。



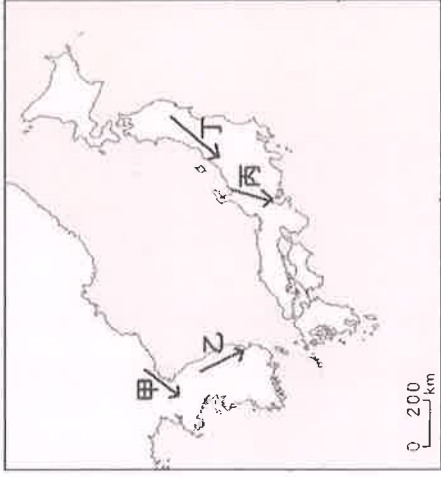
- () 6. 下圖是日本人口結構統計圖，觀察此圖可以發現，日本目前正面臨了某種社會問題。請問下列哪一個選項不是此問題對日本社會造成的影響？ (A) 智慧型農業的推廣
(B) 高度依賴國際貿易 (C) 產業空洞化的發生
(D) 推動產業機器人的研發



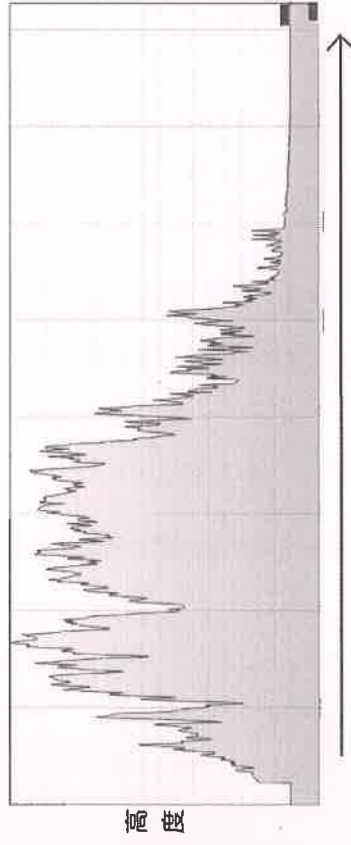
() 7. 21 世紀全球四大火藥庫中，俄烏邊界、以巴地區已爆發戰事，剩下的兩座火藥庫尚未引爆，但緊張的局勢仍讓人捏一把冷汗。在四大火藥庫中，其中一個位在亞洲地區，產生衝突的原因是因為兩國因政治、經濟體制的不同，形成一條無形的國界，造成彼此往來的障礙，而其中一國雖富含礦產，但致力於發展國防、重工業，而忽略民生，造成大部分人民生活困苦，除了遭國際譴責外，更是為兩國彼此之間緊張的關係增添陰影。請問這座火藥庫最有可能是哪兩個國家？

- (A) 南韓與北韓 (B) 日本與南韓
(C) 台灣與中國 (D) 日本與俄羅斯

() 8. Google earth 除了可以觀察到衛星影像之外，還可以藉由軟體繪製出地形剖面圖，藉由觀察地形的起伏波動，來了解當地的地形特色。下圖是東北亞某處的地形剖面圖，請判斷該圖最有可能對應到甲～丁哪個地區呢？



- (A) 甲
(B) 乙
(C) 丙
(D) 丁



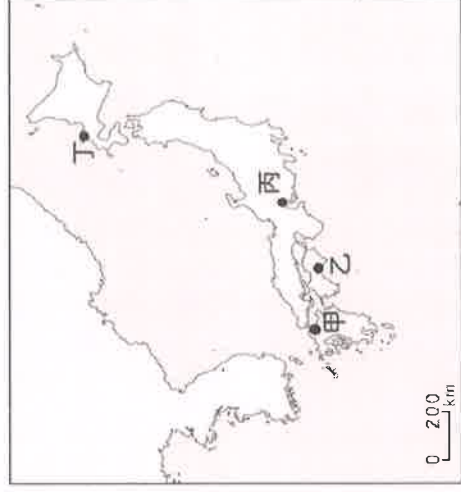
() 9. 近幾年，我們可以在南韓各大國際賽事、活動看到偶像團體的演出，例如 2018 年南韓平昌冬季奧運的閉幕式，就邀請到偶像天團 EXO 與歌手 CL 登台演出，為奧運獻上完美的句點，藉由「韓流」的龐大粉絲，向更多民眾推廣韓國文化，進一步打響韓在國際能見度，帶動韓國觀光、飲食發展。根據上文，我們可以推測出韓國的哪一個文化特色呢？

- (A) 以標準化的訓練流程來產具有國際競爭力的全球性藝人
(B) 結合地方祭典與傳統產業，作為宣傳韓國文化產業的主軸
(C) 由政府主導文化產業的發展，推動法案與相關產業的規劃
(D) 以流行文化為發展主軸，為全球文化產業主要輸出國之一

<題組一>

下屆 2026 年的亞運會將由日本愛知縣名古屋市接棒，常去日本旅遊的民眾一定對愛知縣與名古屋不陌生，愛知縣的人口眾多，其首府名古屋市人口更是多達 200 多萬人，為什麼當地會有如此大的拉力吸引人口聚集呢？主要是因為位在本州島上的愛知縣，是日本的製造業和工業生產的重心，由於豐田汽車的創立，帶動當地汽車產業的發展，使得愛知縣成為日本最大的汽車產業群所在地，豐田汽車總部與其他汽車相關企業皆設立於此；除了汽車工業外，結合當地的大學與研究機構，機器人、航太、新創產業也成為愛知縣工業發展的重點。工業的發達，造就愛知縣的強大競爭力。

() 10. 根據文章內容，請問愛知縣最有可能位在甲～丁哪一個地方？(A) 甲 (B) 乙 (C) 丙 (D) 丁



() 11. 根據上述畫線的愛知縣工業特性，我們可以推敲出日本工業的哪一個特性呢？

- (A) 因人口老化與工資上漲使製造業外移
(B) 工業區主要分布在靠太平洋沿岸的平原區
(C) 重視產品進出口使國際貿易成為其經濟命脈
(D) 汽車產業及高科技工業為其工業發展主軸

<題組二>

「筷子」是我們常使用的餐具，除了台灣之外，日本與韓國自古以來也都有使用筷子的習慣，主要是因為這些國家都因地緣因素而深受鄰近的「某國」文化影響。但如果我們仔細觀察，會發現日、韓與「某國」的筷子仍有很大的差異，像是「某國」的筷子形狀為頭圓尾方，有天圓地方之吉祥之意；而日本的筷子頭較尖，細尖的筷子頭方便日本人挑魚刺、撿魚肉；韓國因飲食習慣多為湯、泡菜等醃製食品，為了方便清洗，多使用不銹鋼材質。

() 12. 日韓使用筷子是受「某國」的影響而產生的文化，除了筷子外，在建築、服裝、節慶等也都可以看到該國文化的身影。請問「某國」最有可能是哪一個國家？

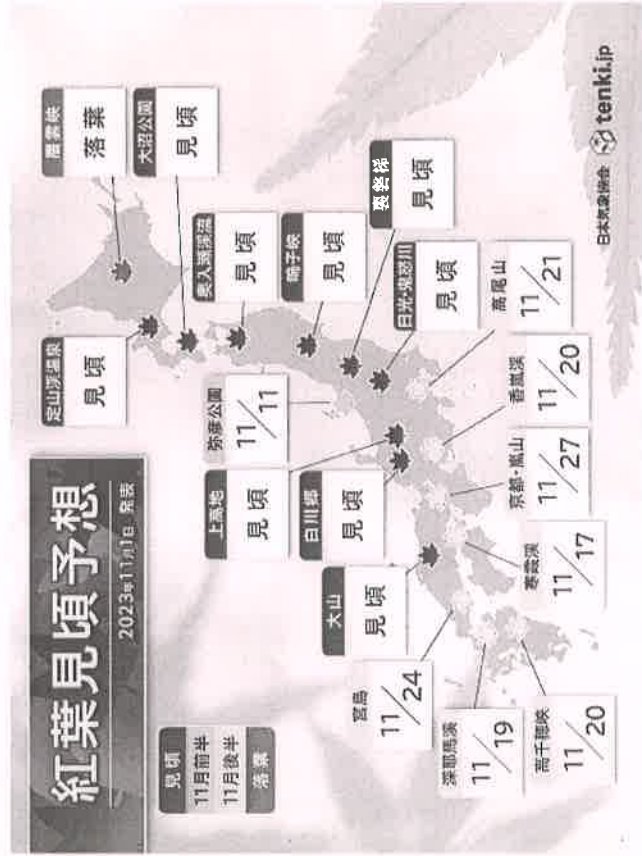
- (A) 台灣 (B) 朝鮮 (C) 蒙古 (D) 中國

() 13. 雖然因受他國文化影響，而有使用筷子的飲食習慣，但日韓的筷子仍有所不同，請問這種差異最有可能是哪個因素造成的？(A) 受外來文化影響而使傳統文化發生改變

- (B) 以凸顯自身文化的不同來提升民族意識
(C) 為適應當地自然環境而衍生出自身文化特色
(D) 藉由差異讓國際能區分東北亞不同國家的文化

<題組三>

賞楓是秋季到日本旅遊最熱門的行程之一，我們可以從日本氣象協會(TENKI.jp)的網站來評估日期，網站內有更新日本各地最新的紅葉資訊，讓旅客能夠輕鬆且快速的獲得楓紅預測時間，以便規劃行程。下圖是2023年11月1日發表的日本楓葉最佳觀賞時間預報，預報分為「見頃」(正值最佳觀賞時間)、「11月前半」、「11月後半」、「落葉」四個觀賞時間段，請觀察圖片後回答問題：

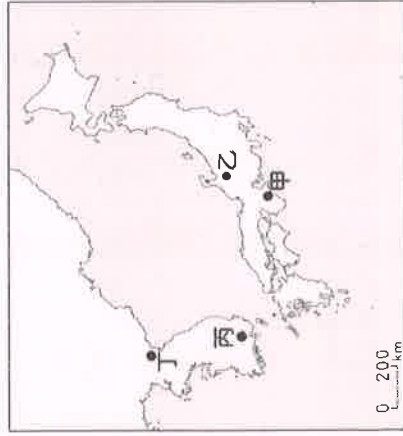


- () 14. 根據觀察，我們可以發現日本各地的楓紅時間大致上是
由北往南，這和哪一個因素最有關係？
(A) 緯度 (B) 地形 (C) 季風 (D) 距海遠近
- () 15. 上高地的位置較南方，但楓紅時間卻與位在北海道的大沼公園相同，請問可能是什麼因素造成這種現象發生呢？
(A) 大沼公園據海較近 (B) 上高地有暖流流經
(C) 上高地迎西北季風 (D) 上高地的地勢較高

<題組四>

若是冬季到日本旅遊，不妨規劃一場「岐阜之旅」吧！位在本州島中部的岐阜縣，因地理位置關係，冬季位在迎風坡，造成雪量多，隨著地點不同還有可能觀測到超越180公分積雪，因而成為日本知名的滑雪勝地，擁有超過20座的滑雪場，每年冬季都吸引大批人潮前往觀光；此外，電影《你的名字》許多場景就以岐阜縣飛驒市為原型設計，粉絲們爭相前往朝聖，進而興起一股「聖地巡禮」的風潮，尤其是飛驒古川車站，更是因電影而成為知名打卡景點，飛驒市成為一個因電影而聞名的市鎮。有如此多吸引人之處，還不快買機票將岐阜縣玩透透吧！

- () 16. 請根據文章內容，請問岐阜縣最有可能位在圖中甲～丁哪一個地方？ (A) 甲 (B) 乙 (C) 丙 (D) 丁



- () 17. 「聖地巡禮」指的是造訪動漫場景在現實社會中的原型，岐阜縣飛驒市也因電影《你的名字》而聲名大噪，成為聖地巡禮的首選之一。請問聖地巡禮反映出日本文化產業的哪一個特色？
(A) 結合彩妝等時尚產業提高附加價值
(B) 文化業帶動觀光等相關產業的蓬勃發展
(C) 以傳統文化與地方祭典來行銷地方特色
(D) 政府扶植並投入大量資金以協助產業發展

【歷史】共34分

- () 18. 從十九世紀末開始到二十世紀中，日本可謂一路崛起，成為東亞甚至是世界的霸權國家。關於日本的崛起之路，下列敘述何者正確？
(A) 最初因為遭遇英國的武力挑戰，日本展開明治維新
(B) 明治維新成功後，日本對外最早的侵略行動即成功將臺灣併吞為殖民地
(C) 日俄戰爭的勝利，使日本確立在東亞的強國地位
(D) 日本明治維新時期因要加大政府力量，故而刻意削減天皇的權威。
- () 19. 請問：下列關於清代晚期，城市新風貌的敘述何者錯誤？
(A) 民眾讀報紙、雜誌可得知各種新觀念
(B) 西服、洋裝取代傳統服飾改變審美觀
(C) 吃西餐、喝咖啡成為時尚的生活表現
(D) 現代化生活的發展拉近了城鄉的差距
- () 20. 下圖是民國初期的國小教科書，按文中所述，中國與外國關係不對等，受到不平等待遇，請問：這種局勢的形成是以清末哪一場戰爭為發端？ (A) 鴉片戰爭 (B) 英法聯軍 (C) 甲午戰爭 (D) 八國聯軍。



- () 21. 晚清眾多對外戰爭的失敗，對中國外交上的打擊便是「天朝體制」瓦解，被迫接受與其他國家是「國與國」的關係，而非「宗主國與保護國」的關係。下列何項措施足以顯示清帝國「天朝體制的瓦解」？
(A) 設立公行專責貿易事務 (B) 允許英國遣使謁見皇帝
(C) 下詔預備立憲 (D) 設立總理各國事務衙門。
- () 22. 因為戰爭的失敗，光緒皇帝下詔進行「戊戌變法」的改革。請問：下列選項中，何者可能是這次改革的內容？
(A) 主要著重模仿西方器物，講求船堅炮利、富國強兵
(B) 改革中廢除科舉，結束了持續一千多年的選才辦法
(C) 設立中國第一個辦理外交事務的「總理各國事務衙門」
(D) 謀求制度層面的革新，並落實新式教育體制的建立

() 23. 以下是對某一雜誌的評價：

在中國發行最久，影響最大的一份雜誌，當時的人稱「西學新知之總薈」。

由於其廣泛介紹西方各國的地理、歷史、政治等，從李鴻章、張之洞這些重要的政府官員到日本天皇，都長期訂閱這份雜誌。

新民叢報

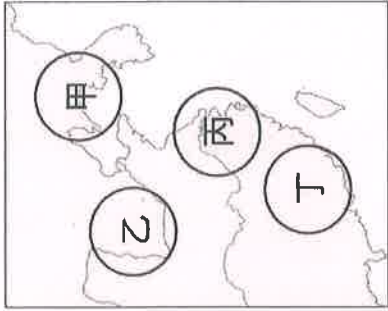
萬國公報

美虎島

自由中國

請問：影響如此大的雜誌應是下列何者？

- (A) (B) (C) (D)
- () 24. 屈臣氏是中國歷史最悠久的藥房之一，最早可以追溯到 1820 年皮爾森及李文斯頓在澳門開設的「澳門藥房」。在 19 世紀中後期，屈臣氏成功在中國各地開辦多家分號，成為成功的連鎖企業，同時發展汽水、飲料生產以及酒類進出口生意。請問：19 世紀後期屈臣氏集團能迅速在通商口岸設廠製造汽水飲料等產品的原因為何？
- (A) 領事裁判權的簽訂 (B) 馬關條約的簽訂
- (C) 自強運動的改革 (D) 英法聯軍洋人勢力深入內地
- () 25. 1906 年，日本大阪的朝日新聞社招募旅行團，旅遊的主要行程之一為參觀甲午戰爭的戰場遺跡。據此判斷，當時旅行團前往遊覽的地區最可能是下圖中甲、乙、丙、丁何處？
- (A) 甲 (B) 乙 (C) 丙 (D) 丁。



- () 26. 中國受到西方勢力刺激下，決定推動自強運動，並以軍事建設與富國利民為目標，但最後仍舊被視為一場失敗的改革。請問：下列何者並非其失敗的原因？
- (A) 過度偏重器物層面的改革
- (B) 守舊人士無法接受新政，發動政變
- (C) 地方官員各自為政，使改革成效有限
- (D) 改革內容未做好整體的規畫。
- () 27. 附表是一件發生在中國境內的案件審判概況，根據內容判斷，此審判最可能出現在下列何時？
- (A) 十七世紀前期 (B) 十八世紀前期
- (C) 十九世紀後期 (D) 二十世紀後期。

審判概況	
審判地點	廈門的美國領事法庭
裁決者	美國駐廈門領事館總領事
陪審員	三人，包括一名美國領事館代表
被告	美國公民 J.H. Edward
罪名	於中國非法徵募及販運勞工至國外
判決	依美國法律判決一年監禁、罰款一千美元

- () 28. 李彌是清末的知識分子，他本欲參加三年一度的科舉，但是政府卻宣布考試即將廢除，科舉取士的時代即將走入歷史，使得李彌及其同窗好友都十分的恐慌。請問：科舉的廢除與何事有關？ (A) 立憲運動採取西化教育制度
- (B) 戊戌變法設立新式教育機構
- (C) 庚子後新政的推動 (D) 實行自強運動。
- () 29. 這場戰爭先後入侵了中國兩次，讓清朝首都北京第一次遭到攻陷，有萬園之園封號的圓明園遭到洗劫，也對中國帶來莫大的影響。有關這場戰爭的描述何者有誤？
- (A) 導致臺灣開港通商，進入世界貿易體系
- (B) 中國出現變法和革命兩種救國路線之爭
- (C) 使外人勢力深入中國內地，加深知識分子危機感
- (D) 促成自強運動推行，劉銘傳等人亦在臺灣進行現代化建設。
- () 30. 李鴻章可說是清末最重要的影響人物之一，下列哪一個事項與他最有關係？
- (A) 他是自強運動的重要推手，規劃了中國第一條鐵路與新式北洋艦隊
- (B) 他主張查禁鴉片，給予英國出兵藉口
- (C) 他是戊戌變法的倡導者，深得光緒皇帝賞識
- (D) 他是南京條約的簽訂者，主導將臺灣、澎湖割讓給日本
- () 31. 「神助拳、000，只因鬼子鬧中原……。拆鐵道、拔線杆，緊急毀壞火輪船。大法國、心膽寒，英美德俄盡消然。洋鬼子、盡除完，大清一統靖江山」上述為清末某民間團體的設立宗旨，請問下列敘述何者有誤？
- (A) 宗旨中的 000 應填入義和團
- (B) 這個團體的出現與清末中國仇洋反教風氣盛行有關
- (C) 這個團體以「扶清滅洋」為口號，因而受到清朝政府支持
- (D) 慈禧太后對這個團體的縱容最終導致英法聯軍入侵
- () 32. 清末曾有人說：「而今也於東方大陸，有最大之國，最腴之壤，最腐敗之政府，最散弱之國民。彼族一旦窺破內情，於是移其所謂民族帝國主義者，如群蟻之附羶，如萬矢之向的，離然而集注於此一隅。彼俄人之於滿洲，德人之於山東，英人之於揚子江流域，法人之於兩廣，日人之於福建，亦皆此新主義之潮流，迫之不得不然也。」意思是中國政局腐敗，國土被帝國主義侵略者占據瓜分。依照這位知識分子所描述的清朝政局推斷，這應該是哪一場戰爭後，才有如此的局勢？
- (A) 鴉片戰爭 (B) 英法聯軍 (C) 甲午戰爭 (D) 八國聯軍

- () 33. 根據下列三則資料所呈現的觀點，下列敘述哪一項是正確的？
(A) 三則資料都主張女性應該要受教育
(B) 提出資料一觀點的有可能是中國革新派人士
(C) 資料二是站在國家富強的觀點提倡女學
(D) 資料三提倡以基督教立國才能讓女子獲得適切發展。

資料一：「女子通文識字……便喜看曲本小說，挑動邪心，甚至舞文弄法，做出無醜事，反不如不識字，守拙安分之為愈也。女子無才便是德。可謂至言。」

資料二：「天下積弱之本，則必自婦人不學始……西方全盛之國，莫美若；東方新興之國，莫日本若。男女軒輊之論，大倡於美，而漸行於日本。……女學最盛者，其國最強……女學衰，母教失，無業眾，智民少，國之所存者幸矣。」

資料三：「凡奉基督教而立國者，必興辦女學以成就女子，使女人得以各就其所能獲得適切的發展，成為有用之材，更可能勝於男人，表明女子亦為可敬可重之人。」

- () 34. 自古以來，能夠享受遊園之樂的多為官宦富豪。因此，曾在西元 1876~1881 年間出使歐洲的中國官員，對國外可供平民遊憩的「公園」感到印象深刻。而在這個官員回國後不久，上海於西元 1886 年在租界內出現了全中國第一座歐式公園。請問：關於這座公園的敘述，何者正確？
(A) 這座公園應該是清政府在看完該官員報告之後下令建造的
(B) 這座公園應該是在生活在當地的西方僑民所建造的
(C) 為了維護治安，中國政府會派警察在公園巡邏
(D) 當時的中國人把去「公園」遊憩視作低俗媚外的行為。

【公民】共 32 分

- () 35. 臺北市議員接獲市民的陳情，表示在臺北市人口密集區的巷弄內，有法定空地被放置火爐，甚至已引發火災事件。議員指出，先前居民已不斷陳情、要求查報處理，但市府卻未提供有效的解決辦法。而後，臺北市建築管理工程處回應，法定空地被放火爐已列連建查報，若逾期未改善將強制拆除。關於上文的敘述何者正確？
(A) 市議員運用民意調查來解決問題
(B) 民眾以直接方式向政府表達意見
(C) 民眾反應意見的方式又稱為公投
(D) 民眾透過網路參與平臺表達意見。
- () 36. 下列有關我國公民選舉權與被選舉權的敘述，何者正確？
(A) 年滿 18 歲即有選舉權
(B) 年滿 20 歲即有擔任民選公職候選人的權利
(C) 被宣告褫奪公權者，不得擔任公職候選人
(D) 受到監護宣告者，可以由其親屬代為投票。

- () 37. 有府城之稱的臺南市，向來以美食與歷史古蹟吸引觀光客的到來。除了觀光資訊外，下列事項也是近日與當地相關的熱門話題：

熱門話題排行榜		
疫情相關	公共相關	房市相關
① 確診	① 環境	① 房價
② 防疫	② 酒駕	② 不動產
③ 疫苗	③ 南科	③ 建物

由上圖可以看出公共意見的什麼特性？

- (A) 議題性 (B) 複雜性 (C) 變動性 (D) 影響性。

- () 38. 下列四人的作為，何者屬於利益團體的活動？

- (A) 甲 (B) 乙 (C) 丙 (D) 丁。

(甲)	星期天我要代表學校去參加全國樂社絲竹賽
(乙)	我要爭取黨內的提名，參與年底的直轄市長選舉
(丙)	我要參加社區成立的守望相助巡守隊
(丁)	我們基金會要走上街頭，要求政府重啟美牛輸臺談判

- () 39. 民主黨贏得總統大選以後，提出內閣各部會首長名單，準備上任後即全面開展政務，進行改革。上述民主黨的做法落實了政黨的何種功能？ (A) 匯集民意與服務選民
(B) 提名候選人參與選舉 (C) 組織政府將政見落實為政策
(D) 教育民眾增進民主認知。

- () 40. 我國國民在面對新冠肺炎疫情時，可透過接種疫苗來降低染疫風險，但逾期停留或逾期居留的外國人卻無法接種疫苗，一旦染疫後，可能也無法得到適當的醫療服務，甚至危及他們的生命安全，因此有民間團體呼籲政府應將這些人納入公費疫苗施打對象。後來，政府基於防疫需求與風險控管，在國內疫苗供應充足的情況下，以專案方式為這些人施打疫苗。上述民間團體的呼籲隱含下列哪一點？ (A) 公民參政權應受到重視
(B) 政府應得到人民定期授權
(C) 國家權力應受制衡以免濫用
(D) 基本人權應受到普遍性保障

- () 41. 以下是阿金上星期的活動紀錄：

- (甲) 觀看電視轉播的政見辯論會
(乙) 參加市政府舉辦的馬拉松比賽
(丙) 投書到報章雜誌，發表對防疫政策的看法
(丁) 參加利益團體舉辦的反貪腐遊行活動
- 請問何者屬於政治參與？

- (A) 甲丙丁 (B) 甲乙丁 (C) 甲乙丙 (D) 乙丙丁。

- () 42. 以下是幸福國的選舉規定：凡是大學畢業，且年收入在一百萬元以上的男性，不分宗教、種族、黨派，都具有投票的資格。請問：幸福國的規定違反了我國的何項選舉原則？ (A) 普通 (B) 平等 (C) 直接 (D) 無記名。

- () 43. 小英有感於目前的教育存在著許多問題，於是想要成立一個教育改革團體，並規畫團體的工作內容。下列哪種規畫不符合「利益團體」的運作方式？
- (A) 號召成員支持有教育改革理念的民意代表
(B) 在政府民意信箱發表教育改革的建議
(C) 定期舉辦集會活動，號召有志青年的加入
(D) 擬定政見，在選舉中爭取選民的支持。

- () 44. 中選會依法每 10 年調整立委選區。由於我國各直轄市、縣市的人口數互有增減，因此中選會提出西元 2020 年區域立委選區變更案，最後決定臺南市和新竹縣將各增加 1 席，高雄市及屏東縣則各減 1 席，以拉近各區域的人口數。區域立委選區的變更，目的是為符合下列何種選舉原則？
- (A) 普通 (B) 平等 (C) 直接 (D) 無記名。

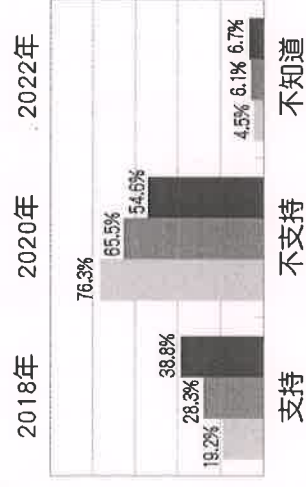
- () 45. 選舉委員會在選舉投票前，透過大眾傳播媒體呼籲，其宣導內容如附圖：

請選民不要攜帶手機或任何具照相、錄影功能的器材進入投票所，不然會被處以 3 萬元到 30 萬元罰鍰，如果選民是使用攝影器材刺探選舉人圈選選舉票內容，還會被重罰 5 年以下有期徒刑，併科 50 萬元以下罰金，被查獲的攝影器材也會被沒收。

上述規定，應與下列何種選舉原則最有關係？

- (A) 普通 (B) 平等 (C) 直接 (D) 無記名。

- () 46. 下圖為國人對日本福島暨周邊四縣市農產品及食品開放進口態度的三次民意調查數據：



由圖中內容可以看出公共意見的何種特性？

- (A) 複雜性、影響性 (B) 複雜性、變動性
(C) 變動性、影響性 (D) 影響性、議題性。

- () 47. 下列關於我國公民投票的敘述，何者正確？

- (A) 需年滿 20 歲
(B) 戶籍需設在選舉區達 4 個月以上
(C) 人民透過公民投票選出公職人員，落實憲法所保障的創制、複決權
(D) 公投的過程為提案→連署→公告→投票。

- () 48. 戶籍地一直設在花蓮縣的秦希，今年剛滿 30 歲，若想要今年年底的地方選舉，僅依照戶籍地與年齡限制，他下列哪些公職人員的參選資格？

- (A) 甲乙戊己庚辛壬 (B) 丙丁戊己庚辛
(C) 丙丁戊己壬 (D) 丙丁庚辛壬。

- (甲) 直轄市長
(乙) 直轄市議員
(丙) 縣市長
(丁) 縣市議員
(戊) 鄉鎮市長
(己) 鄉鎮市民代表
(庚) 直轄市山地原住民區長
(辛) 直轄市山地原住民區民代表

(壬) 村里長

- () 49. 在民主政治中，公共意見扮演著重要的角色。請問：關於「公共意見」的描述，下列何者錯誤？

- (A) 又稱為民意
(B) 必須超過半數以上的民眾達成共識，才可稱為公共意見
(C) 是民眾針對公共事務、政府政策等議題，公開表達的集體意見
(D) 公共意見是政府制定和執行政策的依據。

- () 50. 下列是關於政黨與利益團體的敘述：

- (甲) 政黨成立的目的是為了獲得執政的權力
(乙) 為了影響政府的政策，利益團體常會提名候選人參與選舉
(丙) 政黨關注的議題較單一，且多與自身利益有關
(丁) 兩者皆是民眾表達公共意見的管道
請問有哪些敘述是正確的？
- (A) 甲丁 (B) 甲乙 (C) 乙丙 (D) 丙丁。