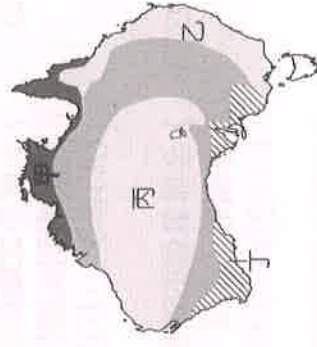
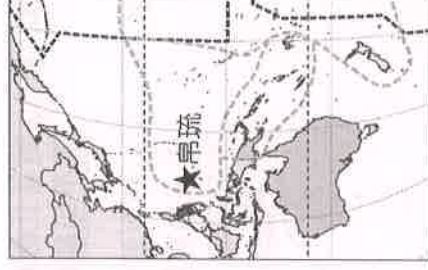
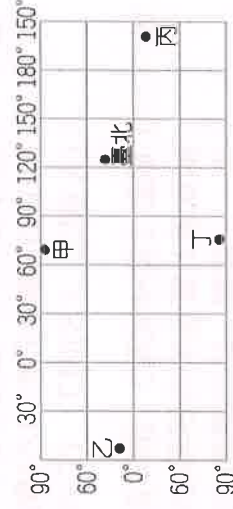
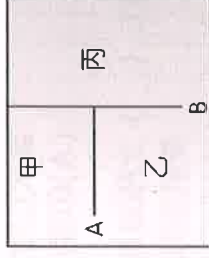


※ 注意！答案請以 2B 鉛筆畫入答案卡。 年級請劃：九 科目代碼請劃：

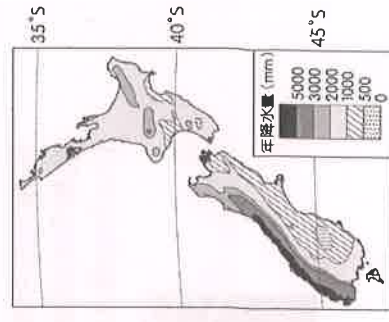
13

第一部分 第五冊北美洲、中南美洲：每題 2 分，共 62 分

1. ( ) 右圖為大洋洲的簡圖，其中甲、乙、丙分別代表三大群島，而 A、B 代表其分界線。請問：**A** 界線與下列哪一條線相符？  
(A) 赤道 (B) 本初經線 (C) 180 度經線 (D) 北回歸線。
2. ( ) 「該島嶼的地勢較低，因此儘管四面環海，卻無法攔截降水。再加上土地面積狹小，故農業活動不發達，以浮潛觀光為主。」由上文判斷，應該為何種性質的島嶼？  
(A) 沙洲島 (B) 火山島 (C) 大陸島 (D) 珊瑚礁島。
3. ( ) 「當地雖然陸地範圍很大，但是因為緯度高、年均溫低，除了一些探險家或科學家之外，幾乎沒有什麼人居住。」上述地區最可能位於右圖中的何處？  
(A) 甲 (B) 乙 (C) 丙 (D) 丁。
4. ( ) 詔建參加紐澳十日遊，旅途中看到特殊 U 型谷地形，導遊介紹這是冰河地形的**一種**，由此推測，詔建最可能前往下列何處旅遊？  
(A) 澳洲東北部 (B) 澳洲西南部 (C) 紐西蘭南島 (D) 紐西蘭北島。
5. ( ) 帛琉已從 2020 年起禁用對珊瑚礁有害成分的防晒乳液，因為其中的化學物質二苯甲酮和甲氧基肉桂酸辛酯會造成珊瑚白化。參考右圖位置，該項禁令可以預防流入海洋的防晒乳最先影響到哪一海域？(A) 大西洋 (B) 太平洋 (C) 印度洋 (D) 北極海。
6. ( ) 近年來，美國加利福尼亞州幾乎年年發生嚴重山林火災，由於不少居民住在城市近郊山區，因此造成不少生命財產的損失。下列何種氣候異常最容易引發森林大火？  
(A) 颱風 (B) 寒流 (C) 乾旱 (D) 沙塵暴。
7. ( ) 2015 年 7 月紐西蘭商品價格指數創下史上最大單月跌幅，其中紐西蘭某項最重要出口商品價格下跌幅度高達 23.1%，被認為是這波經濟衰退的主因。若以紐西蘭的經濟發展加以判斷，上述的重要出口商品最可能為下列何者？  
(A) 鐵砂 (B) 乳製品 (C) 小麥 (D) 石油。
8. ( ) 澳洲境內的農牧業活動因為下列何種特色影響，因此有許多農牧產品得以外銷，成為重要的出口國？  
(A) 生產量大、人口稀少 (B) 品質優良、價格低廉  
(C) 跨國投資、租稅優惠 (D) 殖民經濟、勞力眾多。
9. ( ) 澳洲為位於大洋洲上的最大島嶼，面積廣大而有「島洲」的稱號，右圖為澳洲的氣候分區圖，請根據圖中的位置判斷，**丙** 區的氣候特徵為何？  
(A) 高溫多雨 (B) 乾溼分明 (C) 乾燥炎熱 (D) 夏乾冬雨。
10. ( ) 《南極條約》旨在約束各國在南極洲這塊大陸上進行的活動。請問：南極的主權屬於下列哪一個國家？(A) 美國 (B) 智利 (C) 聯合國成員共有 (D) 不屬於任何國家。
11. ( ) 右圖為荷蘭鹿特丹到美國舊金山的兩條海運航線。圖中甲航線為全年的航線，而乙航線雖然距離較短，但目前僅限於夏季通行，未來可能也可全年通航，其主要原因為何？  
(A) 板塊擠壓 (B) 全球暖化 (C) 冰河侵蝕 (D) 地層下陷。
12. ( ) 以下為四位同學發表對紐西蘭的意見。請問：下列何者說法**正確**？  
(A) 東耀：「地廣人稀，畜牧業以放牧為主。」  
(B) 采衣：「南島因緯度較低，故人口集中。」  
(C) 正宇：「東側降水量較多，是因為信風造成的。」  
(D) 智婷：「北島多火山，南島多石灰岩，是活的地形教室。」
13. ( ) 根據右圖中紐西蘭的降水量分布圖判斷，影響紐西蘭降水量分布的原因為下列何者？  
(A) 暖流經過 (B) 西風吹拂 (C) 地勢較高 (D) 緯度較高。
14. ( ) 美國前副總統在 21 世紀初期出版《不願面對的真相》一書，闡述他對於氣候變遷的觀察及全球暖化所造成影響，在全世界造成轟動，人們開始意識到該問題的嚴重性。造成上述這種現象的主要原因，**不包括**下列何者？  
(A) 大量森林砍伐，影響溫度調節 (B) 工業快速成長，排放二氧化碳  
(C) 都市鋪設水泥，吸熱溫度上升 (D) 農地及養殖漁業超量抽取地下水。



—— 甲航線    ---- 乙航線





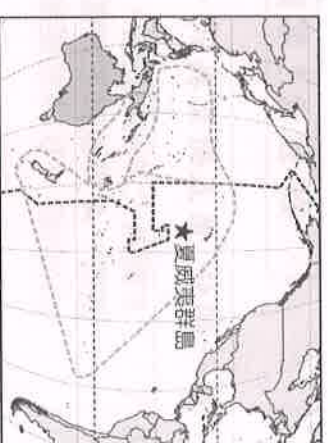
15. ( ) 下列哪一種產業的收入已超過原來的農、漁業，成為大洋洲的新財源？  
(A)工業 (B)林業 (C)畜牧業 (D)觀光業。

16. ( ) 夏威夷群島有地球最大活火山「毛納羅亞火山」，2022年11月爆發時，大量火山灰、有毒氣體及岩漿湧出，雖沒有造成傷亡，但美國地質調查局提出警告，風會夾帶火山氣體，下風地區仍須注意細小火山灰和火山絲。根據圖中內容判斷，該火山位於哪一群島？

(A)印度尼西亞 (B)美拉尼西亞 (C)密克羅尼西亞 (D)玻里尼西亞。

17. ( ) 北極海為各大洲間的最短航線，所以航空交通相當發達。請問：飛越北極海的主要航空路徑不包括下列何者？

(A)北美洲—歐洲 (B)亞洲—北美洲 (C)亞洲—非洲 (D)歐洲—亞洲。



18. ( ) 地球環境的永續發展目標，須借助世界各國的通力合作，方能成功。下列各項措施中，哪些有利於地球永續發展？

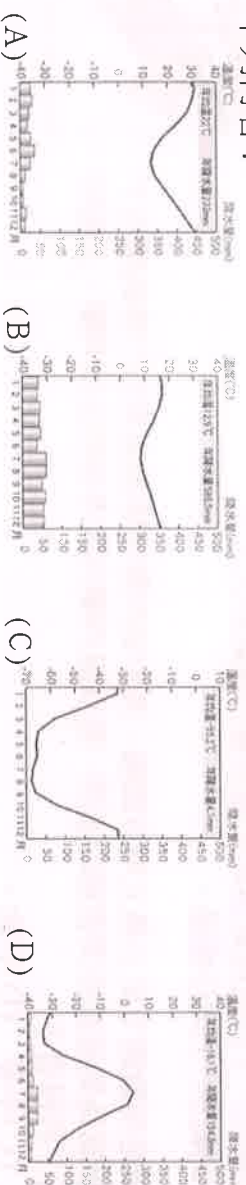
(甲)充分開發土地 (乙)發展綠色能源 (丙)做好資源回收 (丁)鼓勵生育下一代  
(A)甲乙 (B)丙丁 (C)甲丁 (D)乙丙。

19. ( ) 電影《雷神索爾3：諸神黃昏》的導演 Taika Waititi 接受訪問時說：「我們毛利人是非常會搞笑的民族，而且我們的幽默感其實是來自很黑暗的地方，這是被歐洲殖民壓迫將近200多年造成的結果，所以我把這些文化內涵融入電影裡面。」請問：此位導演的故鄉最有可能是下列哪一個國家？

(A)紐西蘭 (B)菲律賓 (C)澳大利亞 (D)吉里巴斯。

20. ( ) 隨著北極地區海面冰層的逐漸消融，各國開始競相掌控埋藏在冰面下的天然資源和海上航道。請問：下列哪一個國家最不可能參與此一爭奪戰？ (A)阿根廷 (B)加拿大 (C)俄羅斯 (D)美國。

21. ( ) 心好在新聞網站查閱到以下報導：「澳洲政府近期在南極開放了約150個職缺，召集各地人才一起到南極研究中心工作，最高薪資可達600萬臺幣，心動不如馬上行動！」依據新聞內容判斷，獲選上述職缺的工作所在地點氣候圖應為下列何者？



22. ( ) 右圖是北極從晚上8點到凌晨4點某一種特殊景象的連續照片，當地何種季節較容易看到此種特殊奇景？

(A)春季 (B)夏季 (C)秋季 (D)冬季。



23. ( ) 全球氣候的改變，不僅影響到人類生活，也造成生物棲息範圍的變化。比如：分布在臺灣南部的埃及斑蚊，逐漸往中部擴散。請問：造成上述全球氣候改變的原因為何？

(A)空氣中甲烷濃度下降 (B)空氣中二氧化碳濃度增加 (C)海平面高度下降 (D)全球平均氣溫降低。

24. ( ) 位於大洋中的島國吉里巴斯是全世界最早迎接日出的國家，當地的太陽被稱為「世界最早的太陽」，這和下列何項因素的關係最大？

(A)接近赤道，緯度低日出早 (B)鄰國際換日線，最早跨入新的一天  
(C)位於極圈內，當時為永晝 (D)位於本初經線上，經度最小。

25. ( ) 紐西蘭與澳洲的特有生物比例較高，如紐西蘭的鸚鵡鵡，自史前時代移居紐西蘭後，曾經廣泛分布於紐西蘭全境，成為當地三種最常見的鳥類之一。後來因人類登島活動，加上玻里尼西亞人及歐洲殖民者移入時，引入貓、鼠與鼬等生物，吃掉大量無法飛行的鸚鵡鵡(尤其是幼鳥與蛋，更無法倖免)，使其逐漸瀕臨絕種。請問：紐、澳特有生物比例較高的主要原因為何？

(A)位置孤立，外力干擾低。 (B)島嶼面積較小 (C)過去曾為殖民地 (D)氣候溫和溼潤有利生物繁衍

26. ( ) 圖(一)為澳洲國旗，圖(二)為紐西蘭國旗。觀察兩國國旗可發現，都是藍底搭配左上角米字旗的設計，僅旗面上星星的顏色和角度不同；紐西蘭總理曾控訴澳洲抄襲他們的國旗設計，應該更換。由旗面資訊判斷，澳、紐兩國的國旗如此相似的原因為何？

(A)皆地處西風帶 (B)皆位於東半球 (C)皆曾被英國殖民 (D)皆加入亞太經濟合作會議。



(圖一)



(圖二)



## 題組

※ 臺灣學子對於澳洲「打工度假」(Working Holiday)一定不陌生。步調緩慢的生活節奏、舒適宜人的氣候、比臺灣高出多倍的最低起薪，以及又能精進外國語文的聽說能力，各種原因吸引不少臺灣人前往夢想的國度。有些是感嘆臺灣的工資過低，想到外面的世界闖一闖；有些是想要體驗人生，感受不同的文化；有些人更是想都沒想就勇敢地來了。附圖為澳洲的絕對位置簡圖。請問：

27. ( ) 若從臺灣搭飛機到澳洲的大都市雪梨，由圖中資訊判斷，飛機應朝哪個方向飛行？

(A)東南方 (B)東北方 (C)西南方 (D)西北方。

28. ( ) 思涵利用暑假到澳洲遊學打工，抵達當地時，她發現居然與臺灣沒有時差。請問：

思涵可能位於圖中何處？ (A)甲 (B)乙 (C)丙 (D)丁。

29. ( ) 思涵從臺灣出發時，正好是夏天，當她抵達澳洲時，會發現當地正值哪個季節？

(A)春季 (B)夏季 (C)秋季 (D)冬季。

30. ( ) 上文中提及的「外國語文」是指下列何者？

(A)英語 (B)日語 (C)法語 (D)西班牙語。

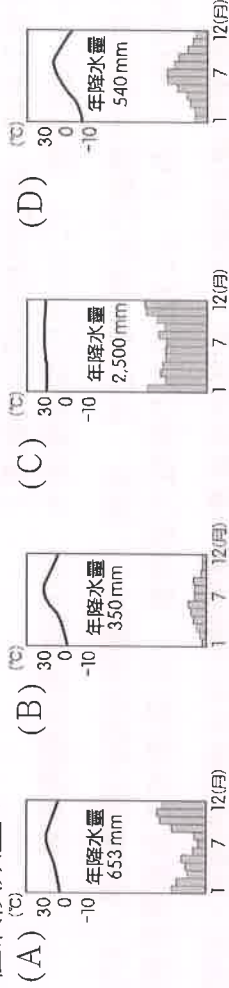


※ 透過科技的發展，我們原本美麗的地球出現了各種問題，隨著人類生活水準不斷提升，我們的環境卻在哭泣。如何兼顧大自然的永續發展和人類的經濟開發，成為當今國際重要的課題。附圖為全球簡圖，請問：

31. ( ) 電影《明天過後》假想地球的溫室效應加劇，最後造成海水面上升，使沿海城市沒入水中，人類文明遭受無情的摧毀。請問：電影中情節與附圖中何處冰層融化有關？ (A)甲 (B)乙 (C)丙 (D)丁。



32. ( ) 雨林的過度砍伐也會加速全球暖化的現象。請問：雨林主要分布於下列哪一種氣候類型？



## 第二部分 第三冊：每題 2 分，共 36 分

33. ( ) 中國內蒙古高原地區的沙塵經由風力的吹送，漂洋過海來到臺灣，影響臺灣人民的日常生活。由上述判斷，中國內蒙古的沙塵是受到哪一個季節風向的吹送而來到臺灣？ (A)春季 (B)夏季 (C)秋季 (D)冬季。

34. ( ) 「由中國政府主要資助或贊助的龐大全球基礎設施開發項目，自2013年正式公布以來，掀起了極大的熱情，也引發了巨大的擔憂。一些人認為這個戰略計畫中的巨型項目可以降低國際貿易的成本，支撐窮國的經濟轉型，另一些人則指責中國利用此計畫暗中竊取政治利益，整個行動是債務陷阱外交。」文中所指的計畫，最可能是下列何者？

(A)一帶一路 (B)西部開發 (C)經濟特區 (D)東部率先發展。

35. ( ) 中國各地的地理環境不同，影響其農業活動的發展。請問：老王到附圖中的「丁」處旅遊，見到其農業活動的進行，這和當地具備何種條件有關？

(A)沖積土壤肥沃 (B)綠洲水源豐富 (C)年降水量豐富 (D)農業勞力充足。



36. ( ) 雅婷老師到中國某地進行學術交流，她發現當地冬季嚴寒，最冷月均溫低於 0℃；且降水分布呈現乾溼分明的情況，年降水量介於 500~750mm 之間。請問：該地應屬於下列哪一種氣候類型？ (A)高地氣候 (B)乾燥氣候 (C)溫帶季風氣候 (D)熱帶季風氣候。

37. ( ) 工業的原料與產品均需仰賴交通運輸，因此，交通發展狀況也常被用來作為衡量一地經濟發展的指標。若要利用圖示來呈現中國交通與工商業發展的關係，則下列那一張圖最正確？



(A)



(B)



(C)

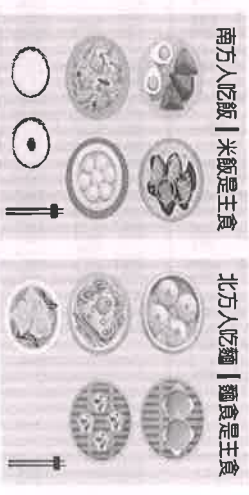


(D)

《下一頁還有試題喔！》



38. ( ) 中國自一九八〇年代起，由於經濟改革開放，許多鄉村人口非法遷移到都市工作，造成都市人口管理上的問題，尤其每年「春運」的過年返鄉人潮，更造成交通運輸上的莫大挑戰。上述提及的「春運」人潮，其最主要移動方向為何？  
(A)中部→東部 (B)西部→東部 (C)北部→南部 (D)東部→中部。



39. ( ) 右圖是宜墓在網路上搜尋到有關中國飲食文化的資料，依據圖中的資料判斷，此一飲食文化的差異，大致以下列哪一條連線為界？  
(A)南嶺、珠江 (B)秦嶺、淮河 (C)陰山、黃河 (D)天山、海河。
40. ( ) 中國目前正規畫設立全球最大、達 250 萬平方公里的「第三級國家公園」，範圍內有當地民族文化，另外因地勢較高，位處中國地勢最高階，地表崎嶇，寒冷荒涼，同時也是長江的發源地。上述國家公園最可能位於下列哪一地形區中？  
(A)青藏高原 (B)山東丘陵 (C)黃土高原 (D)四川盆地。

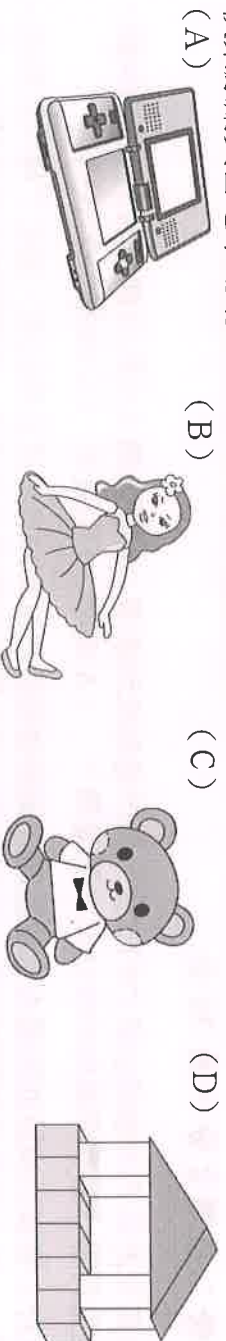
41. ( ) 中國各地因自然環境的不同，衍生出各類的特色建築以適應當地氣候，下列哪種建築最不適合建在潮溼多雨的環境？  
(A)  (B)  (C)  (D) 

42. ( ) 日本與南韓是臺灣人出國旅遊目的地前幾名，人們對於日、韓兩國的動漫、遊戲，以及戲劇裡的浪漫景點愛不釋手，並且樂於前往「朝聖」！由上述可知，臺灣與日、韓兩國呈現出下列哪一情形？  
(A)日、韓透過殖民優勢，強行灌輸其文化 (B)日、韓兩國藉由科技及媒體行銷文化  
(C)日、韓兩國長期對臺灣占有貿易優勢 (D)日、韓的文化成功取代臺灣文化發展。

43. ( ) 2024年元旦，日本氣象廳發佈了石川縣能登半島的地震速報，規模達到7.6；而在幾分鐘後，也發佈了相關地區的海嘯警報。請問：日本地震頻繁主要是受到下列哪一項自然地理特色的影響？  
(A)海岸彎曲港灣眾多 (B)河川短小，水流湍急 (C)山地丘陵面積廣大 (D)位於海陸板塊交界。

44. ( ) 南韓近年來經濟成長快速，各項產品在全球供應鏈已占有一席之地。請問：下列關於南韓的經濟特色，何者正確？  
(A)以中小企業為主 (B)以紡織品等服飾出口為主 (C)國家大力扶植大型財團 (D)農產加工為重要外銷產品。

45. ( ) 日本具備了良好的治安、貼心的服務、整潔的環境等特性，成為許多臺灣人喜愛帶小孩去旅行的國家。若要前往日本秋葉原購買當地市場銷售主力且附加價值較高的玩具，下列何者最為適合？



46. ( ) 北韓糧食不足，因此饑荒問題較為嚴重。請問：該國農業發展的不利條件中不包括下列何者？  
(A)地勢較高 (B)生長季短 (C)氣候寒冷 (D)水患頻繁。

47. ( ) 秉翰是某汽車公司的負責人，為了拓展事業版圖，他打算至日本設廠，經過仔細考量後他決定將工廠設立在右圖中「京濱工業區」。請問：他考量的依據為何？

- (A)港灣眾多，海運便利 (B)平原廣大，土地便宜  
(C)黑潮流經，氣候溫和溼潤 (D)板塊交界帶，資源豐富。

48. ( ) 日本與南韓在飲食上，都發展出以醃製、發酵的方式來製作食物，如日本的漬物、南韓的泡菜。這與哪一種自然條件有關？  
(A)地形山多田少 (B)夏季高溫多雨 (C)冬季寒冷漫長 (D)沿海洋流交會。



※ 中國近年來經濟快速發展，工商業活動日漸興盛，已成為全球相當重要的經濟體。請問：

49. ( ) 中國在南部地區設立了經濟特區後，揭開了經濟發展的序幕，而後發展愈趨順利。當時東南沿海設立經濟特區的原因中未包括下列何者？  
(A)海運便利 (B)勞工便宜 (C)煤礦豐富 (D)海外投資。

50. ( ) 臺灣在 1980 年代末期，由於生產條件的改變，許多廠商紛紛遷往中國設廠，形成一波臺商潮。當時遷往中國設廠的企業主要考量因素為下列何者？  
(A)市場廣大 (B)工資低廉 (C)交通便利 (D)礦藏豐富。