

科目代號：15 年級代號：九

班級：

座號：

姓名：

一、單一選擇題（九上新進度，每題 2 分，共 60 分）：

1. () 公民老師請學生閱讀以下的新聞時事後分組討論，下列哪一組的判斷內容有誤？

「我今天購物花了 100 萬日圓！」這名男子出國大肆購物後，滿意地對鏡頭展示豐碩戰果，有高檔洋酒、多個精品包包，男子覺得自己撿到便宜了。他說：「會買這麼多，最大的理由是日圓重貶，在日本購物會比較便宜，一樣的東西在臺灣價格貴 2 倍。」

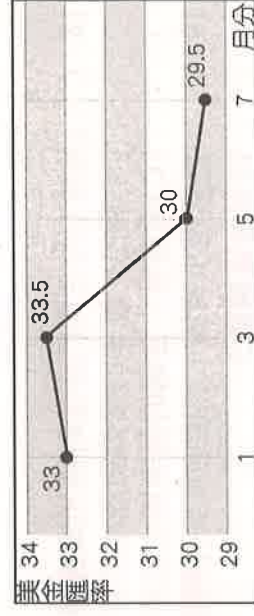
- (A) 甲組：新臺幣相對日圓升值 (B) 乙組：臺人赴日旅遊意願增加
(C) 丙組：我國人民平均所得將上升 (D) 丁組：臺灣進口日本商品的成本下降。

2. () 右表是甲、乙兩國匯率變動的情形，以吸引乙國遊客為主的甲國觀光業者，看到此變化後感到很憂心。根據附表內容判斷，若甲國的物價水準維持不變，下列何者最可能是上述業者的憂慮？

- (A) 甲國觀光業者經營成本提高 (B) 乙國人的平均薪資所得減少
(C) 甲國觀光業者數量大幅增加 (D) 乙國人到甲國旅遊意願下降。

3. () 柏偉和朋友喜歡到各國旅遊，為了節省旅費會考慮以匯率表現來決定何時出發最划算。根據右圖中美金匯率的走勢判斷，柏偉應該選擇幾月至美國旅遊最划算？(A) 1 月 (B) 3 月 (C) 5 月 (D) 7 月。

時間	1 甲幣可兌換的乙幣
去年	10
今年	20



4. () 「元代即將滅亡的時候，政府為籌措龐大的軍費，大量印發紙幣因應，導致紙幣濫發無度，……。」上述政府作為所導致的經濟問題，若在今日持續發生，社會上最可能出現下列何種現象？

- (A) 市場上大部分商品的出售價格將會愈來愈高 (B) 受預期心理影響，民眾會減少當時的消費支出
(C) 同一面額紙幣所能購買的商品數量將會愈來愈多 (D) 人民所擁有的貨幣不斷地增加，生活水準日益提升。

5. () 右圖是一家文具店的宣傳單，此宣傳單的內容凸顯出貨幣的何種功能？

- (A) 交易媒介 (B) 價值儲藏 (C) 價值衡量 (D) 債務清償。

6. () 公民課的課堂討論主題為「貨幣的發行」，下列哪位同學的回答內容有誤？

- (A) 恩妍：貨幣發行的數量愈多代表經濟發展愈好 (B) 巧思：各國的貨幣發行量不同
(C) 建均：貨幣發行量的多寡會影響物價的高低 (D) 坤城：我國由中央銀行負責發行新臺幣。



7. () 假如現今的匯率為美金：新臺幣 = 1:30，而公仔模型價格是美金 20 元，則根據右圖內容，下列敘述何者正確？

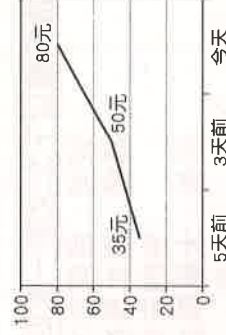
- (A) 當美金貶值，不利老閩進口商品 (B) 當美金升值，有利老閩進口商品
(C) 若依購買當時匯率計算，公仔價格為新臺幣 720 元 (D) 若依現今匯率計算，公仔價格為新臺幣 720 元。

8. () 秉錡為了要買最新的遊戲軟體，將存了很久的撲滿打破，這些銅板算一算總共有兩千多元，於是秉錡拿了一千元的硬幣到店裡付錢，雖然老閩面有難色，但還是收下，其主要原因為下列何者？(A) 硬幣本身的價值很高 (B) 硬幣可以儲存起來變成古董 (C) 硬幣設計精美，討人喜愛 (D) 硬幣是法定貨幣，老閩不得拒收。



9. () 佩妮一家四口寒假時至辛辛國觀光旅遊，發現當地同一家咖啡店的物價變化如右圖。依右圖示判斷，辛辛國正面臨下列何種狀況？

- (A) 貨幣貶值 (B) 貨幣升值 (C) 物價下跌 (D) 廠商惡性競爭。



10. () 偉荏和表哥相約去看電影，兩人各自(甲)花費 250 元。之後他們去逛書店，表哥本來想(乙)以現金 300 元買該電影原著，偉荏則建議表哥(丙)以刷卡方式購買，既有優惠又可先享受後付款。表哥認為這樣可以(丁)省下一點錢來儲蓄，於是接受了此項建議。依據上述內容，下列關於貨幣功能的對應關係，何者最正確？

- (A) (甲)具有交易媒介性質 (B) (乙)屬價值儲藏的方式 (C) (丙)可以衡量商品價值 (D) (丁)展現延期償債特性。

11. () 右圖為阿輝和阿美在討論自己持有卡片的特性。關於他們的卡片，下列敘述何者正確？

- (A) 兩人的卡片皆屬於法定貨幣 (B) 阿輝的卡片為信用卡
(C) 阿美的卡片為儲值卡 (D) 兩人的卡片皆屬於新型態的支付工具。



12. () 雖然銀行不斷開發信用卡的刷卡通路，希望將信用卡服務與民生消費緊密結合，讓更多的消費者使用信用卡付費，但信用卡仍然無法被視為真正的貨幣，其主要原因為何？

- (A) 沒有防偽設計 (B) 製作困難，數量不夠多 (C) 商店可以拒收 (D) 不是政府發行的法定貨幣。

13. () 隨著社會進步，目前使用「信用卡」的人數日趨增多。下列相關敘述，何者錯誤？

- (A) 使用信用卡償還債務時，對方不得拒絕 (B) 信用卡卡費若未按期繳交，會產生利息
(C) 信用卡是屬於「先消費後付款」，所以使用者不可過度消費 (D) 並不是所有的交易，都可以使用信用卡交易。

14. ()在說明貨幣時指出：「如果甲店的牛仔褲售價是 3 隻雞，同樣的牛仔褲在乙店的售價是 10 條魚，在這種情況下，我們很難確認哪一家店的褲子比較貴。若有共同的貨幣，就可以解決這種問題了。」上述說法最能凸顯貨幣的何種功能？

(A)交易媒介 (B)債務清償 (C)價值儲藏 (D)價值衡量。

15. ()投考前雅萍將儲值卡與信用卡的差別整理成右表，請判斷右表中哪個地方寫錯了？(A)甲 (B)乙 (C)丙 (D)丁。

項目	儲值卡	信用卡
(甲)貨幣	√	√
(乙)塑膠貨幣	√	√
(丙)延遲支付	×	√
(丁)方便交易	√	√

16. ()當日元從 4 日元兌換 1 台幣到 5 日元兌換 1 台幣時，代表日元□□，台幣□□。上述□□中依序應填入下列何者？(A)升值、貶值 (B)升值、升值 (C)貶值、升值 (D)貶值、貶值。

17. ()右表是廷哲分別在不同日期看到的美元兌換價格。根據表中內容判斷，比較 2017 年 1 月 5 日與 2018 年 1 月 5 日，其匯率變化最可能造成下列何種影響？

(A)美國自臺灣進口的商品漲價 (B)臺灣出口至美國的商品降價
(C)美國民眾前往臺灣旅遊的意願提高 (D)臺灣民眾前往美國旅遊的意願降低。

2017 1 1 5 1	兌換價格
幣別	兌換價格
1 1 1 1	31.97 1 1 1 1
2018 1 1 5 1	
幣別	兌換價格
1 1 1 1	29.55 1 1 1 1

18. ()海賊王的主角們參加財經知識競賽，關於匯率的認知，下列何人的說法正確？

(A)喬巴：匯率的變動對進出口有影響 (B)納美：匯率的變動愈大愈好
(C)香吉世：各國的匯率皆由政府操作決定 (D)魯夫：匯率每月變動一次。

19. ()函君是小資族，想透過買賣外幣投資理財，於網路上搜尋新手投資外幣懶人包下載觀看。下列懶人包的內容中，何者敘述有誤？

(A) 最常使用的外幣是美金

(B) 貨幣的兌換比率稱匯率

(C) 買賣外幣通常透過銀行

(D) 新臺幣貶值有利購買外幣

20. ()公民課時分組討論貨幣價值與國際貿易的關係，右表為各組討論後的回答，其中哪一組別的內容正確？

組別	回答
子嫻組	我國貨幣貶值，有利進口。
詠淳組	我國貨幣升值，所需支付的進口成本增加。
祥賢組	新臺幣的升貶，對我國貨物的進出口並無影響。
振祐組	新臺幣貶值時，有利我國商品出口至國外。

(A)子嫻組 (B)詠淳組 (C)祥賢組 (D)振祐組。

21. ()外電報導：「日本首相採貨幣寬鬆政策，造成日圓不斷貶值。」根據以上內容判斷，下列敘述何者正確？

(A)日圓貶值，有利日本進口外國商品 (B)日圓貶值，有利他國出口商品至日本
(C)日圓貶值，有利日本人至他國觀光 (D)日圓貶值，有利外國人至日本觀光。

22. ()下週要去東京旅遊的欣雅和同事的對話如右圖，請依現況為基準，判斷下列敘述何者正確？

(A)日圓貶值 (B)新臺幣購買力下降
(C)我國進口日本商品價格變貴 (D)有利我國出口商品至日本。



請根據以下文文家一家四口的狀況，請回答第 23-24 題：

爸爸：目前在大飯店上班，擔任主廚的工作已經有 10 年了。
媽媽：原本是在工廠擔任作業員，為了照顧孩子辭去工作，擔任全職家庭主婦至今已 15 年了。現在孩子都大了，在先前的支持下，自己開了一家小烘焙屋，專做網購生意。
姐姐：大學畢業後想找份工作，投了好多份履歷都沒有下文，現在一邊找工作，一邊準備證照考試，希望提升自己的就業條件。
昀欣：目前是高中生，未來想要當外交官，因此現在苦讀外語，充實實力。

23. ()昀欣家目前有哪幾人屬於「就業者」？(A)爸爸、媽媽 (B)爸爸、姐姐 (C)姐姐、昀欣 (D)媽媽、姐姐。

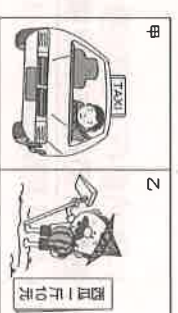
24. ()姐姐目前致力於增強哪一就業條件？(A)工作意願 (B)工作能力 (C)就業經驗 (D)人脈資源

25. ()有工作能力與工作意願，且有找尋工作，卻找不到工作的人，稱為「失業者」。下列何者即為「失業者」？

(A)林立現在正過著退休生活 (B)慈吟因景氣不好，公司訂單驟減而被迫放兩個月無薪假
(C)彥碩因公司倒閉，投履歷想找工作，卻石沉大海 (D)詩莖為了專心參加歌唱比賽而辭掉美容院的工作。

26. ()在日常生活中，我們享受了許多勞動成果，針對右圖內容判斷，下列敘述何者正確？

(A)甲為有形的財貨 (B)乙為無形的勞務
(C)甲、乙皆屬於勞動成果 (D)甲、乙皆為無酬勞動。



27. ()元凱從事科技業，因受到新冠病毒疫情的影響被公司裁員。面試好幾家公司都未獲錄取，為了維持基本生活，他去申請失業給付，希望能暫時度過難關。根據上述內容判斷，下列何者正確？(A)失業給付是依據《勞動基準法》發放
(B)勞工自願離職可申請失業給付 (C)失業給付一般可請領最長 6 個月 (D)元凱不屬於政府定義的勞動者。

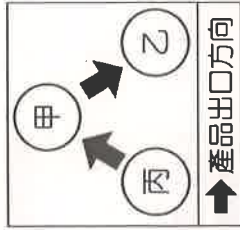
28. () 珈卉將日常生活中看見的違規情形，與其可能違反的相關法律，整理如下表。根據下表內容判斷，珈卉所列出的配對項目何者最適當？(A)甲 (B)乙 (C)丙 (D)丁。

項目	違規情形	適用法律
甲	網咖徵大夜班店員 2 名，年齡不拘	《民法》
乙	雇主安排 15 歲工讀生從事工地搬運工作	《少年事件處理法》
丙	公司因訂單暴增、業務繁忙，要求員工不得請假	《勞動基準法》
丁	學校棒球社男生可優先加入，女生加入須經過老師體檢	《性騷擾防治法》

29. () 公民老師利用以下新聞時事，請同學討論相關議題，以增加同學的判斷能力。文中「甲」應為下列哪一部法律？

員工遲到 10 分鐘扣 100 元，合理嗎？
依照甲規定：「工資應全額直接給付勞工。」、「雇主不得預扣勞工工資作為違約金或賠償費用。」老闆不可以因為員工遲到早退就扣薪水，但老闆可以針對員工遲到早退「未提供勞務」的時段「不計薪」，但不能「扣薪」。假設員工月薪是 3 萬元，日薪是 1 千元，除以每日 8 小時工時，時薪為 125 元，若員工遲到 1 小時，老闆只能不付 1 小時時薪。
(A)《勞動基準法》 (B)《勞工職業災害保險及保護法》 (C)《性別工作平等法》 (D)《就業保險法》。

30. () 右圖呈現甲、乙、丙三國的貿易情況。若甲國受匯率變動的影響，使得某段時間的進、出口商品數量皆大幅增加(如右圖)，則根據圖中內容判斷，該段時間甲國貨幣的匯率變化，最可能為下列何者？



- (A)相對乙、丙兩國貨幣皆升值
(B)相對乙、丙兩國貨幣皆贬值
(C)相對乙國貨幣升值，但相對丙國貨幣贬值
(D)相對乙國貨幣贬值，但相對丙國貨幣升值。

二、單一選擇題（八上複習，每題 2 分，共 40 分）：

31. () 品繪的公民作業寫著：「(甲)屏東縣政府通過《濫發商業電子郵件管理條例》草案，此一法律草案將送交(乙)立法院三讀通過後，再經(丙)總統公布成為法律。以後接到垃圾郵件可至(丁)主管行政機關 NCC 申訴，請其代為求償。」結果被老師標示錯誤，要求修正。請問：這份作業，哪一個部分出現錯誤？(A)甲 (B)乙 (C)丙 (D)丁。

32. () 下列關於《憲法》特性的說明，哪項是正確的？

- (A)固定性：《憲法》的修改過程通常較為困難與繁雜
(B)原則性：法律和命令都不可抵觸憲法，否則無效
(C)穩定性：《憲法》的位階最高，法律次之，命令最低
(D)最高性：《憲法》的內容多半簡潔扼要，僅就根本事項，列出原則性的規定

33. () 日本宣布將釣魚臺「國有化」，引發中國的反日示威，我國也出動了 75 艘漁船到釣魚臺顯示保釣決心。觀察釣魚臺爭議，代表中日臺之間的何項爭議？(A)政府、領土 (B)領土、人民 (C)政府、主權 (D)領土、主權

34. () 新聞報導：許多頂樓加蓋的違章建築常因線路老舊，導致火災發生，甚至造成人民的生命傷亡，政府雖然想要拆除，但仍必須依據法律行事，不得隨意拆除。請問：上述畫線部分，屬於何種精神？

- (A)責任政治 (B)政黨政治 (C)民意政治 (D)法治政治

35. () 1,650 名福島第一核電廠附近的避難災民，因為當時的核災事故被迫遷離家園，並遭受低量的輻射汙染。因此決定在 311 震災兩週年時，集體向日本政府及東京電力公司提出訴訟，要求將故鄉恢復原狀，並求償逾 53 億 6 千萬日圓。請問：災民的舉動，在我國《憲法》中是行使何項基本權利？

- (A)平等權 (B)自由權 (C)受益權 (D)參政權

36. () 微蕙閱讀報紙時，不小心翻倒飲料把下圖部分文字遮住了。請問：圖中的汙漬處，應是指哪一個政府機關？

- (A)監察院審計部 (B)行政院法務部 (C)立法院 (D)司法院大法官。

37. () 下列有關彈劾總統、副總統與公務人員的敘述，何者正確？

- (A)皆屬於監察院的職權 (B)彈劾總統是監察院的職權；彈劾公務人員是考試院的職權
(C)皆屬於司法院的職權 (D)彈劾總統是立法院的職權；彈劾公務人員是監察院的職權

38. () 下列有關不信任案的敘述，何者正確？

- (A)不信任案是由行政院對立法院院長所提出的
(B)不信任案通過後，行政院長須辭職
(C)不信任案由立法院通過後，總統得請行政院院長解散立法院
(D)不信任案通過後，立法院還可以再覆議一次

39. () 在我國，行政機關需編列預算，送(甲)機關審議，通過後才可使用。經費支出後要做成決算，需送(乙)機關審查。上述的甲、乙各是何者？

- (A)行政院、監察院一銓敘部 (B)司法院、行政院一財政部
(C)立法院、考試院一審計部 (D)立法院、監察院一審計部

文林苑都市更新案惹爭議，51 名立委完成釋憲聲請案連署，將向 提出。立委表示，希望透過釋憲了解法條哪些部分有違憲之虞。

40. () 勇燦為了做公民報告，上網查詢監察院相關資料。下列哪一職權可能出現在她的報告之中？
(A)彈劾違法或失職的公務員 (B)負責統一解釋法律與命令
(C)審查中央政府的年度預算 (D)掌理公務人員的退休事宜
41. () 云瑄服務的公司，強制員工簽訂「單身條款」，規定女性員工結婚後必須無條件辭職。請問：這種作法違反我國《憲法》所賦予人民的哪些基本權利？
(A)平等權、受益權 (B)平等權、參政權 (C)自由權、受益權 (D)自由權、參政權
42. () 自 2006 年起就開始有許多民眾對同性婚姻提出「請願」，終於在 2017 年 5 月 24 日司法院大法官宣告《民法》沒有保障同性戀者結婚的權利，違反《憲法》保障的婚姻○○權與○○權，並要求自解釋公布起 2 年內，完成相關法律之修正或制定。請問：文中畫底線的部分應填入哪兩種權利？
(A)自由權、平等權 (B)自由權、受益權
(C)受益權、參政權 (D)平等權、受益權
43. () 大安國和平縣將於今年 11 月舉行縣長改選。請就右表四位候選人所提出的參選政見判斷，哪一位的政見屬於縣長的職權範圍？
- | 姓名 | 主要參選政見 |
|--------|-------------------|
| (A)蔣明傑 | 加入世界衛生組織；拓展官方外交 |
| (B)孫秉濂 | 修改稅法；平衡中央與地方建設 |
| (C)鄒羽貞 | 降低全民健保費用；提供縣民免費醫療 |
| (D)黃秋貴 | 發展交通建設；推動鄉土文化教育 |
44. () 《公職人員選舉罷免法》規定，禁止選民攜帶照相機進入投開票所，此乃為防範有人公開投票內容。以上敘述符合哪項選舉原則？ (A)普通 (B)平等 (C)直接 (D)無記名
45. () 青年學子為爭取《憲法》保障的人民基本權利，可能上街進行集會活動，例如：318 太陽花學運。上述青年學子的行為，最可能是屬於下列何種概念的展現？
(A)政治參與 (B)政黨輪替 (C)地方自治 (D)權力分立
46. () 下列有關《公民投票法》的敘述，何者正確？
(A)公民投票是為了落實《憲法》保障的選舉權
(B)公民投票雖是直接民權的表現，但因議題複雜，民眾經常不易理解甚至被誤導
(C)公民投票不需要經過人民連署
(D)公投法案議題通常比較簡單，所以比較容易激發民眾對於公共事務的參與感
47. () 任何政治制度的設計，「監督」、「制衡」是非常重要的內涵。下列哪一個單位有權監督地方行政機關的施政？
(A)屏東市公所 (B)萬丹鄉公所 (C)萬丹鄉民代表會 (D)屏東縣政府
48. () 我國總統、行政、立法三權互相制衡制度為民主政治之良好運作典範。右圖為三者的互動部分示意圖。請問：圖中問號處之流程應填入下列何者？
(A)提起罷免 (B)由立法委員投票彈劾 (C)強迫辭職 (D)提出不信任案。
49. () 婷婷在投票日當天前往投票，沒想到卻被告之因其個人狀況無法投票。婷婷遇到的狀況，可能是下列何者？
(A)年紀未滿 30 歲 (B)受到監護宣告 (C)因案被褫奪公權 (D)戶籍在選區未住滿一年。
50. () 右表為哈哈國的歷屆總統大選整理表格。請問：由表中資訊，下列何者推論最正確？
- | 時間 (西元) | 當選人所屬政黨 | 得票率 |
|---------|---------|------|
| 1999 年 | A 黨 | 40 % |
| 2003 年 | P 黨 | 33 % |
| 2007 年 | A 黨 | 35 % |
| 2011 年 | S 黨 | 42 % |



同學辛苦了，記得將答案劃在答案卡上，收卷時只需繳交答案卡即可