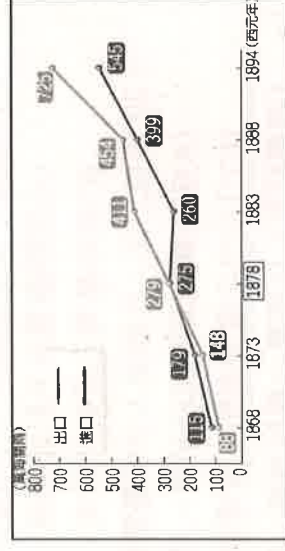


## 一、歷史單一選擇題 (每題2分, 共36分):

1. ( ) 清帝國統治時期漢人移民來臺者漸多, 農地的拓墾迅速, 於是興築灌溉規模較大的水圳。其中哪一條水圳引自新店溪的溪水, 灌溉整個臺北盆地一千二百餘甲的農田? (A)曹公圳 (B)八堡圳 (C)瑠公圳 (D)貓霧揀圳。
2. ( ) 臺灣的地名由來往往有歷史淵源, 例如「五股」、「九份」、「頭份」等地名就和土地開墾有關係。請問: 這幾個地名與土地開墾的何種特色有關係? (A)漢原合作 (B)合資開墾 (C)祕密結盟 (D)跨越番界
3. ( ) 歷史老師說:「此一水圳是施世榜於1709年開始建造, 為清代全臺最大規模的水利工程, 其灌溉面積一萬二千餘甲地, 涵蓋一半以上的彰化縣域, 所以後人將施世榜尊稱為臺灣水利建設的祖師爺。」請問: 老師講解的是哪一水圳的由來? (A)八堡圳 (B)貓霧揀圳 (C)曹公圳 (D)瑠公圳。
4. ( ) 蔗糖自荷蘭統治臺灣時, 就已經是臺灣重要的出口產品。開港後, 蔗糖的快速成長, 大多由右圖中的哪一港口輸出銷往中國大陸和日本? (A)甲 (B)乙 (C)丙 (D)丁。
5. ( ) 歷史老師說:「清帝國領有臺灣後, 商業興盛帶來了繁榮, 出現了「一府二鹿三艋舺」的稱呼」老師請同學發表其中的意義, 何人所言錯誤? (A)品樂: 代表臺灣開港前的三大聚落 (B)品均: 代表臺灣開發的方向 (C)君同: 代表臺灣港口都市的興起 (D)幸容: 代表臺灣區域發展相當平衡。
6. ( ) 右圖是1868~1894年臺灣進出口值統計圖。自1878年起開始出超, 對外貿易的出口值大於進口值。請問: 當時主要出口商品以下列何者為大宗? (A)蔗糖 (B)稻米 (C)茶葉 (D)樟腦。



7. ( ) 19世紀有「北臺第二富豪」之稱的李春生, 擔任寶順洋行總辦, 經營開港後臺灣最大宗的出口品。下列敘述何者正確?

(A)李春生經營蔗糖的外銷 (B)李春生經營的商品由安平出口  
(C)寶順洋行為外國商人貿易之所 (D)李春生財源廣進時應是在清帝國領臺初期。

8. ( ) 歷史課堂上, 老師展示了清帝國統治臺灣漢人移墾擴散圖(右圖)。由圖中可知, 臺灣的土地開發的方向為何?

(A)由北向南, 由西向東 (B)由南向北, 由西向東  
(C)由北向南, 由東向西 (D)由南向北, 由東向西。

9. ( ) 清代郁永和的《裨海紀遊》:「臺灣海道惟黑水溝最險, 自北流南, 不知源出所。海水正碧, 溝水獨黑如墨。」先民渡海來臺常冒著極大的風險, 常需以生命挑戰險惡的「黑水溝」。請問: 上文中的「黑水溝」指的是下列何者? (A)臺灣海峽 (B)巴士海峽 (C)太平洋 (D)濁水溪。

10. ( ) 「唐山祖」為清代臺灣祭祀團體類型之一, 這類祭祀團體(甲)成員間未必有血緣關係; (乙)具有凝聚同姓者的功能; (丙)祭祀對象為台灣第一代祖先; (丁)主要出現在移民之初期; 關於這類團體的敘述何者正確?

(A)甲丙丁 (B)甲乙丁 (C)甲乙丙 (D)乙丙丁。

11. ( ) 清代漢人移民來臺, 往往是同鄉群居, 信奉的神祇因移民者的祖籍不同而有差異, 也有一些神明是大家所共同信奉的, 但不包括下列何者? (A)福德正神 (B)開漳聖王 (C)媽祖 (D)王爺。

12. ( ) 歸化清帝國的原住民稱作「熟番」, 大多為平埔族。他們除了要向政府繳納稅收之外, 還需服勞役, 長期受到勞力的壓榨與不當差遣, 最終發生了抗官事件, 以下列何者為例?

(A)大甲西社事件 (B)郭懷一事件 (C)麻豆社之役 (D)朱一貴事件。

13. ( ) 「他是加拿大籍的長老教會宣教師, 1870年代搭船至淡水, 自此展開醫療、教育與傳道的活動。生前曾留下「寧願燒盡不願鏽壞」的名言, 這位臺灣女婿最後也安葬在這個地方。」以上敘述可能出自哪一本著作?

(A)《馬偕生平事蹟》 (B)《馬雅各與南臺灣》 (C)《新港文書與基督教》 (D)《開臺祖在臺灣》。

14. ( ) 陳阿立自乾隆朝移民來臺, 往生後留下七甲田地, 五甲分別傳給五子, 其餘二甲做為往後家族祭祀開銷。直到今日, 陳氏子孫開枝散葉, 繁衍不絕。每到清明祭祖, 往往百人齊聚宗族祠堂。請問: 陳阿立後世子孫祭祀的模式, 後世稱之為?

(A)唐山祖 (B)血緣祖 (C)開臺祖 (D)開山祖。

15. ( ) 臺灣原住民第十三族「撒奇萊雅族」之所以會和阿美族混居, 主要是受到開山撫番政策的影響。請問: 清廷之所以積極治理臺灣後山, 強化安撫原住民的事務, 主要受到下列哪場戰役的刺激?

(A)英法聯軍 (B)清法戰爭 (C)牡丹社事件 (D)甲午戰爭





16. ( ) 清乾隆以後臺灣人口增加，漢人不斷越過番界，開發山區。請問：漢人入侵原住民的生活空間，其可能的原因為何？  
(A)為了與高山族通婚、貿易 (B)清朝政府鼓勵開發山地  
(C)原住民和漢人合作開發山地 (D)人口增加而越界開墾。
17. ( ) 臺灣開港後，進口商品中以下列何項為主？(A)藥材 (B)瓷器 (C)軍火 (D)鴉片
18. ( ) 清代臺灣時常發生械鬥的情形，其發生原因很多。下列何者為其原因？(甲)移民的祖籍不同；(乙)移民爭奪水源田地；(丙)移民爭奪商業利益；(丁)原住民挑釁漢人 (A)甲乙丙 (B)甲乙丁 (C)甲丙丁 (D)乙丙丁

二、歷史題組：每題1分，共4分

**1855 年**，美商威廉士洋行的商船航行至臺灣府安平外海，並派人上岸詢問是否能在當地貿易。經過安排，船長和臺灣道裕鐸在打狗會面，裕鐸在會談中告知船長，**外國商船如果直接在安平停泊，並不符合規定**，臺灣道將受到朝廷處罰，但裕鐸和打狗地方官員可以私下允許外國商船，停靠遠離政治核心的打狗進行貿易。


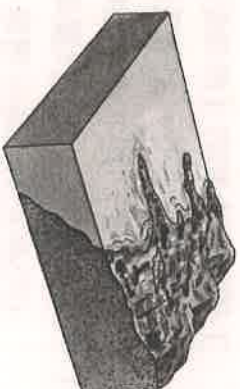
然而，實際上官員後來往往放任外國商船停靠安平，未能嚴格執行禁令。過了數年，新任的臺灣道孔昭慈於 1859 年，又要求外國商船「不准像之前一樣在安平附近起卸貨物」。有位英國商人分析：「這並非臺灣道刻意禁止外商在臺灣府貿易，而是因為府城當地泉州人組成的商人團體，跑去向福建巡撫告狀，指控外國商船收購物產，造成物價上漲，影響了本地商人的生意。」[111 會考]

註：臺灣道：臺灣建省前，在臺灣的最高文官。

請問：

- ( ) 19.根據上文中裕鐸與洋行的會談結果，當時臺灣對外貿易的情況，**最可能**是下列何者？  
(A)當時臺灣尚未對外開港，裕鐸嚴禁洋商在臺貿易 (B)當時臺灣尚未對外開港，實際上洋商已來臺貿易  
(C)當時臺灣已經對外開港，洋商可在臺灣各港口貿易 (D)當時臺灣已經對外開港，裕鐸仍阻撓洋商在臺貿易
- ( ) 20.根據上文，外國商人分析臺灣道重申外國商船不得在安平附近起卸貨物的原因，最可能與下列何者**有關**？  
(A)安平與鹿耳門泥沙淤積，易造成擱淺 (B)府城商人透過「郊」來維護自身利益  
(C)日本出兵臺灣南部，清帝國提高警戒 (D)許多府城商人組成「郊」與洋行合作
- 《渡臺悲歌》以客家山歌的方式，敘述清代來臺移民的艱困生活，節錄部分內容：勸君切莫過臺灣，臺灣恰似鬼門關，千個人去無人轉，知生知死都是難。請問：

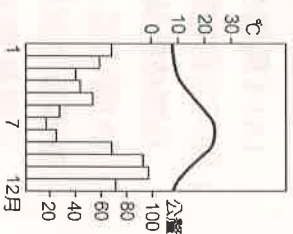
- ( ) 21.《渡臺悲歌》唱出了漢人移居臺灣的艱辛。請問：下列哪句俗諺同樣表達了渡臺的困難？  
(A)六死三生一回頭 (B)輸人不輸陣，輸陣歹看面  
(C)有唐山公，無唐山媽 (D)仙拚仙，拚死猴齊天。
- ( ) 22.除了自然因素「黑水溝」增加了漢人來臺移墾的困難度之外；社會因素的部分，清政府頒布的渡臺禁令，有諸多限制，影響了當時的臺灣社會發展。請問：臺灣移墾社會的特色為何？  
(A)社會人口結構不均，女多男少 (B)富有勇鬥狠的風氣，分類械鬥頻繁  
(C)來臺人民具冒險創新的特質，頻頻通過科舉 (D)性別比例懸殊，來臺者以女性居多
- 三、地理單一選擇題：每題2分，共36分
- ( ) 23.右圖為臺灣某處的海岸示意圖。該種海岸**最有可能**出現於臺灣何處？  
(A)北部海岸 (B)南部海岸 (C)東部海岸 (D)西部海岸



- ( ) 24.真好玩旅行社為萬新國中設計了一套校外教學行程，請根據你對臺灣海岸地形的認識，判斷下列哪個方案可能**有誤**？  
(A)尋訪珊瑚礁——墾丁浮潛之行 (B)沙灘排球PK賽——稱霸西海岸之旅  
(C)驚嘆北海岸——參拜女王頭之行 (D)嘗鮮蚵大饗客——東部潟湖之旅
- ( ) 25.寒假時，住在臺北的阿福，與住在高雄的阿明在網路上聊天，其對話如右圖。  
(A)地勢高低 (D)盛行風向
- ( ) 26.有關**天氣**狀況的描述，下列何者**正確**？  
(A)一般而言，氣溫隨著高度或緯度增加而遞增 (B)降水不只是代表降雨，還包括下雪、下冰雹等狀況  
(C)通常高度愈高，空氣愈稀薄，氣壓就愈高 (D)風是空氣由低氣壓向高氣壓流動所產生的。
- ( ) 27.右圖為某地觀測站的氣候圖，圖中的**曲線**是代表哪項氣象因子的變化？  
(A)降水量 (B)氣壓 (C)氣溫 (D)風速

- ( ) 28.下表關於「高氣壓與低氣壓」的比較，何者**正確**？

項目	(A)定義	(B)符號	(C)氣流	(D)天氣
高氣壓	中心氣壓最低	L	上升氣流	晴朗
低氣壓	中心氣壓最高	H	下沉氣流	陰雨天



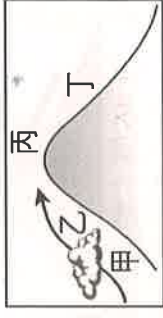


( ) 29. 下列四位同學的對話中，哪一個的說法最可能描述的是「天氣」？

- (A) 易辰：「每年冬天我們屏東地區幾乎很少下雨。」  
 (B) 品樂：「今天早上天氣還好好的，沒想到中午過後就下起大雨來了。」  
 (C) 幸容：「每年的五、六月雨經常下個不停，我的衣服常常都會發霉。」  
 (D) 沁鈴：「每年暑假爸爸都會帶我們到山上去度假，因為山上比較涼爽舒適。」

( ) 30. 請參照右圖，下列有關台灣『焚風』的描述，何者『錯誤』。

- (A) 焚風主要是出現在背風坡 (B) 台東易出現焚風的季節是冬季，恆春出現焚風的季節則是夏季  
 (C) 右圖中的焚風以丁區較為明顯 (D) 右圖中雨量最多的地區最可能是乙區



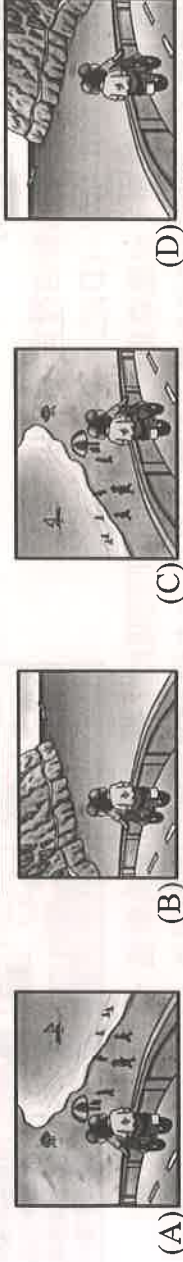
( ) 31. 下列哪張圖為夏季季風示意圖（箭頭為空氣流動方向）？



( ) 32. 雨恩的海岸考察紀錄本上，繪製出如右圖的景觀，他當時所記錄的筆記內容應該為何？

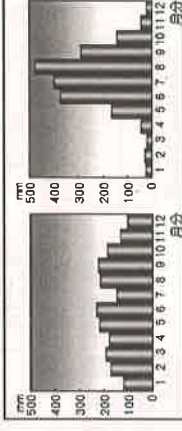
- (A) 岸邊平直陡峭 (B) 海水平淺多泥灘地 (C) 海岸多灣澳且水深 (D) 海域內廣布珊瑚礁。

( ) 33. 子涵打算與同學騎摩托車從屏東北上到台南遊玩。根據臺灣的海岸特色判斷，其沿途最常見到的海陸景觀為下列何者？



( ) 34. 右圖分別為臺灣北部與南部的年雨量圖，由圖判斷，下列敘述何者錯誤？

- (A) 臺灣北部的雨量較平均 (B) 臺灣南部夏季是乾季  
 (C) 臺灣南部的乾溼季較北部分明 (D) 臺灣北部冬季地形雨盛行。



( ) 35. 金門和馬祖位於中國東南沿海，是防衛臺灣的前哨。請問：金門和馬祖列島形成的原因為何？

- (A) 海底火山噴出岩漿堆積而成 (B) 由海底珊瑚礁露出海面而形成  
 (C) 沿海丘陵受到海平面上升，陸地沒入海中而形成 (D) 地殼變動和大陸分離而形成。

( ) 36. 右圖中，依照氣壓高低影響氣流方向的原則，風向應該會是下列何者？

- (A) 東北風 (B) 西南風 (C) 東南風 (D) 西北風。



( ) 37. 下列關於「地形」、「雨量」和「氣溫」關係的敘述，何者正確？

- (A) 蔣諾：「緯度愈高氣溫愈高。」 (B) 恩葶：「背風坡氣溫較低。」  
 (C) 沁鈴：「地勢愈低氣溫愈低。」 (D) 雅慧：「迎風坡比較多雨。」

( ) 38. 臺灣年雨量的分布特徵為山地多於平地，東部多於西部。此一氣候特徵的形成，最可能是受哪些因素的影響？

- (A) 緯度、地形 (B) 季風、距海遠近 (C) 距海遠近、緯度 (D) 地形、季風  
 ( ) 39. 右表為某四個城市的年溫差資料，依照表中資料判斷，下列哪一個城市的

	年溫差 (°C)
甲城	10
乙城	20
丙城	30
丁城	40

緯度最高？(A) 甲城 (B) 乙城 (C) 丙城 (D) 丁城

( ) 40. 下列有關「氣候」要素的敘述，何者最正確？

- (A) 月均溫是指一個月中最高日均溫與最低日均溫的平均值 (B) 年均溫是指一年 12 個月月均溫的平均值  
 (C) 年雨量是指一年 12 個月雨量的平均值 (D) 年溫差是指年中最高日均溫與最低日均溫的溫度差。

#### 四、地理題組：每題1分，共8分

(一) 蒞儀計畫在暑假時和家人一同環遊臺灣，欣賞臺灣不同的海岸特色，右列是蒞儀的行程表，看完後請回答下列問題：

( ) 41. 第一天所計畫的行程，是來到右圖上哪一地點？

- (A) 甲 (B) 乙 (C) 丙 (D) 丁。



( ) 42. 第一天所前往的臺南安平，是當時鄭成功登臺的地點，當時鄭成功一群人會看到下列何種海岸景觀？

- (A) 岬角、灣澳相間 (B) 沙洲、潟湖滿布  
 (C) 高山深海相鄰 (D) 海岸布滿珊瑚礁石。

( ) 43. 第三天要欣賞珊瑚礁海岸，去哪一縣市最有機會看到？ (A) 屏東縣 (B) 花蓮縣 (C) 彰化縣 (D) 桃園縣。

( ) 44. 第五天的行程會看到的海岸特色為何？ (A) 多沙灘、沙洲 (B) 多斷崖 (C) 海岸布滿珊瑚礁石 (D) 沿海平原寬廣。

( ) 45. 第七天遊東北角發現許多有趣的地名，如富貴角、三貂角、貓鼻角，其與哪種地形有關？

- (A) 岬角 (B) 沙丘 (C) 山崖 (D) 平原。

#### 行程表

- 1day 全家到臺南安平看古蹟  
 2day 到臺灣第一大港——高雄港遊玩，以及到旗津吃海產  
 3day 欣賞珊瑚礁海岸  
 5day 沿著蘇花公路遊玩  
 7day 從宜蘭沿東北角海岸到臺北



(二)降雨依導致氣流上升冷卻，成雲致雨的原因不同，可分為下列四種。請問：

(甲)

(乙)

(丙)

(丁)



( ) 46.降水類型因氣流上升方式不同而分很多種。下列敘述，何者正確？

(A)甲是對流雨 (B)乙是地形雨 (C)丙是鋒面雨 (D)丁是颱風雨

( ) 47.關於臺灣地區「乙」這種降雨類型的特色，下列哪一項敘述錯誤？

(A)屬於一種鋒面雨 (B)經常出現在夏季的午後 (C)降雨的範圍經常廣及全臺 (D)降雨通常持續好一段時間。

( ) 48.下列哪段話裡的降雨類型，可以用(甲圖)表示？

(A)尚鴻原本清明連假想去旅遊，但無奈每天都下著綿綿細雨，只好取消

(B)文成去爬山，爬到山腰時下起了雨，到山頂時發現雨停了


(C)崇育下午去打球，球打到一半卻打雷、下暴雨，但雨很快就停了

(D)博笙明天要出國，但遇上颱風暴雨，班機停飛

## 五、公民單一選擇題：每題2分，共16分

( ) 49.右圖中甲、乙、丙、丁哪兩位同學的發言符合會議規則？

(A)甲、丁 (B)乙、丙 (C)甲、丙 (D)乙、丁。



( ) 50.在校園生活中，要維護自己的權利，也應尊重他人的權利。下列關於「權利」的情境敘述，何者正確？

(A)胖虎上課時大力搖晃椅子，違反同學的身體自主權 (B)小夫未經大雄同意，借走用具，違反大雄的受教權

(C)小杉衝突時用言語辱罵靜香，違反靜香的學習權利 (D)小新依據古永老師的課程安排，學習知識，屬於受教權。

( ) 51.下列四位同學正在競爭當班會主席的機會，其中何人的發言顯示其對主席的任務有正確的認知？



( ) 52.承恩在開班會時吵鬧不停，雅淇轉頭叫承恩安靜一點，卻因此在放學後被承恩痛毆一頓。承恩的爺爺知道情況後，嘆了口氣說，家裡只有祖孫二人，自己為了工作常不在家，想好好管教孫子，實在是有心無力。根據上述內容判斷，下列敘述何者正確？ (A)針對開班會時的情況，雅淇可提出權宜問題 (B)雅淇可申請保護令，以免承恩再次拳腳相向 (C)雅淇可向學校的性別平等教育委員會申訴 (D)承恩的家庭型態最可能為小家庭型態。

( ) 53.四位同學正在介紹自己在班會所擔任的角色，下列哪一位是主席？



( ) 54.關於「人格發展權」的敘述，下列何者正確？


(A)尊重他人價值：未來志向，任何人都不可以干涉 (B)保障他人隱私：家長避免孩子學壞，隨意翻閱孩子私人物品

(C)維護他人健康：沒有肢體傷害，就不算傷害他人 (D)尊重他人隱私：未經許可，不隨意翻閱他人物品。

( ) 55.右圖為幾位同學下課後用通訊軟體討論有關校園中其他同學的行為，其中哪些人的行為屬於校園霸凌？

(A)胖虎、靜香、小夫 (B)靜香、小夫、大雄 (C)胖虎、小夫、大雄 (D)胖虎、靜香、大雄。

( ) 56.近日教育部部長針對校園霸凌引發之憾事，發文重申教育部與全體教育工作者最重要的責任就是不讓任何孩子因為任何原因受到歧視霸凌。請問：學校應避免霸凌事件再度發生，才能落實學生何項權利的保障？ (A)學習權 (B)受教育權 (C)身體自主權 (D)人格發展權。



請同學將答案寫在電腦答案卡上，只需繳交電腦答案卡。