

【地理】共 34 分

一、選擇題（一題 2 分）

- () 1. 中國的空氣汙染問題嚴重，除了工業廢氣造成 PM2.5 濃度提高之外，沙塵暴也是影響因素之一，每年的冬季和春季，來自蒙古共和國的沙塵會隨著風被帶入中國境內，對當地的空氣造成汙染。




請問當沙塵暴來襲時，哪個都市的空氣最容易受影響？

- (A) 甲 (B) 乙 (C) 丙 (D) 丁

- () 2. 雖然中國有豐富的資源，但作為世界主要的加工基地，但仍高度仰賴國際貿易，故中國為世界上進出口貿易總額前五大的國家之一。下圖為 2021 年中國主要進出口商品類別，甲、乙是兩種不同類型的商品，其中甲類商品佔出口金額的 95.8%，請問甲最有可能是什麼類型的商品？

- (A) 農產品 (B) 能源礦產 (C) 工業製品 (D) 醫療藥品

2021 年中國主要進出口商品類別



- () 3. 北京 2014 年 11 月舉辦亞太經濟合作會議 (APEC) 年會時，對當地和周圍省份做出許多限制。像是北京市周圍兩百公里的工廠全停產，車輛行駛有嚴格管制，單號只能單日上路，雙號則雙日放行，在如此嚴格的限制下，會議期間北京真的出現藍天，成功製造出「APEC 藍」。請問中國政府在會議期間的種種限制，是為了解決下列選項中哪項問題？ (A) 防止土石流發生 (B) 避免地下水汙染

- (C) 防止傳染病的傳播 (D) 避免空氣汙染的產生

- () 4. 根據統計，江蘇省蘇州市在



2022 年的總產值高達

3.4547 兆元，為全中國排名

第一，其中電腦、通訊等電

子製造業的產值最高，許多

台商皆在此投資設廠，例如

友達、華碩等，這些電子廠

在蘇州生產產品後，會利用鄰近直轄市位在中國海岸線終

點的交通優勢，將這些工業產品出口至國際市場，請問蘇

州市可能位在下圖中哪一個經濟圈？

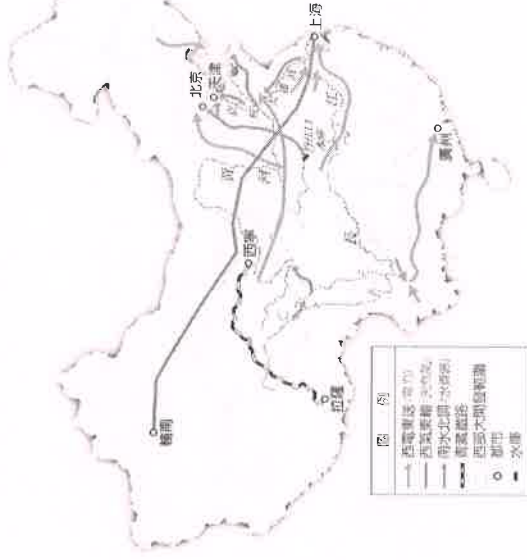
- (A) 甲 (B) 乙 (C) 丙 (D) 丁

- () 5. 中國於 2000 年通過西部大開發政策，主要目的是希望將西部剩餘的資源，輸送到資源短缺的東部地區，藉以縮小兩方之間的經濟發展差距，下列有關西部大開發的敘述，何者正確？ (A) 西電東送將電力送往沿海經濟圈中

- (B) 南水北調工程將珠江水引入黃河中

- (C) 西氣東輸是將西藏天然氣送往東部

- (D) 青藏鐵路的開發促進新疆的發展



- () 6. 近年來，由於工資上漲等因素使得中國的製造業逐漸外移，外資對中國製造業的投資比例下降，但德國知名汽車品牌 BMW 卻反其道而行，在中國遼寧省新的汽車生產基地於 2022 年正式啟用，其總裁在採訪時提到，在中國做生意要成功，在地化最重要，為此特別推出一款為中國客製化生產的汽車。BMW 選擇在中國投資設廠，最有可能因為何？ (A) 大量且便宜的勞動力

- (B) 環保法規寬鬆且執法不嚴謹

- (C) 中國是世界上最大消費市場之一

- (D) 土地成本低廉搭配政府的獎勵措施

- () 7. 「啊！五環你比四環多一環，

啊！五環你比六環少一環，終於有一天你會修到七環」，歌

曲中提到的「環」是中國某城

市的環狀公路，這些公路將該

城市區分為不同區塊，最內圈

的一環圍繞著紫禁城，四環則

是科技業與互聯網產業，以及中國頂尖大學的聚集地，而

最外圈的六環屬於城市最荒蕪的地區，該城市的人們可以

從居住地，判斷你從事的行業。請問上述的城市最有可能

是何者？ (A) 重慶 (B) 上海 (C) 廣州 (D) 北京

() 8. 酥油茶是中國某一地區的特色飲

品，是以犛牛奶製成的奶油 (酥

油)，加上濃茶與食鹽，放入桶中

用棍棒攪攪打，或到入皮袋中用

木棒敲打而成的，有禦寒、提神

的作用，深受當地人喜愛。請問

酥油茶最有可能是圖中哪一個地區的飲食？

- (A) 甲 (B) 乙 (C) 丙 (D) 丁



- () 9. 中國在 1980 年代實施改革政策，於東南沿海設立五個經濟特區，吸引許多外資前往該區投資設廠，中國憑藉經濟特區的設立，累積大量資金。下面哪一個不是吸引外國廠商投資的區位因素？(A) 勞力 (B) 市場 (C) 交通 (D) 政策
- () 10. iPhone 是蘋果公司研發及銷售的智慧型手機，蘋果公司藉由國際分工，將產品的不同零件在不同地區生產製造，以降低生產成本。下圖是蘋果公司三年的 200 大零件供應商的主要分布國家比例圖，根據下圖，可以發現什麼？

- (A) 環境法規日漸嚴格 (B) 電子商務系統發達
(C) 人民平均薪資提高 (D) 紅色供應鏈趨於完善



- () 11. 下圖是中國兩個不同時間段的工業區集中區的分布位置，中國的工業區空間分布位置產生改變的原因可能是下列哪一個選項？

- (A) 中國的礦產資源枯竭，需向國外進口原物料
(B) 東半部地區地勢平坦，成為工業發展有利條件
(C) 改革開放後經濟發展空間範圍以水運便利處為主
(D) 為了方便吸引當地高階且優秀的高科技技術人才



<題組一>

春運是「春節期間的交通運輸」，中國在春節期間，除了許多在外地工作、讀書的民眾會返回家鄉過年之外，有些民眾也會利用春節長假而外出旅遊，造成鐵路、民航班機滿滿都是人潮，進而產生交通擁擠狀況，中國央視稱春運為「地表最大規模人口遷徙」。由於今年 (2023 年) 中國大幅鬆綁疫情管制，許多人 3 年來的首次團圓，因而早成返鄉人數爆增。

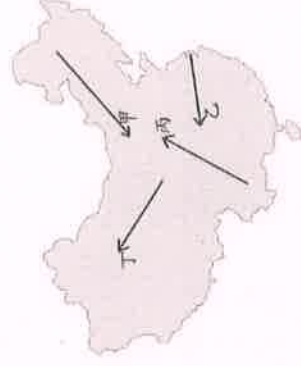
- () 12. 請問春運的產生，和中國哪一個特色最沒有關係？

- (A) 東部經濟帶經濟發展程度較高 (B) 一線城市的分布位置
(C) 工廠多分布在沿海地區 (D) 計畫生育政策的實施

- () 13. 右圖中哪一個火車路線在

春運期間最為熱門？

- (A) 甲 (B) 乙
(C) 丙 (D) 丁

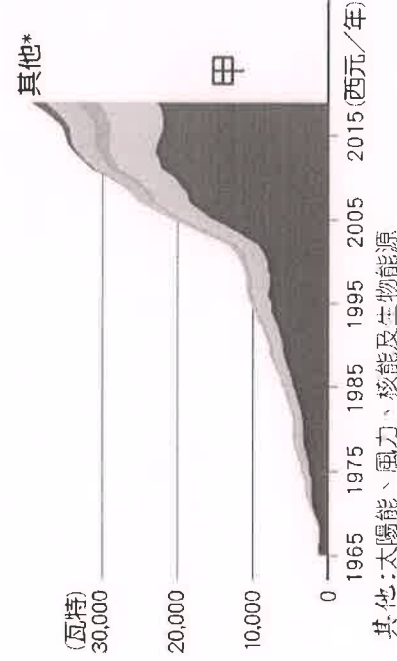


<題組二>

中國由於人口眾多，經濟快速成長，碳排放量高居世界第一，對全球暖化造成極大的影響。為了減少碳排放量，近年來中國政府開始大力推廣再生能源，其中，以太陽能、風電的貢獻最大，希望能藉由發展再生能源，減少燃燒化石燃料所帶來的空氣汙染，並達到減少碳排放量的目標。

- () 14. 雖然中國建置了大量的再生能源發電廠，但實際上仍高度依賴燃燒化石燃料來發電，其中，約有 60% 的電力來自燃燒附圖中的甲，請問甲可能是哪種能源？

- (A) 煤 (B) 石油 (C) 水力 (D) 天然氣

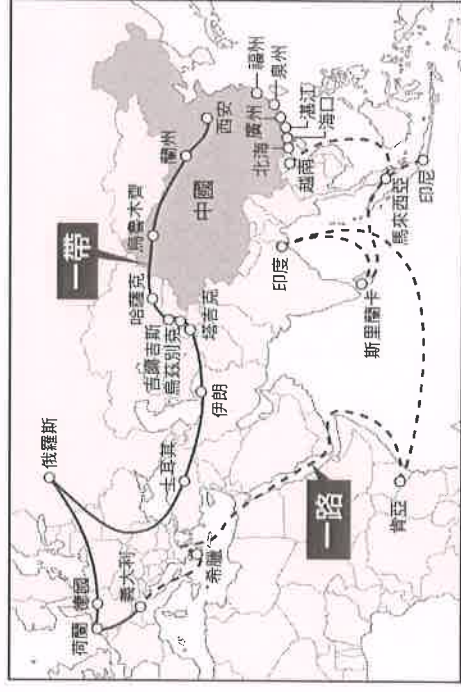


- () 15. 中國碳排放量居高不下，跟製造業的發展有密切相關，製造業需要大量勞力，雖然近年因各種原因，使得中國的製造業投資比例下降，但製造業仍是中國經濟發展很重要的一个部份。為什麼中國製造業得以發展，與中國哪一個特徵有關？

- (A) 國土面積廣大 (B) 人口數量眾多
(C) 電子商務系統發達 (D) 東部經濟發展程度較佳

<題組三>

「中寮鐵路」是中國一帶一路計畫的其中一個項目，從中國雲南省昆明市出發，一路延伸到寮國首都永珍，兩國的官媒在通車後都大力讚賞鐵路帶來的正面影響，但事實真的如此美好嗎？雖然鐵路將會增進兩國間人員與貨物之間的流動，但寮國民眾的使用率恐不高，而且寮國能否負擔鐵路的巨額建設成本也讓人質疑，不論鐵路帶來什麼樣的影響，毋庸置疑的是，這條以中國為主的主投資建設，將使兩國之間的關係更加深化。



- () 16. 受惠於中國的「一帶一路」政策，每周約有 30 列來自中國的列車抵達德國杜伊斯堡；列車滿載中國製的服裝、玩具和高科技電子產品，回程滿載德國汽車、法國葡萄酒和米蘭的紡織品回到中國。根據附圖的一帶一路路線圖判斷，德國汽車、法國葡萄酒和米蘭的紡織品透過「一帶」，會經由哪個行政區抵達中國？

- (A) 新疆維吾爾自治區 (B) 西藏自治區
(C) 上海市 (D) 香港特別行政區

- () 17. 中寮鐵路的建設耗資約 60 億美元，其中中國出資 70%，寮國出資 30%，寮國部分資金甚至是由中國銀行提供貸款，顯示出中國花費大量資金在投資一帶一路的建設上，下列何者並非中國投資中寮鐵路所欲達到的目的？

- (A) 掌握重要的戰略要地 (B) 拓展中國商品國際市場
(C) 單純協助提升寮國經濟程度 (D) 擴大經濟貿易範圍

【歷史】共 34 分

() 18. 附表為某國的大事記，請判斷這些紀錄應是哪個國家的史事？

- (A) 遼國 (B) 西夏
- (C) 金國 (D) 蒙古

() 19. 有位學者提到某一政權建立後：「在民族文化上採取相對寬鬆的多元化政策，包容和接納中東與歐洲文化，甚至准許歐洲人在朝廷做官和通婚等；政治上則大量重用色目人；宗教上極力推崇藏傳佛教；文化上逐漸發展出以庶民為對象的戲曲與藝術。隨著東西方的商旅、教士來往頻繁，自西方傳來的伊斯蘭教、基督教的影響力也逐漸增加。」請問：學者所提到的政權其建立者應是何人？(A) 鐵木真 (B) 忽必烈 (C) 趙匡胤 (D) 康熙帝。

() 20. 史書上記載中國在某時期有許多地方國王派使節至中國訪問。如永樂 11 年(西元 1423 年)，各國使臣與商旅來到南京多達一千兩百人。渤尼國麻那惹加那國王亦曾親率王后、弟弟、妹妹、子女，以及陪臣 150 人前來南京。請問：造成此現象的時代背景應為下列何者？

- (A) 歐洲商人因新航路開通前來貿易
- (B) 阿拉伯商人主導東南亞地區貿易
- (C) 鄭和率眾前往東南亞以宣揚國威
- (D) 中國透過遠征外國建歐亞大帝國。

() 21. 威尼斯商人曾遊歷中國，返歐後留下《馬可波羅遊記》記錄其在中國的見聞，其中有一段對泉州港口的描述：「刺桐(泉州港口)是世界上最大的港口之一，大批商人雲集這裡，貨物堆積如山，的確難以想像。每一個商人，必須付自己投資的總額百分之十的稅收，所以，大汗從這個地方獲得了巨額的收入。……據商人們計算，他們的花費，包括關稅、運費在內，總共達到貨物價值的一半。然而，就是從這餘下的一半中，他們也能取得很大的利潤，所以他們常常能夠用更多的貨物，回銷到原來的市場。」請問：關於此段敘述，下列何者正確？

- (A) 馬可波羅記錄的是宋朝統治下的泉州
- (B) 負責向商人收稅的機構為泉州市舶司
- (C) 當時外國商人僅能透過海路前來中國貿易
- (D) 遠道而來的商人以威尼斯商人為大宗。

() 22. 明朝政府為何要實行「朝貢貿易」？

- (A) 與外國建立平等的貿易關係
- (B) 走私貿易嚴重損害國家稅收
- (C) 因應新航路的發現，方便管理洋商
- (D) 以天朝上國自居，以商業利益吸引各國歸順。

() 23. 「出島」為日本鎖國政策時代修築的人工島嶼，它的主要用途是安置外國人，並管控外國商旅的貿易行為。近年長崎市府特別撥款進行重建出島的工程，好讓該地的歷史建築獲得修繕，並能夠對外開放觀光。請問：按照時代背景推論，該地建築應該會有哪一個地區的風格？

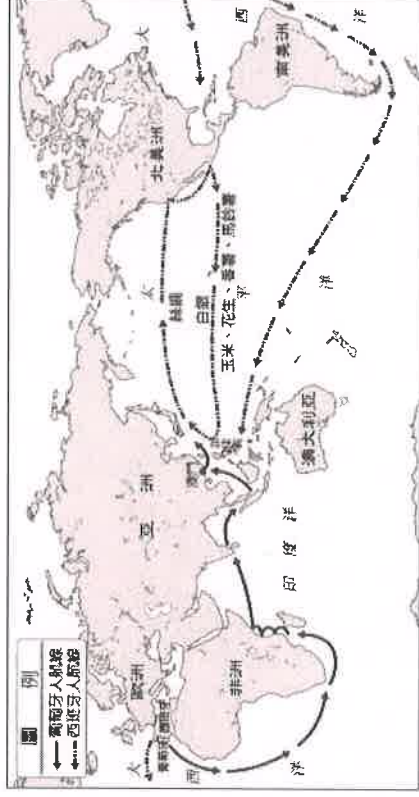
- (A) 西班牙 (B) 葡萄牙 (C) 荷蘭 (D) 英國。

太祖	滅渤海國，集權統一各部。
太宗	取得燕雲十六州，中國北方邊防線洞開，建國號。
景宗	高梁河之役。
聖宗	岐溝關之役，宋人從此不敢北伐。
天祚帝	滅亡，享國二百一十年。

() 24. 十七世紀時，歐洲的天主教耶穌會派遣傳教士，隨歐洲探險隊和商人陸續東來，其中利瑪竇為影響最大的傳教士之一，對東西方文化交流的貢獻良多。下列敘述何者正確？

- (A) 利瑪竇穿戴儒生服飾向士大夫傳教
 - (B) 強調純正基督信仰，禁止中國教徒祭祖祀孔
 - (C) 透過醫療貧苦民眾吸引信眾
 - (D) 將歐洲瓷器、園林建築等文化傳入中國。
- () 25. 宋朝蘇軾曾評論當時讀書人：「老儒先輩，自稱他們年輕時，要想求取《史記》、《漢書》而不能得到；僥倖得到了，都親手抄寫，日夜誦讀，惟恐有所不足。近年書商輾轉互借翻刻，使諸子百的書，一天就能流通萬張以上，書對學習的人來說，數量多且容易獲取，他們的文章學術成就，理應超過前人好多倍，但年輕的學子們，都把書束之高閣，不去閱讀，後言談虛浮不實，毫無根據，這是什麼道理呢？」請問：這個時代的知識分子會與前人不同，和當時哪一項技術發展有關？ (A) 造紙術 (B) 印刷術 (C) 指南針 (D) 火藥武器

() 26. 阿睿在某書中看到附圖，由圖中所描繪的路線圖來判斷，圖中路線的開拓，對於中國歷史的發展產生何種影響？ (A) 展開海外探險，華僑移民南洋 (B) 阿拉伯商人主導海路貿易，市舶司稅入頗豐 (C) 國際貿易盛行，白銀源源流入 (D) 蒙古開始西征。



() 27. 中國社會一直以來經常會接觸外來文化與飲食習慣，在不同的時代裡，常會出現過去所未接觸到的新事物。以下是一位僕人記下家中生活開銷時的狀況。這應該是哪一個時期會出現的狀況？

- (A) 秦漢 (B) 隋唐
- (C) 宋元 (D) 明清。

購域外洋琴一把，供家中歌伎演出用，支一十二兩。
購當季食蔬胡瓜二簍、地瓜一簍、玉米八斤，支三百錢。
購洋菸絲一包，支五百錢。
售黃錦鳳紋絲緞三匹，利五十八兩。
售素面生絲五匹，利二十三兩。

() 28. 「由於禮儀之爭，衍生許多問題，故傳教士必須持有朝廷的同意傳教的印票，並遵守中國禮儀才可以進行傳教。然而禮儀之爭仍持續著，皇帝直接下令除留京任職的傳教士外，一律送至澳門，各地的天主教堂改為公廨(官員辦公的地方)。」請問：上述的文字會出現在哪一本書籍中？

- (A) 《利瑪竇來華重要事紀》 (B) 《外來宗教在清朝發展》
- (C) 《倭寇與明政府的拉鋸》 (D) 《大明帝國的對外政策》。

() 29. 有學者將巴達維亞、廣州和長崎這三座城市稱為「看得見的城市」，因為在十八世紀時，這三個歐亞交匯的城市頻繁的被以圖像與文字描繪，並傳播各地，其異國風情令無數歐人為之傾倒。請問：關於這三個城市在十八世紀時的敘述，以下何者錯誤？

- (A) 巴達維亞位於印尼，是荷蘭聯合東印度公司的亞洲總部所在地
- (B) 廣州位於中國，從唐朝開始就是中國的對外貿易重鎮
- (C) 長崎位於日本，是日本在海禁中唯一開放給各國商人貿易的港口
- (D) 三座城市中只有巴達維亞是歐洲人的殖民城市。

() 30. 福建泉州的清淨寺是中國現存最早的清真寺，創建於北宋大中祥符 2 年(西元 1009 年)，至今已存在上千年。請問：當時建造此宗教建築的時代背景應為何者？

- (A) 靖康之禍後外族南下建國
- (B) 蒙古西征使伊斯蘭教傳入
- (C) 新航路發現帶來繁榮商機
- (D) 眾多信仰伊斯蘭教的阿拉伯商人東來貿易。

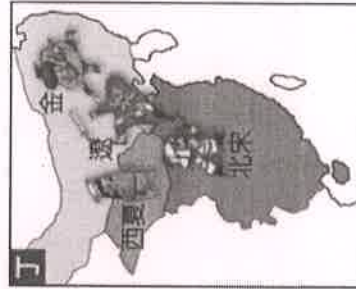
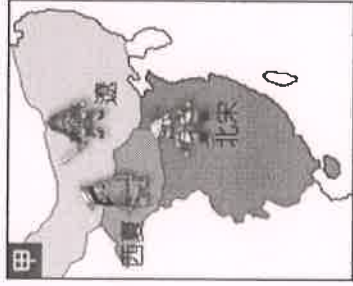
() 31. 元朝是蒙古人所建立，清朝則是滿洲人所創立，皆是外族入主統治整個中國的時期，然兩者統治的特色不同，造成這兩個朝代的發展有所差異。請根據所學，比較元朝與清朝這兩個朝代的特色，下列敘述何者正確？

- (A) 元朝統治中國的時間較清朝來得長久
- (B) 清初的統治手段，採用高壓與懷柔並行
- (C) 元、清朝皆實施種族歧視政策，以維持統治優勢
- (D) 元、清朝均實施文字獄，藉此控制思想。

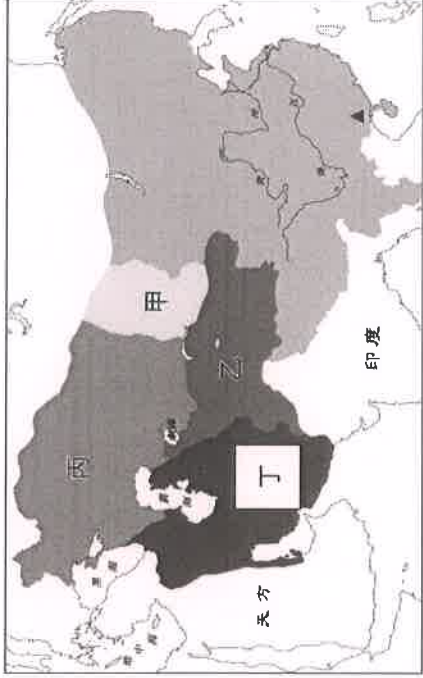
() 32. 蒙古人建立跨歐亞的大帝國，統治期間打通東西陸路貿易，且加上實施何種措施，促使歐亞之間的商業貿易大為興盛。請問蒙古帝國最有可能實施何項措施？

- (A) 實施海禁政策，打擊走私貿易
- (B) 以白銀為主要交易貨幣
- (C) 首創設立市舶司，負責掌管貿易
- (D) 廣設驛站。

() 33. 老師在講解宋、遼、西夏、金、蒙古對立形勢演變歷史時，貼了四幅地圖（如附圖）在黑板上，請同學上臺將地圖依時間順序排列。正確的順序應為何？ (A) 甲丁丙乙 (B) 丙甲丁乙 (C) 乙丁甲丙 (D) 甲丙丁乙。



() 34. 附圖為元代疆域和四大汗國的形勢圖，圖中甲、乙、丙、丁是代表四大汗國所在地；表示元代四大種族中某階層的主要分布區。請問圖中區主要分布的階層是屬於哪一族群？ (A) 蒙古人 (B) 色目人 (C) 漢人 (D) 南人。



【公民】共 32 分

() 35. 立法機關可以對總統提名的大法官行使同意權，但大法官統一解釋法律與命令的結論，立法院也必須遵守。這顯示政府運作的何種原則？ (A) 分權制衡 (B) 主權在民 (C) 責任政治 (D) 政黨政治。

() 36. 附圖是某里辦公室公告欄的文宣。根據內容判斷，這是屬於地方政府的哪一項自治事務？

- (A) 社會服務 (B) 安全衛生 (C) 經濟發展 (D) 教育文化。

公告欄

親愛的鄉親：
現值秋冬交替，流行性感
冒蠢蠢欲動的時刻。為防範
流行感冒大流行，平日請勤
洗手，發燒時請盡快就醫，
並自我監測體溫。凡年滿 65
歲的民眾，請趕快接種免費
的流行性感感冒疫苗唷！

() 37. 下列何者不屬於縣市議員的職權？

- (A) 審查地方年度預算 (B) 質詢地方首長
- (C) 審查行政院教育部年度預算
- (D) 監督地方行政機關的施政。

() 38. 下列哪些單位皆符合附圖所說的機關？ (甲) 嘉義縣政府

- (乙) 苗栗市民代表會 (丙) 直轄市山地原住民區公所
- (丁) 宜蘭縣議會 (A) 甲乙 (B) 乙丁 (C) 乙丙 (D) 丙丁。

這些都是負責審議地方法規
與地方預算的機關

() 39. 老師在課堂上讓同學進行政府機關的角色扮演，透過相互對話的方式，了解我國中央政府五院的職權運作與互動關係。根據附表內容判斷，關於甲、乙兩院職權，下列敘述何者正確？ (A) 甲：掌理各級法院 (B) 甲：提出總統罷免案 (C) 乙：統一解釋法律、命令 (D) 乙：提出《憲法》修正案。

同學	角色	臺詞內容
阿宏	甲	本院將對公務員王大明提出彈劾。
小君	乙	接著移交給本院，由本院依法審理，決定懲戒結果。

- () 40. 1999 年 9 月 21 日臺灣發生芮氏規模 7.3 級的大地震，震區受創嚴重，為緊急因應災害救助、災民安置及災後重建等工作，總統遂於 9 月 25 日發布「緊急命令」共 12 條，為期 6 個月。下列何者是緊急命令生效的必要條件之一？
(A) 經行政院發布 (B) 經立法院追認
(C) 經憲法法庭審理 (D) 經公民投票複決。

- () 41. 某日阿耐透過網路觀看立法院的議事實況轉播，根據我國現行法律規定，他最可能看見下列何者的轉播情況？
(A) 審理總統、副總統彈劾案 (B) 表決對行政院的糾正提案
(C) 召開行政院會議規畫施政方針
(D) 行政院部會首長進行施政報告。
- () 42. 天然災害停班停課，是地方政府依中央政府制訂的標準與作業辦法，考量該轄區的雨量及風力等，按危害程度決定是否發布停止上班上課。下列何者的施行與上述模式相同？

(A)

行政院推出口罩實名制，人民可以經由口罩預購系統預購口罩

(B)

立法院通過《嚴重特殊傳染性肺炎防治及紓困振興特別條例》，以因應疫情的衝擊

(C)

受到疫情影響，考選部宣布相關考試延期舉行

(D)

各縣市政府受理旅宿業者作為防疫旅館的申請

- () 43. 假設身為監察委員的大佑，在某段期間看到媒體揭露的四則新聞報導，如附表所示。根據大佑的職權判斷，表中哪一則新聞的報導對象，最可能被牠提出彈劾？
(A) 甲 (B) 乙 (C) 丙 (D) 丁。

新聞	報導內容
甲	民調顯示，民眾對於內閣官員的滿意度大幅下滑。
乙	幫派分子製毒，警方破獲史上最大毒品販賣集團。
丙	現任總統疑似洩漏國家機密，影響國家安全。
丁	中央政府部會首長涉嫌官商勾結，從中舞弊。

- () 44. 安安將今年的重要工作列舉如右所示。請問：她所擔任的職務應該為下列何者？ (A) 立法委員

(B) 監察委員 (C) 台北市議員 (D) 大法官

◎修正《民法》

◎審查中央政府預算

◎質詢教育部長

- () 45. 歷史課介紹泰國的紅衫軍運動，激起修淳興趣，想一探究竟，結果在網路上查到臺灣也曾有紅衫軍運動，內容如下：「歷史上的今天！西元 2006 年 9 月 9 日，是臺灣政壇特別的日子，30 萬身穿紅衫的反貪腐民眾，在凱達格蘭大道上靜坐抗議，要總統下臺。」依我國《憲法》，下表是解除總統職位方式的比較表，何者是正確的？
(A) 甲 (B) 乙 (C) 丙 (D) 丁。

選項	罷免總統案	彈劾總統案
提案機關	(甲) 立法院	(乙) 司法院
提案後處理方式	(丙) 交由司法院決議	(丁) 交由監察院審理

- () 46. 請根據下列對話內容判斷，哪一位最有可能擔任立法院院長？

(A) 我是來自桃園龍潭選區的委員，感謝各位委員支持，讓我取得院長職位

(B) 我有幸獲得總統提名，成為院長被提名人，在這裡要感謝同黨委員大力相挺

(C) 我過去在大學任教，受總統任命後，擔任院長一職，才有機會為國家效力

(D) 我家世代務農，經過多年的努力，終於通過國家考試，成為本院成員之一

- () 47. 行政院院長蘇揆整理了自己任內的工作日誌，日誌內容記錄擔任這個職位完成的任務。下列哪一段敘述，最有可能出現在他的日誌中？

(A) 審查「中央政府前瞻基礎設計畫特別預算」

(B) 召開國家安全會議確立中國「一國兩制臺灣方案」因應方針與機制

(C) 召集各黨連署提出彈劾案，追究總統法律責任

(D) 投入 300 億元照顧租屋族的「擴大租金補貼方案」

政策

- () 48. 下表為米國近年中央政府總預算、預算刪減金額及刪減比例之相關資料。若此種情形發生在我國，下列敘述何者正確？ (A) 資料甲是由立法院提出

(B) 資料乙是經監察院審查後，調整出的結果

(C) 根據 2020 年資料判斷，行政院可能提出覆議案

(D) 行政院提出覆議案後，得呈請總統解散立法院。

年度 (西元)	(甲)預算 編列金額	(乙)預算 刪減金額	(丙) 刪減比例
2018	1,240,000,000	20,000,000	1.6%
2019	1,500,000,000	20,000,000	1.3%
2020	1,600,000,000	80,000,000	5%

() 49. 下列哪個政府首長的主張，最符合他自己的身分？


- (A) 司法院院長：我希望將來可以推動租稅法案的修訂
- (B) 行政院院長：我要求全國警察機關全力改善國內治安
- (C) 考試院院長：我會鼓勵委員主動調查是否有公務人員違法或失職，而予以彈劾
- (D) 監察院院長：我要改善國內的教育環境

() 50. 各縣(市)即將舉辦縣市長選舉，公民老師請同學們在課堂

中模擬選舉過程，讓大家扮演不同的候選人，提出政見。

圖為 4 名同學所提出的政見。請問上列哪位候選人所提出的政見，已經超越了地方政府的職權？

- (A) 王永沁 (B) 朱楚楚 (C) 陳小千 (D) 韓大爍。

◎ 王永沁		◎ 朱楚楚	
修建各項交通建設，拓寬馬路		執行並落實本市的都市更新計畫	

◎ 陳小千		◎ 韓大爍	
修改稅法，提高本縣人民的免稅額		致力於本縣文化資產的保存，並推動鄉土教育	