


※ 注意！答案請以 2B 鉛筆畫入答案卡。 年級請劃：九 科目代碼請劃：

13

第一部分 第五冊北美洲、中南美洲：每題 2 分，共 66 分

1. () 美洲在文化變遷的過程當中，其文化特色、語言及產業活動上受到歐洲殖民者的影響相當明顯。其中美國、加拿大所在的「盎格魯美洲」主要是受下列哪些國家的影響？
(A)英國、法國 (B)英國、荷蘭 (C)西班牙、葡萄牙 (D)西班牙、荷蘭。
2. () 幅員遼闊的北美洲除了原住民族外，自十六世紀起，有大量移民陸續遷入，造就現今多民族匯集的新大陸。請問：下列哪一個種族並非北美洲主要的新移民？ (A)歐裔白人 (B)拉丁美洲裔 (C)非裔黑人 (D)阿拉伯人。
3. () 美國的黃石國家公園有特殊的地熱噴泉景觀，成為世界著名的旅遊勝地。請根據其地形作用判斷，該國家公園最可能位於哪一個地形區？ (A)五大湖區 (B)洛磯山脈 (C)拉布拉多高原 (D)北美大平原。
4. () 北美大平原南部為河川沖積形成的平原，因為土壤肥沃，成為重要的農業區。請問：該地區主要為哪一條河川沖積而成？ (A)聖羅倫斯河 (B)科羅拉多河 (C)密西西比河 (D)格蘭河。
5. () 右圖是北美洲自然災害分布圖，請問：哪一地區是著名的龍捲風走廊，每年 3~7 月是好發季節？ (A)① (B)② (C)③ (D)④。
6. () 北美洲哪一個地區最容易受到來自海上的熱帶性低氣壓影響，形成強烈的颶風，造成人員及財產的重大損失？
(A)洛磯山脈 (B)哈得孫灣區 (C)太平洋沿岸 (D)墨西哥灣區。
7. () 北美洲的經濟活動相當發達，更是全球農產品出口量最高的地區，成為當地重要的收入來源。下列有關北美農業活動的特色敘述中，何者**不正確**？ (A)機械化程度高 (B)集約化耕作 (C)農業科技進步 (D)農場規模龐大。
8. () 「美國某處因地形崎嶇，加上氣候乾燥，環境負載力較低，多開闢為粗放的放牧牛、羊牧場，由牛仔負責看管照顧。」上述所指的農牧區分布於附圖何處？
(A)甲 (B)乙 (C)丙 (D)丁
9. () 位在美國西南部加利福尼亞州的舊金山及洛杉磯，是美國華人主要的分布城市。
請問：該地區的氣候類型為何？
(A)熱帶莽原氣候 (B)溫帶地中海型氣候
(C)溫帶大陸性氣候 (D)夏雨型暖溫帶氣候。
10. () 美國拉斯維加斯為世界著名的賭城，當地附近地區盡是一片黃澄澄的沙漠，以及遍布的仙人掌。請問：影響此地景色的主要原因為何？ (A)位居高緯度地區 (B)拉布拉多寒流流經 (C)地勢高聳 (D)山脈阻擋西風。
11. () 加拿大的工業重鎮多分布於東南部地區，主要是利用哪一條河的水路運輸來發展經濟活動？
(A)聖羅倫斯河 (B)密西西比河 (C)科羅拉多河 (D)密蘇里河。
12. () 美國藉由其強大的經濟實力，將美式文化的生活方式推廣至世界各地。下列為全球最有價值百大品牌前十名中的部分品牌商標，其中何者為美國的企業？



(A)



(B)



(C)



(D)

13. () 「美國的第一大都市，同時也是世界金融中心，地標銅牛雕像即期許著股市長紅；百老匯的音樂劇全年無休，也創造可觀的經濟產出。」上述的都市最可能為下列何者？ (A)紐約 (B)洛杉磯 (C)西雅圖 (D)華盛頓。
14. () 上地理課時，老師請下列四位同學舉出中南美洲的特色，誰的言論**錯誤**？
(A)芝妍：這裡有陸地上最長的安地斯山脈 (B)翊豪：這裡有全世界最長的尼羅河
(C)耀宗：這裡有全世界最大的亞馬孫雨林區 (D)俞瑄：這裡有世界唯一的聯洋巴拿馬運河。

15. () 右圖為中美洲各國的分布圖，請由圖中位置加以判斷，東北方的牙買加位於哪一個海域上？ (A)地中海 (B)波羅的海 (C)北海 (D)加勒比海。
16. () 巴拿馬運河位於中美地峽最狹窄處，設置水閘調節水位，為階梯式運河的設計，其最可能的考量因素為何？
(A)加快船隻航速 (B)克服地形限制 (C)便於通關檢查 (D)河川流速太快。

17. () 智利位於南美洲西部，具有多樣的氣候類型。請問：其主要的影響因素為下列何者？ (A)經度範圍廣 (B)地勢起伏大 (C)國土形狀狹長 (D)寒暖流交會。



城市	緯度	海拔 (m)
墨西哥市	19.5° N	2,240
拉巴斯	16.5° S	3,640
基多	0.1° S	2,850
波哥大	4.6° N	2,625

18. () 右表四個城市依序為墨西哥、玻利維亞、厄瓜多和哥倫比亞四個國家的首都、所在緯度及海拔高度。請判斷這些國家的人口聚集在高地的主要原因為何？
(A)地形平坦 (B)氣候涼爽 (C)水源充沛 (D)農業發達。
19. () 臺灣超馬好手陳彥博在智利北部250公里的極地超馬賽中，頂著疲累不堪的身體，最終以28小時58分20秒成績奪冠。陳彥博在智利這場賽事中，需要克服當地的何種環境？ (A)潮溼悶熱 (B)狂風暴雨 (C)乾旱炎熱 (D)冰天雪地。
20. () 新聞報導：「111年10月安地斯山脈動物保護區90%的範圍受到森林野火蔓延影響，造成至少15頭動物死亡。」秘魯在今年已經發生33起森林野火，嚴重破壞當地生態環境，也威脅生活在安地斯山脈高海拔草原上的何種動物？
(A)駱駝 (B)犛牛 (C)駱馬 (D)北極熊。
21. () 近年來由於能源礦產逐漸消耗殆盡，因此石油成為國際上關注的焦點。請問：拉丁美洲的哪一個國家因為盛產石油，成為 OPEC 的會員國？ (A)巴西 (B)阿根廷 (C)巴拿馬 (D)委內瑞拉。
22. () 2016巴西里約奧運舉辦時，來自世界各地的運動員齊聚一堂，如何溝通便成了大問題，其中下列哪一參賽國家的語言與巴西主要語言相同，而較無溝通問題？ (A)西班牙 (B)印度 (C)葡萄牙 (D)法國。
23. () 受到中南美洲的氣候特色及廉價勞工的影響，該地區主要從事的農業類型為下列何者？
(A)商業性穀物 (B)集約水稻種植 (C)地中海型農業 (D)熱帶栽培養。
24. () 中南美洲在西元1950~2007年間，都市人口從42%暴增至76%，推測至西元2030年時，都市化程度將攀升至84%，僅次於北美洲。請問：造成中南美洲「都市化程度成長快速」的原因為何？
(A)都市與鄉村貧富差距大 (B)種族融合呈現多元文化 (C)城市集中於沿海地區 (D)經濟依賴歐美先進國家。

題組

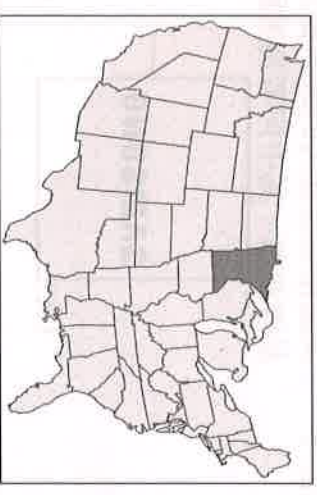
※ 美國為世界第一的經濟大國，除了國內市場規模龐大外，還包括了各級產業活動相當發達。附圖為美國的四個重要工業區域分布圖，請問：

25. () 珮妤為國內頂尖大學的電機系學生，她在畢業後若欲前往美國「矽谷」就業，應前往下列何處？ (A)甲 (B)乙 (C)丙 (D)丁。
26. () 圖中哪一地帶因其附近水域的石油和天然氣蘊藏量豐富，故石化工業興盛，同時還擁有與美國太空總署有關的航太工業？ (A)甲 (B)乙 (C)丙 (D)丁。
27. () 何區域因原料豐富、開發較早，而成為美國傳統的重工業區？
(A)甲 (B)乙 (C)丙 (D)丁。



※ 美國的明尼蘇達州位在五大湖中最大的蘇必略湖西側，其地理位置如附圖中深色部分所示。該州的特色為湖泊密布，俗稱為「萬湖之州」，第一級產業是該州的重要產業。請問：

28. () 依地理位置判斷，明尼蘇達州湖泊的形成，最可能是何種地形作用的結果？
(A)溶蝕作用 (B)風蝕作用 (C)冰蝕作用 (D)河蝕作用。
29. () 從明尼蘇達州的地理位置判斷，當地的農牧業應為哪種類型？
(A)酪農業 (B)地中海型農業 (C)副熱帶農作 (D)棉花帶。

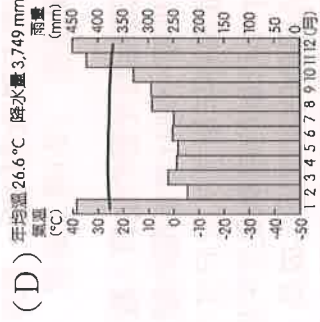
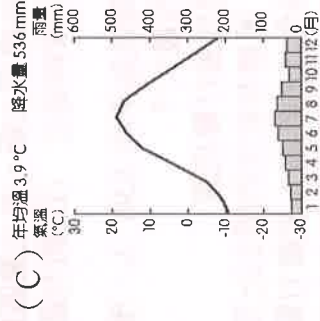
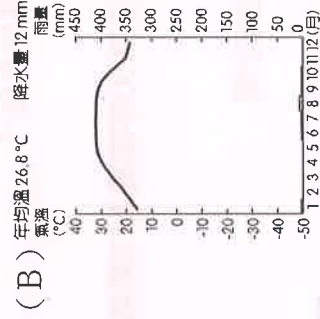
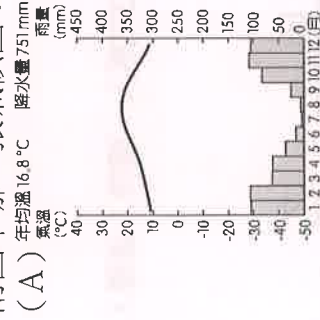


※ 1960年代以來，墨西哥北部邊境工業區吸引了數千家外商投資，創造了近百萬的工作機會。墨國對外商提供基礎設施及稅務等優惠，並允許免稅出口。此合作模式吸引大量人口移入，卻凸顯出邊境都市設施匱乏，導致環境問題與流行疾病接踵而來。請問：

30. () 上文中的工業區因為接近哪一個國家邊境，方便產品出口至當地市場，可以節省運費，因此有利於市場競爭？
(A)美國 (B)巴西 (C)加拿大 (D)巴拿馬。
31. () 墨西哥的邊境工業區由於具備下列何項工業區位條件的優勢，因而成為重要工業的所在地？
(A)資金充足 (B)勞工薪資低廉 (C)原料資源豐富 (D)擁有進步技術。

※ 巴西向以熱情洋溢的森巴文化及充滿創意的足球藝術聞名，帶給世人一次又一次的歡樂饗宴。凱雋今年剛從當地旅行回國，請回答下列問題：

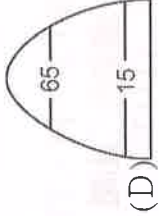
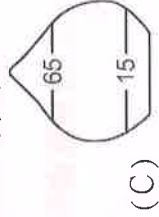
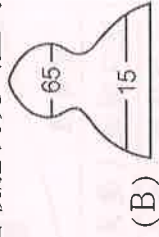
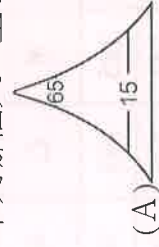
32. () 凱雋這次來到巴西，體驗完全不同的異國文化。請問：他若在出發前想了解當地亞馬孫河流域的氣候狀況，應該參考附圖中哪一張氣候圖？



33. () 巴西的森巴嘉年華會為中南美洲合成文化景觀之一，呈現出中南美洲的多元文化特色。請問：在當地融合的文化元素中不包括下列何者？ (A)非洲黑人音樂 (B)原住民文化 (C)華人節慶儀式 (D)天主教的節日。

第二部分 第一冊：每題 2 分，共 34 分

34. () 下列哪個人口金字塔圖最能表現出臺灣農村人口的現況？



35. () 下列何者屬於人口遷移中的「暫時遷移」？

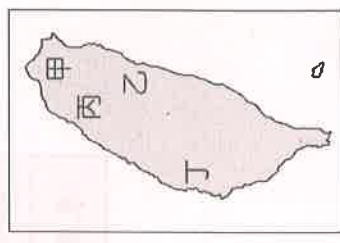
- (A)子庭跟父母移民到紐西蘭 (B)樂軒從屏東到臺北求學
(C)品聖娶了上海姑娘回臺定居 (D)高雄人雅婷生下可愛的小寶寶。

36. () 國教108新課綱上路後，有七國東南亞語可供選修，各校統計有選修需求的人數，再設法尋求師師資開班授課。若依據來臺新住民的人數比例推論，下列哪一種語言開班需求較高？
(A)越南語 (B)印度語 (C)日語 (D)泰語。

37. () 臺灣加入世界貿易組織 (WTO) 後，對農業經營的衝擊很大，為因應此狀況，未來最適合的農業發展方向為何？

- (A)採粗放式經營以降低成本 (B)設法開闢山林，增加耕地面積
(C)建立品牌及行銷，提升農產品價值 (D)推廣農業機械化，以增加農產。

38. () 1950 年代初期，臺灣的甘蔗種植面積曾高達 12 萬公頃，但受到社會經濟結構轉變的影響，面積大幅縮減，土地也紛紛轉作其他用途。請問：若要觀察甘蔗田土地轉作的情况，應該前往附圖中何處？ (A)甲 (B)乙 (C)丙 (D)丁。



39. () 行政院正積極推行區域發展相關計畫，希望降低各區域間的發展差異。目前「離島地區」若欲進行相關發展計畫，在產業發展方面以下列哪一項策略較為可行？

- (A)規畫高科技工業園區 (B)引進外勞從事加工出口業
(C)輔導地方特色民俗及生態觀光 (D)興建大型購物中心以吸引遊客。

40. () 臺灣科技業的發展奠定今日經濟根基，也造成了全球性的影響，如臺灣的半導體及筆記型電腦都為世界之冠，可見科技產業相當發達。請問：這些產業活動最依賴的區位條件有哪些？

- (甲)廉價勞力 (乙)技術研發 (丙)龐大資金 (丁)礦產豐富
(A)甲乙 (B)乙丙 (C)甲丙 (D)乙丁。

41. () 文化的傳播除了影音媒體外，還包括了語言與文字。若依我國的原住民族主要的溝通語言判斷，被歸納為南島語族。附圖為該語族的分布地區圖。請問：主要位於哪些海域之中？

- (A)太平洋、印度洋 (B)太平洋、大西洋
(C)大西洋、印度洋 (D)北極海、太平洋。



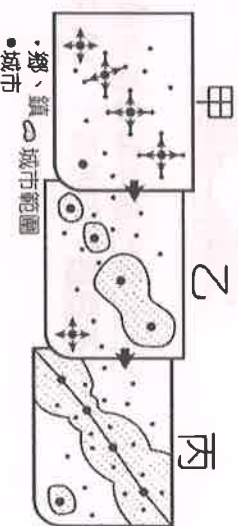
42. () 高鐵完工通車後，旅行社趁勢推出許多國內景點一日遊的行程，則下列何者較不可能是利用高鐵前往的旅遊行程？
(A)新竹風城小吃之旅 (B)臺中科博館知性遊 (C)臺南百年古蹟訪幽 (D)臺東知本溫泉之旅。

43. () 一九六〇年代臺灣設置加工出口區的區位選擇，傾向鄰近國際港口，空間上高度聚集，以利產品輸出。就此區位考量而言，下列何地最有設置加工出口專業區的條件？ (A)新北市 (B)臺北市 (C)桃園市 (D)高雄市。

44. () 宜蘭縣南方澳漁港附近，有許多魚罐頭工廠，其工業區位條件為何？
(A)市場區位 (B)勞工區位 (C)原料區位 (D)動力區位。

45. () 目前臺灣每對夫妻的生育人數已降低為平均 0.98 人，預計到2050年臺灣人口將減少293萬人。請問：這種人口成長特色和下列哪一則社會新聞的關連性最大？
(A)犯罪率逐年增加，政府宣示將加強打擊犯罪
(B)國小、班制的趨勢更加明確，將擁有較佳的師生比及活動空間
(C)精品服飾的業績逐年成長，新生代的年輕人消費力驚人
(D)幼兒學習美語的風潮歷久不衰，立委擔憂城鄉差距將更加明顯。

46. () 右圖為某聚落發展的示意圖，當聚落發展到圖中「丙」階段時，為促進郊區發展，縮短通勤時間，政府會興建哪一建設？
(A)捷運系統 (B)國際機場 (C)高速鐵路 (D)內河運輸。



47. () 臺灣的經濟以出口為主，因此各種貨物的進出口相當重要。請問：目前臺灣本島所興建的國際港口當中，下列哪一個港口直接「面對臺灣海峽」且「距離中國最近」，對於兩岸之間的航運運輸占有地利之便？
(A)臺中港 (B)基隆港 (C)花蓮港 (D)蘇澳港。

48. () 右表是某年度萬新國與甲、乙、丙、丁四國進出口貿易值資料。
請問：該年萬新國對哪一國家的「**出超**」最大？
(A)甲 (B)乙 (C)丙 (D)丁。

國家	甲	乙	丙	丁
貿易值				
進口總值 (億美元)	285	103	34	82
出口總值 (億美元)	141	278	58	66

49. () 臺灣國際貿易活動相當發達，請問：我國對於國際貿易依賴程度甚高，其原因與下列哪些因素有關？
(甲)礦產資源缺乏 (乙)疆域狹長面積太小 (丙)地勢起伏山多田少 (丁)國內消費市場有限
(A)甲乙 (B)丙丁 (C)甲丁 (D)乙丙。

50. () 下列有關臺灣北部區域和東部區域之間的區域特色比較，何者**正確**？

	(A)就業機會	(B)平均所得	(C)教育程度	(D)人口密度
北部區域	少	低	低	高
東部區域	多	高	高	低

