

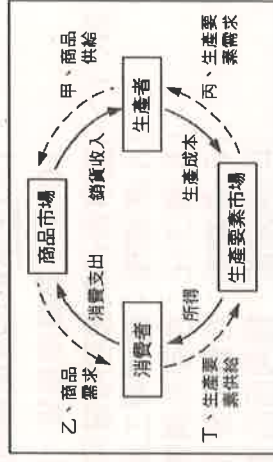
一、單一選擇題（九上新進度，每題 2 分，共 64 分）：

1. () 品儒前往國外求學，為賺取學費，她在網路上教法語，透過電腦設備，每天和學生約定時間上線，每次上課一小時，指導他們聽和說。根據上述，下列說明何者**正確**？
(A)品儒與學生是在有形市場交易 (B)品儒提供的教學屬於有形財貨
(C)品儒是生產者，學生是消費者 (D)教課時使用的電腦可稱為商品。
2. () 嘉桓向經理請教市場交易的經驗談，根據右圖內容判斷，下列哪一項推論**正確**？
(A)商品價格是由「一隻看得見的手」決定
(B)買賣雙方會選擇對自身最有利的條件進行交易
(C)政府對價格的管制目的在增加賣方利潤
(D)消費者的購買意願對商品價格並無影響。
3. () 幾位同學互相分享對市場交易的認識，下列何人的理解最為**正確**？
(A)品聖：價格像是「一隻看得見的手」引導買賣雙方順利進行交易
(B)林立：買賣雙方做出對自身最有利的選擇，將資源做最有效率的分配與使用
(C)彥碩：為顧及弱勢群體權益、促進公平正義，政府會限制市場上商品價格調漲
(D)均欣：總體來說，無論商品價格提高或降低，對消費者的消費意願並無影響。
4. () 慈吟在食品公司擔任行銷企畫，她今天領了薪水以後，就去百貨公司逛街，花了 1,200 元購買她最喜歡的牛仔褲。若將上述例子以經濟活動循環圖來表示，下列何者**有誤**？
(A)慈吟——勞力供給 (B)百貨公司——勞動市場 (C)慈吟的薪水——所得 (D)1,200 元——消費支出。



右圖是公民老師在課堂上出示的經濟活動循環簡圖。請依圖回答第 5-7 題

5. () 中午休息時間，珈苙到小吃店裡買了 15 個水餃當做午餐。珈苙買水餃當午餐，屬於右圖當中的哪一項？ (A)甲 (B)乙 (C)丙 (D)丁
6. () 新聞報導：「國立大學舉辦校園**企業徵才博覽會**，受不景氣影響導致參展企業和職缺都減少，但活動現場仍提供上千個工作機會。」請問：這種**徵才活動**，屬於右圖中的哪一項？ (A)甲 (B)乙 (C)丙 (D)丁。



7. () 宥瑄在拍賣網站上張貼「**欲賣出數位相機一臺，經濟實惠價 9,000 元**」，意者請洽詢……」的訊息。上述宥瑄的行為屬於右圖中的哪一項經濟活動？ (A)甲 (B)乙 (C)丙 (D)丁
8. () 下列有關「經濟活動循環」的敘述，何者**正確**？
(甲)消費者必須提供成本購買生產要素 (乙)消費者的消費支出就是生產者的銷售收入
(丙)生產者必須提供勞力獲取所得 (丁)生產者支付的生產成本就是消費者的所得

9. () 微薰為完成學校報告，至圖書館借了右圖的三本書作為參考資料。請問：她的報告主題應與下列何者最相關？
(A)生產與消費 (B)保障消費者的權益
(C)廠商公平競爭的重要性 (D)廠商之間的競爭方式。



10. () 在經濟活動循環圖中，「**高鐵公司與高鐵旅客**」所扮演的角色為何？(甲)高鐵公司是商品市場的供給者 (乙)高鐵旅客是商品市場的需求者 (丙)高鐵旅客是勞動市場的需求者 (丁)高鐵公司是勞動市場的供給者
(A)甲乙 (B)甲丙 (C)乙丁 (D)丙丁。

根據農委會調查，國人一天吃掉 25 萬片炸雞排，疊起來可以超過 10 座臺北 101。某雞排連鎖店老闆表示，臺中霧峰商圈，一條街就有 10 間以上雞排店，消費者喜歡貨比三家，不但比 CP 值更要比美味，如果特色不夠強，不容易被看見。(請回答第 11-12 題)

11. () 霧峰商圈的雞排店家數量與競爭程度，適合用下列哪一圖示做說明？



12. () 同學在閱讀上文內容後，下列何人的解讀**正確**？

- (A)子玄：店家應採取各種行銷策略吸引消費者
(C)湘好：只要商品價格調高，消費者就會買單
(B)子庭：消費者僅會考量價格，不在意好吃與否
(D)雅媛：政府鼓勵民眾多吃雞排有益身心。
13. () 品繪寒假與家人至彰化王功漁港旅遊，體驗採蚵，活動結束後準備吃晚餐，發現因當地養蚵業興盛，蚵仔煎店家眾多，猶豫要吃哪一家才好。請問：根據當地蚵仔煎店家的數量判斷，下列敘述何者**正確**？
(A)缺乏同類型廠商競爭 (B)消費者的選擇少 (C)屬於高度競爭的市場型態 (D)蚵仔煎價格由某店家所控制。
14. () 大學畢業十年後的同學會中，同學們聊到各自的事業，如右表。請問：何人所處的**市場競爭程度最高**？(A)志郎 (B)豆子 (C)尹之柱 (D)善益。
15. () 公民老師指定了一項作業，請同學分組報告有關「**保護消費者權益**」的主題內容。下列四名同學的說法，何者**錯誤**？
(A)偉荏：「政府制定《公平交易法》促進國民消費生活安全。」 (B)家進：「各地方設有消費者保護官。」
(C)成毅：「消費者保護專線為『1950』。」 (D)子庭：「行政院設有消費者保護處。」

志郎	這附近沒有跟我同類型的店家。
豆子	市場上只有我在生產某產品。
尹之柱	某產品的價格由我的公司所控制。
善益	我必須削價競爭才能吸引消費者。

督促廠商重視自身商譽及消費者權益，在公開、公平的誠信原則下進行交易，以減少廠商囤積、聯合哄抬物價等交易糾紛。

16. () 右圖是廷哲在某個政府組織的網站上，所看到的職責介紹。根據內容判斷，這應該是指下列哪個政府組織？ (A)消費者保護處 (B)消費者文教基金會 (C)消費者權益促進會 (D)公平交易委員會。
17. () 業者在除痘藥膏的廣告中宣稱：「使用後保證三天見效。」有藥購買藥膏使用了一星期，不但毫無除痘效果，反而引起皮膚過敏。消費者可以向下列哪一個政府單位提出申訴？ (A)勞工委員會 (B)消費者保護處 (C)消費者文教基金會 (D)消費者權益促進會。

媒體報導：「國內零售市場的雞蛋價格上漲至每臺斤 38、40 元，超市的洗選蛋一盒售價更飆到 50 元左右，讓許多消費者叫苦連天。」【甲】指出，目前已經派人了解蛋雞的飼養和產蛋狀況，並訪查蛋商，了解蛋價上漲的真正原因是否涉及聯合壟斷行為，一旦查出有人為操縱、違反【乙】法的狀況，將嚴加處罰。」(請回答第 18-19 題)


18. () 根據上述內容判斷，【甲】應為下列哪一個組織？ (A)消費者文教基金會 (B)消費者權益促進會 (C)消費者保護處 (D)公平交易委員會。
19. () 根據上述內容判斷，【乙】法應是指下列哪一項法律？ (A)《憲法》 (B)《民法》 (C)《公平交易法》 (D)《消費者保護法》。
20. () 正宇和表妹透過通訊軟體聊天，由以下對話內容推斷，下列敘述何者正確？

聊天

正宇：我和朋友合夥用網路直播的方式賣服飾，每個禮拜都會跟廠商進貨，因為不用店面租金，省了很多錢，所以賣得比較便宜。

表妹：把網址給我，我有很多同學愛看直播買東西。

21. () 董事長召集管理階層同仁檢討營運計畫，希望有效降低生產成本，下列哪一位的建議最符合公司需求？ (A)正宇和朋友販售的商品屬於無形勞務 (B)表妹介紹同學前往消費的地方是無形市場 (C)正宇向廠商進貨，因此屬於生產者 (D)正宇與客人交易的地方是有形市場。
22. () 郭經理：選擇勞工眾多、工資相對低廉的國家生產製造 (B)劉主任：在商品銷售的各個國家，大量購買媒體廣告 (C)黃襄理：設置研發部門，聘僱高科技人才開發新產品 (D)葉總監：提高商品售價，邀請國外知名偶像藝人代言



22. () 洋貿在雜誌上和朋友們分享工作點滴(如右圖所示)。請問：日方欲與我國廠商合作最主要的目的應為下列何者？ (A)降低生產成本 (B)增加銷售成本 (C)促進產業轉型 (D)保護國內產品。
23. () 生活在 21 世紀的今天，經濟活動將許多國家的人們串聯在一起。依照以下聊天內容判斷，下列說明何者正確？
- 安晴：剛剛接我電話的客服人員，口音很特別。
- 晨言：他應該是在國外，透過網路轉接替你服務。
- 子嫻：現在很多公司都選擇在工資比較便宜的國家，僱用客服人員。

- (A)航空運輸發達使得上述僱用方式變成可能 (B)公司將各部門設於不同國家稱為國際分工
- (C)公司做出這樣的決定目的在增加生產成本 (D)國內客服行業人員工資應比國外便宜許多

24. () 班上同學在班會時決定園遊會要賣章魚燒，下表為兩種實行方案的花費，根據此表，下列何人的推論較為正確？
- | 自己製作 | 租借現成機器 + 600 顆原料 + 師傅現場製作 |
|---|---------------------------|
| 章魚燒機器兩臺 + 章魚燒粉(約 600 顆量) + 海苔粉 + 柴魚片 + 內餡 + 食用油，約 4,500 元 | 約 3,000 元 |

- (A)雅薰：班上同學自己製作所花費的時間較短 (B)旭恩：如果要省錢，當然是選擇我們自己做
- (C)政諺：我們應該考量成本花費和技術的問題 (D)翹豪：兩個方案成本相同，不需要特別比較。

25. () 太陽國與星星國兩國正在進行芒果進出口貿易的協議，尚未開放前兩國的國內生產與交易數據如右表，根據右表中內容判斷，下列何項推論正確？
- | 太陽國 | | 星星國 | |
|----------|--------|----------|-------|
| 生產量 | 100 公噸 | 生產量 | 10 公噸 |
| 價格 (每公斤) | 15 元 | 價格 (每公斤) | 115 元 |
| 國內銷售量 | 60 公噸 | 國內銷售量 | 10 公噸 |

- (A)星星國將出口芒果至太陽國販售
- (B)星星國因芒果交易獲得貿易收入。
- (C)國內芒果的價格會因大量進口而提高
- (D)國際貿易可解決太陽國芒果過剩問題

26. () 義宗這次報告主題是探討 2002 年我國加入世界貿易組織後，開放農產品進口為國內消費者帶來的益處，他想蒐集當時媒體的報導來輔助說明，下列哪一則新聞最符合他的需要？

- (A)經濟快訊：進口水果滿足多元消費需求 (B)財經前線：國內農產品已面臨滯銷困境
- (C)生活週報：農民增加產量準備外銷他國 (D)社會焦點：國內農業生產成本居高不下。

27. () 政府部門召開一場記者會，右圖為記者的提問內容，下列何者較可能是負責官員的回應？
- (A)國內將增加甲類商品的產量 (B)民眾對甲類商品的選擇變多
- (C)甲類商品在國內售價將上漲 (D)國內生產甲類商品利潤上升。



28. ()產經消息：「200 多位蚵農向立委陳情，中國蚵和越南蚵養殖成本較低，廠商進口後，本土養殖蚵的價格無法與其競爭，面臨滯銷，希望政府能控制進口蚵的數量，避免影響國內養殖產業生存。」上述報導內容應與下列何項說明較為符合？
(A)公平競爭促使市場交易維持穩定 (B)消費者在商品上較難有多元選擇
(C)國內生產者縮小規模以降低成本 (D)進口商品已對國內產業帶來衝擊。

29. ()心好剛買入一棟新屋，在社群網站上詢問裝修變電箱的問題，下表中這位網友建議的重點應為下列何者？

回覆

建議你找專業的水電師傅。自己動手雖然省錢，但是缺乏專業的知識和技術，可能造成漏電或是電線走火，甚至引發火災，這樣反而得不償失。

- (A)一般而言，自行安裝施工品質較佳 (B)專業人士使用的施工材料成本較低
(C)自行施工可能要付出更大的成本代價 (D)由專業人士施工耗費的時間較長。

30. ()同學們正在討論臺灣開放進口商品對社會的影響，下列何人的分析正確？

- (A)散霄：進口農產品的價格應比本土農產品高 (B)佩妮：藉由進口他國商品可以賺取貿易收入
(C)于芹：本國商品將會因應市場而把價格提高 (D)巧思：國內廠商銷貨收入可能因此大幅減少。

31. ()有一首流行歌曲是這樣唱的：「你引擎日本來，韓德魯德國來；玻璃自南非來，阿拉伯石油來；塑膠是漳州做，車體自美國買，攏乎咱摻摻作夥（都被我們摻在一起）。嘿咻嘿咻，每臺都是臺灣製造。」上述歌詞所描寫的情況，與下列何者最相關？（註：韓德魯：指汽車方向盤。）
(A)人道關懷的救助 (B)國際貿易的互動 (C)貿易障礙的降低 (D)全球文化的發展。

32. ()為增進對公民課堂知識的理解，幾位同學正在討論國際分工的特色，下列何人的發言完全正確？

- (A)紫晴：各國專業生產機會成本較低的商品 (B)欣妤：可提升生產效率並減少產品數量
(C)采穎：低技術勞工轉為從事高技術工作 (D)馨文：導致民眾對產品的購買意願降低。

二、單一選擇題（七下複習，每題 2 分，共 36 分）：

33. ()夢軒奶奶在外買東西時，看到私立小學為了培養孩子的國際競爭力，因此極力打造雙語的教學環境，但夢軒奶奶看完之後卻感到憂心忡忡，認為孩子以後可都無法陪她說母語！請問：下列哪一項敘述可能是夢軒奶奶的想法？

- (A)強調外語的學習，可能使傳統母語式微 (B)私立學校程度落差大，可能會阻礙孩子學習
(C)兩種不同的外語可能會加深孩子的學習壓力 (D)外語教學的學費一定很貴，負擔不起

34. ()下列何項敘述最具有多元文化的精神？

- (A)面對不同文化時，我們應該以自身的文化為唯一的標準，才不會被其他文化所同化
(B)貧窮國家的文化都是不合時宜的，我們應該要多學習歐美等先進國家的文化
(C)文化具有優劣之分，優質文化應該要協助劣質文化，避免劣質文化消失
(D)我們應該先從認同與了解本土文化做起，才不會迷失在外來文化之中

35. ()秉鈞騎乘家中的機車上街，經交通警察臨檢發現他無照駕駛，依法被開處罰單且扣留機車牌照，並通知秉鈞的父母將車子取回。上述警察機關的作法，最能彰顯法律的哪一項特徵？

- (A)法律無法規範人民的內在真實想法 (B)法律強調公德，禁止無照駕駛
(C)法律需依據一定的程序來制定 (D)法律具有強制力來處罰違反法律者

36. ()在社會生活中，個人行為常受到內在心理及外在環境的影響，其中有些規範具有強制力，下列哪項敘述符合這種特性？

- (A)大年初二女兒回娘家 (B)會議進行中關閉手機 (C)縣市長選舉返鄉投票 (D)騎乘機車配戴安全帽

37. ()鈺富要去參加高雄市宋江陣比賽，以下四位同學的看法，何者正確？

- (A)侑楷：文化有高低優劣之分，宋江陣屬於次等文化 (B)柏均：廟會活動不屬於文化活動
(C)秉鴻：歌劇才算好文化，迎神賽會就很落伍 (D)秉翰：布袋戲、宋江陣等都是文化的一部分

38. ()博幼基金會是由李家同教授所創立，目的是注重偏鄉的教育，不讓弱勢的孩子永遠落入貧窮的循環。在博幼基金會的運作與李家同教授的呼籲下，政府終於開始重視偏鄉教育的問題。請問：下列敘述何者正確？

- (A)志願結社可以影響公共政策 (B)博幼基金會的性質是工會
(C)博幼基金會屬於政府機關 (D)臺北市政府與博幼基金會均屬於志願結社

39. ()班上同學上完公民課時，針對課程所學，發表下列有關團體的對話。請問：哪一位同學可能記錯了老師上課的內容？

(A)凱丞：「臺灣環境保護聯盟由環保人士自發組成，發揮了民間性特徵」

(B)孟家：「對多數人而言，原生家庭是我們最先加入的非志願團體」

(C)秉瀟：「兒童福利聯盟接受民眾捐款，這與非營利性相衝突」

(D)博祐：「臺灣電力工會有理事會與分會，這是組織性特徵」

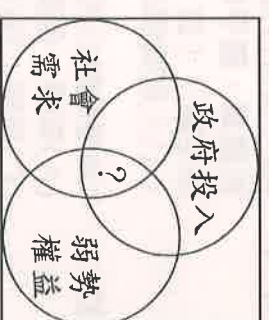
40. () 「2019 年長榮航空空服員發起了罷工作行動，由桃園市空服員職業工會向長榮航空的資方提出提高外站津貼、非工會的成員不得享用調高後的待遇等八項訴求進行勞資協商。經過 17 天的協商與各自讓步後，於 2019 年 7 月 6 日簽下團體協議，並結束罷工。」下列有關「桃園市空服員職業工會」描述，何者有誤？
(A)工會是由勞方所組成的團體 (B)工會是屬於志願結社的團體
(C)工會成員間的情感是疏離的 (D)透過工會可取得勞資平等協商的權利

41. () 「柯基國預計要在國內興建一條高速鐵路，對於設站地點，政府先在各地方舉辦公聽會，徵詢民眾的意見，在公聽會的過程中，有人贊成，也有人反對，經過多次的討論之後，政府決定某些地點將會重新規畫。多年後，這條高速鐵路終於興建完成了，但因為載客率不佳導致虧損連連，被人民批評浪費納稅人的錢，希望政府檢討改進。」
文中畫線的內容是屬於公共意見的哪個特性？ (A)公開性 (B)差異性 (C)不穩定性 (D)影響性

42. () 下列何者的作法，是我們所要追求的「公平正義」？
(A)館長捐贈健身器材給國軍 (B)小馬阻止少女坐博愛座
(C)勤勞基金會發放清寒獎助學金 (D)聖結石謾罵插隊人士

43. () 羽貞剛從大學資訊系畢業，在一家餐廳打工，她想利用週末參加縣政府舉辦的電腦訓練課程，增強自己的專長，以便找到更適合自己的工作。由上述可知，美華最有可能因哪一項社會福利政策而受到幫助？
(A)福利服務 (B)社會救助 (C)就業安全 (D)社會保險

44. () 老師要求同學在上課前要先針對預習的章節做整理，右圖是雅喬預習後所畫出的架構圖，根據圖中內容所示，該單元的主題可能是下列何者？
(A)社會化 (B)社會安全 (C)社會變遷 (D)志願結社



45. () 以下是四位剛畢業的社會新鮮人互相分享最近的求職過程與工作近況，請依據他們的談話內容，回答下列題目：
昌珉：「我的學歷有研究所畢業，老闆卻說我沒有工作經驗只能先給我 28,000 的月薪，我覺得不合理。」
宇潔：「我應徵時各項條件都有符合資格，面試時老闆卻因為我一耳失聽，會影響溝通為理由，而未錄取我。」
建均：「我昨天上班睡過頭遲到一個小時，被主管罵了一頓，心情很差。」
恩妍：「我想應徵國中代課老師，教務主任說我沒有考過教師檢定不具報名資格。」
根據四個人的談話內容，請問哪個人遭遇到「就業歧視」？
(A)昌珉 (B)宇潔 (C)建均 (D)恩妍

46. () 老師在課堂上介紹完文化的特徵後，抽籤點了四位同學，要他們分別對各個特性舉例。根據附表的内容判斷，下列哪一位同學的回答內容最不適宜？ (A)庭萱 (B)舒適 (C)秋貴 (D)雅萍。

特徵	同學	回答內容
差異性	庭萱	古代書寫的隸書、楷書，逐漸演變成我們今日所使用的文字。
普遍性	舒適	世界各地的人們，大多都有與家人、親戚一同慶祝團聚的習俗。
制約性	秋貴	我國修改交通法規，規定乘坐小客車後座的乘客應繫上安全帶。
累積性	雅萍	從腳踏車至汽、機車，人們發明更舒適的交通工具往來各地。

47. () 俞蓁：「昨天偶像劇中男主角用的手機好炫喔！我也想要有一支相同的手機。」
老師：「其實很多節目中出現的產品都是由廠商贊助，希望透過戲劇達到行銷的目的，因此，作為閱聽人應注意戲劇節目的引導效果。」根據上述對話內容判斷，下列何者最可能是老師所強調的概念？
(A)認識自我實現的意義 (B)分辨不實廣告的資訊 (C)解讀媒體隱含的意涵 (D)了解主流文化的發展。

南韓影集《魷魚遊戲》中，外籍移民阿里為了讓家人過更好的生活，而離鄉背井到南韓一間工廠工作。他做著別人不願意做的辛苦工作，卻遭人歧視，而辛勤工作也沒有獲得合理薪資，甚至遭到工廠老闆惡意長期積欠薪水。身無分文的阿里在走投無路之下，被迫加入亡命遊戲，希望獲得獎金，得以讓家人生活。(請回答第 48-50 題)

48. () 移民阿里做別人不願意做的辛苦工作，不僅沒受到公平對待，還遭到歧視，這是何種角度的不公平？
(A)利益分配 (B)責任負擔 (C)需求滿足 (D)貢獻程度
49. () 阿里原本生活在「男主外、女主內」傳統社會，為了養家而到南韓工作，甚至被迫加入亡命遊戲，這是何種角度的不公平？ (A)利益分配 (B)責任負擔 (C)需求滿足 (D)貢獻程度
50. () 阿里努力工作，卻沒獲得合理薪資，還被老闆惡意長期積欠薪水，這是何種角度的不公平？
(A)利益分配 (B)責任負擔 (C)需求滿足 (D)貢獻程度

同學辛苦了，記得將答案劃在答案卡上，收卷時只需繳交答案卡即可