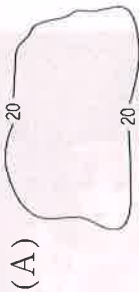


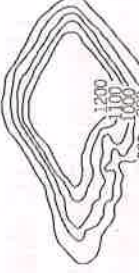


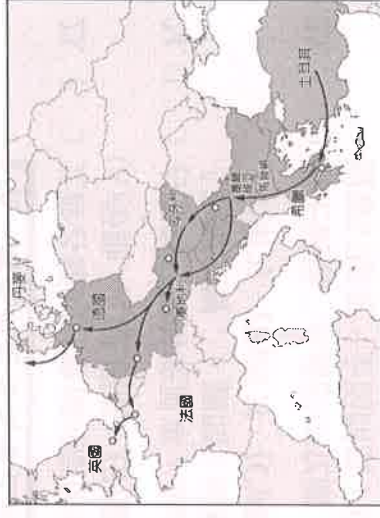
※ 注意！答案請以 2B 鉛筆畫入答案卡。 年級請劃：九 科目代碼請劃：

13

第一部分 第五冊歐洲概述、歐洲區域特色：每題 2 分，共 66 分

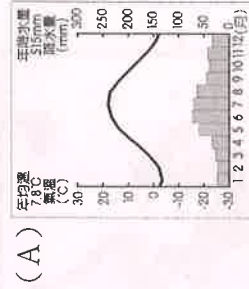
- () 下列哪些山為歐洲與亞洲的界山？(甲)底里牛斯山 (乙)高加索山 (丙)烏拉爾山 (丁)阿爾卑斯山
(A)甲乙 (B)乙丙 (C)乙丁 (D)丙丁。
- () 歐洲在第二次世界大戰後，因為各地發展的方向不同，形成兩個不同的區域特性。請問：若以經濟發展及政治體制來分辨，下列何者和其他三者的差異性最大？(A)東歐 (B)西歐 (C)南歐 (D)北歐。
- () 歐洲阿爾卑斯山以北的西歐地區，主要以何種地形為主？
(A)  (B)  (C)  (D) 
- () 歐洲大陸受到冰河作用的影响，形成獨特的地形景觀，也影響了當地的聚落發展。下列地形景觀中，何者不是冰河作用所造成的？(A)挪威峽灣 (B)芬蘭冰蝕湖 (C)維蘇威火山 (D)阿爾卑斯山 U 型谷。
- () 德國境內的萊因河水運相當發達，其河川流入哪一個海洋，因此對外貿易興盛？
(A)地中海 (B)北海 (C)黑海 (D)大西洋。
- () 《暴風雨》為英國大文豪莎士比亞的著名作品，充滿魔幻情節，引人入勝。故事一開始，就是一艘載了國王與王子的船在地中海海上遭遇暴風雨。請問：地中海出現風雨交加的季节最可能為下列何者？
(A)春季 (B)夏季 (C)秋季 (D)冬季。

- () 西亞與北非的難民為逃避國內戰亂與饑餓，紛紛跨海來到歐洲尋求庇護，引發 21 世紀的歐洲難民潮。右圖為當地難民主要移動的路線，當中所經過的地形區中不包括下列何者？
(A)伊比利半島 (B)阿爾卑斯山 (C)歐洲大平原 (D)巴爾幹半島。

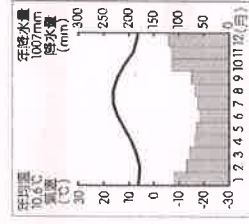


- () 歐洲因為具有下列哪些自然環境的特色，所以人口分布最為平均，大部分地區皆適宜人居？
(A)地形平坦、緯度較低 (B)海岸線長、漁業發達
(C)溫和溼潤、平原廣大 (D)終年高溫、面積廣大。
- () 西歐的英國、法國及荷蘭等國自然環境優越，氣候良好。請問：下列有關西歐的氣候介紹，何者不正确？
(A)溫帶海洋性氣候為主 (B)冬季沿海溫暖，有涼流經過
(C)終年有雨，西風吹拂 (D)沿海港口冬不結冰，利於航運。


- () 希臘在得天獨厚的氣候下，利用當地柳橙、葡萄等果園養蜂，生產蜂蜜和花粉，並用於美容產品的研發，在歐洲市場上大受歡迎。請問：希臘的氣候環境主要為下列何種類型？



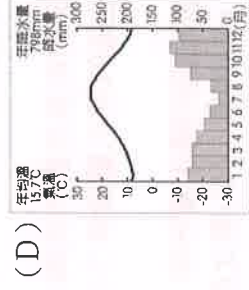
(A)



(B)



(C)




(D)

- () 2004 年 5 月 1 日起，歐盟由原來的 15 個會員國，逐漸加入東歐國家，擴大至今，目前共 27 個會員國。在新加入歐盟的東歐國家中，由於具備何項有利發展的條件，因此近年來吸引許多外資前往投資設廠？
(A)礦產豐富 (B)技術進步 (C)市場廣大 (D)工資低廉。
- () 人口問題呈現出一地區的社會經濟狀況，目前歐洲所出現的人口問題最主要是為下列何者？
(A)人口分布不均 (B)人口素質不佳 (C)人口成長停滯 (D)人口出生率高。
- () 歐盟的發展為區域性經濟組織的典範，其功能在未來更有擴大的趨勢。請問：下列有關歐盟的敘述中，何者正確？
(A)以伊斯蘭信仰為主 (B)使用英語為單一語言 (C)會員經濟發展程度平均 (D)發行歐元為通行貨幣。
- () 承上題，下列何者為歐盟的會旗標誌？



(A)



(B)



(C)



(D)

- () 德國的工業產品向以創新及高品質著稱，請問：該國工業發展的特色不包括下列何者？
(A)豐富的煤礦 (B)雄厚的科技能力 (C)以精緻聞名 (D)實事求是的民族性。

16. () 右圖為 66°NORTH 品牌 LOGO，66°NORTH 為○○的國民品牌，創始人 Hans Kristiansson 希望替當地工作的漁夫們製作一件保暖輕便的衣服，以抵擋海上洶湧多變的氣候而創立，品牌名稱取自於○○的地理位置鄰近北緯 66 度。根據上文，○○最有可能為下列哪一國家？
(A)英國 (B)冰島 (C)荷蘭 (D)捷克。



17. () 北非的突尼西亞被稱為「歐洲後花園」，最主要的原因是該國與歐洲之間僅相隔哪一個海洋，故所受影響甚深？ (A)北極海 (B)地中海 (C)北海 (D)黑海。

18. () 世界幸福報告為聯合國衡量幸福的可持續發展方案，主要項目有人民對於社會安全、經濟問題和個人自由等感受。2022 年，前八名的國家依序是：芬蘭、丹麥、冰島、瑞士、荷蘭、盧森堡、瑞典、挪威。請問：此八國家皆屬於歐洲哪兩個分區？ (A)東歐、西歐 (B)南歐、北歐 (C)北歐、西歐 (D)南歐、東歐。

19. () 右方照片中白色的建築物可以減少豔陽熱量的吸收，平頂的屋頂代表著當地很少會下雪。根據其特色判斷，該建築物應該位於歐洲哪一個地區？
(A)東歐 (B)西歐 (C)南歐 (D)北歐。



20. () 瑞士擁有純淨的高山空氣和湖泊，山脈之間切割形成的冰川山谷存在皚皚的白雪和茂密的森林。請問：瑞士能擁有許多獨特美景，這是因為位居哪一個山脈的範圍內？
(A)斯堪地那維亞山 (B)本寧山 (C)喀爾巴阡山 (D)阿爾卑斯山

21. () 位於冰島的藍湖，是利用當地某一豐富的再生能源加熱過的海水，蓄積在火山熔岩間的低窪處而形成的溫泉景點。請問：文中所提及的再生能源，最可能是下列何者？ (A)風力 (B)水力 (C)地熱 (D)太陽能。

22. () 國際新聞報導如下，根據內容判斷，烏克蘭應屬於歐洲的那個分區？ (A)東歐 (B)西歐 (C)南歐 (D)北歐。

南臨黑海的烏克蘭位於歐洲與俄羅斯之間，國內向來有「親歐」與「親俄」兩大陣營。在 2013 年底，烏克蘭親俄羅斯的總統中止和歐盟簽署政治和自由貿易協議，導致民眾群起抗議，總統因處置失當已經下臺，歐、美多國則對烏克蘭發出旅遊警訊。

23. () 北歐各國的社會福利制度發展完善，其社會福利所需要的經費來源與下列何者關係密切？
(A)勞動人口比例高 (B)國營企業獲利高 (C)礦產資源豐富 (D)居民負擔高額稅金。



24. () 右圖為荷蘭傳統風車，為該國的象徵，主要用來抽水及發電，與鬱金香和木鞋齊名為「荷蘭三寶」。請問：荷蘭風車葉面應朝向何方，才可產生最佳的風力動能？
(A)東方 (B)西方 (C)南方 (D)北方。

25. () 瑞士號稱「永遠的中立國」，但為了維持與歐盟在交通、環境、科學研究和貿易等領域的緊密來往，瑞士最終仍與歐盟簽訂協定，全面開放了邊界，並因此獲益。請問：瑞士應是完成下列哪一項程序，才能與歐盟會員國間免除邊境檢查與簽證等手續，讓人口、貨物與商業能自由流動？
(A)加入歐盟 (B)使用歐元 (C)簽署申根公約 (D)加入北大西洋公約。

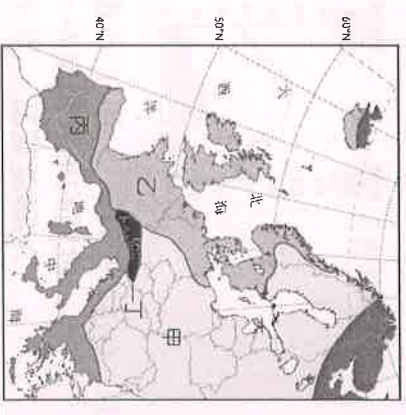
題組

※ 歐洲的自然環境相當優良，因此人口稠密且分布平均。而各地不同的氣候形成多樣化的區域特色，也為歐洲文化增添了許多色彩。請問：

26. () 歐洲各地區的氣候差異和其降水量的分布關係甚大。圖為歐洲的氣候類型分布圖，其中哪一個地區的降水量最多？(A)甲 (B)乙 (C)丁 (D)戊。

27. () 承上題，該地區的降水量分布，主要受到下列哪一風向的影響？
(A)西風 (B)東風 (C)東北信風 (D)東南信風。

28. () 若垂涎想到歐洲著名的高山地區欣賞 U 型谷景觀，並體驗滑雪的刺激。可前往圖中的哪一種氣候區內？(A)甲 (B)乙 (C)丙 (D)丁。

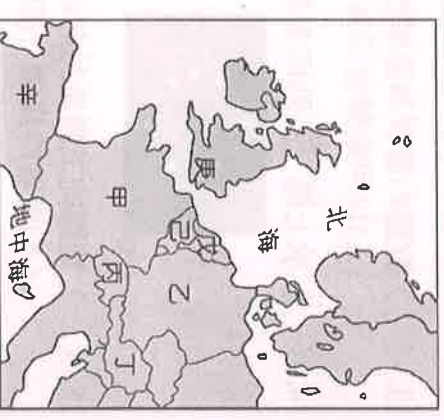


※ 歐洲有很多國家，且各國皆有其發展的特色。附圖為歐洲主要國家的分布簡圖，請根據資料，回答下列問題：

29. () 工業革命的發源地，圖中哪一個國家早期依賴煤礦來發展工業，成為能殖民海外的經濟強權？(A)甲 (B)乙 (C)戊 (D)庚。

30. () 雅蕙打算在會考後的暑假去觀賞奧運比賽，並遊覽艾菲爾鐵塔、羅浮宮、凱旋門等景點，再選購LV的精品皮件送給媽媽當禮物。請問：他的旅行目的地是何國？
(A)甲 (B)乙 (C)丙 (D)辛。

31. () 歐洲的萊因河流域跨越多國的工業重心，而成為重要的工業地帶。請問：萊因河在右圖中哪一個國家注入海洋，使鹿特丹港成為歐洲最大港？
(A)乙 (B)戊 (C)己 (D)庚。

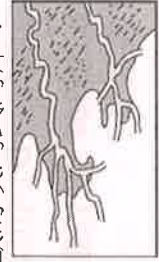


※ 北歐的峽灣地形遠近馳名，每年均吸引大量遊客前往參觀，並有利於漁業與航運的發展，挪威更有「峽灣國」之稱。請問：


32. () 下列何種海岸類型，最可能為北歐的峽灣式海岸？



(A)



(B)



(C)



(D)

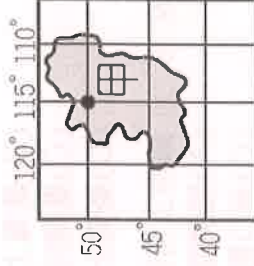
33. () 上文中的「峽灣」形成主要原因為何？

- (A)斷層陷落，海面上升 (B)岩層軟弱，海水侵蝕 (C)冰河侵蝕，海水入侵 (D)冰河融化，地層下陷

第二部分 第一冊：每題 2 分，共 34 分

34. () 宇鴻船長在航行中發現一座島嶼，並将它標示於右方地圖上。請問：甲點的位置為何？

- (A)東經 115 度，北緯 50 度 (B)東經 115 度，南緯 50 度
(C)西經 115 度，北緯 50 度 (D)西經 115 度，南緯 50 度



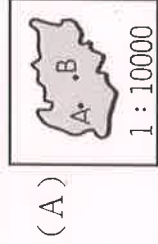
35. () 位置的表示方法有兩種，下列哪一敘述是在說明「相對位置」？

- (A)經典美術館在 (5, C) 網格內 (B)日盛證券在重慶南路與忠孝西路交會處
(C)颱風目前位置在臺灣東南方的海面上 (D)馨文坐在教室的第 1 排第 2 列。

36. () 地理課時，老師請四位同學上台介紹美麗的寶島臺灣，其中哪一位同學的敘述有誤？

- (A) 小美：位於太平洋及歐亞大陸交會處，海陸位置優越。 (B) 大雄：山地面積相當廣大，主要分布於臺地高原之間。
(C) 小英：位置偏東的中央山脈是分水嶺，也是地形脊梁。 (D) 大明：地勢由中央向兩側漸低，主要平原分布於西部。

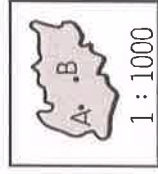
37. () 雅婷老師在進行水土保持的地理實察後，將某地區的資料繪製成不同比例尺的地圖。下列哪一張圖中 AB 兩點之間的實際距離最長？



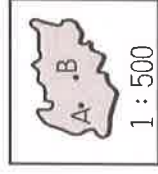
(A)



(B)



(C)



(D)

38. () 臺灣有許多珍貴的特有生物，這和水可時期的自然環境變遷關係密切。請問：當時許多亞洲大陸的生物透過何處遷移來臺，因此該地區被稱為生物遷移的橋梁？

- (A)巴士海峽 (B)中央山脈 (C)太平洋 (D)臺灣海峽。

39. () 世界大學運動會 (世大運) 每兩年舉辦一次，目的是提供大學生運動員參加國際運動賽的機會。右表為近幾年主辦國家的基本資料，臺灣也曾是主辦國之一。請問：以表中的國家來看，當時哪一個國家的選手到臺灣參加世大運時，最需要克服「時差」的問題？

- (A)中國 (B)韓國 (C)俄羅斯 (D)義大利。

西元	國家	主辦城市
2011	中國	114°E, 22.5°N
2013	俄羅斯	56°E, 43.9°N
2015	南韓	126°E, 35°N
2017	臺灣	121°E, 25°N
2019	義大利	12°E, 41°N

40. () 某艘馬來西亞籍貨船於巴士海峽遇到颱風來襲，準備緊急向臺灣恆春半島航行避難。請問：當時船員必須特別注意下列何種意外的發生？ (A)岬角阻擋 (B)撞上礁石 (C)落石擊中 (D)淤沙擱淺。

41. () 電視節目曾經介紹晒鹽業在臺灣是即將走入歷史的產業，如果根據節目拍攝的地點來推論，下列哪一項敘述錯誤？

- (A)這是岩岸地形的利用方式之一 (B)晒鹽業的發展需要乾溼季節分明
(C)晒鹽產業需要靠天吃飯 (D)拍攝地點可能在臺南。

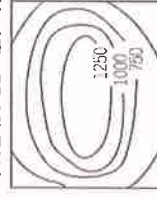
42. () 以下四幅等高線地形圖，哪一類地形附近的居民最可能在當地開闢茶園、果園？



(A)



(B)



(C)



(D)

43. () 臺灣周圍有許多離島，如：(甲)澎湖群島 (乙)龜山島 (丙)琉球嶼 (丁)蘭嶼 (戊)東沙島。其中，屬於火山島的有哪些？ (A)甲乙丁 (B)甲乙戊 (C)乙丙丁 (D)乙丁戊。

《下一頁還有試題喔！》

44. () 有地質學家提出警告，大屯山底部恐蘊藏豐富的岩漿，如果爆發將會造成周圍地區的災情慘重。對此，下列哪一個縣市政府應做好相關措施，以避免屆時應變不及？ (A)澎湖縣 (B)花蓮縣 (C)臺中市 (D)臺北市。
45. () 雅喬利用暑假搭火車環島，她由臺中出發，以逆時針方向搭乘火車繞行臺灣一周。請問：臺灣鐵路路線主要為環狀分布的原因為何？ (A)海岸線長 (B)山脈分布 (C)季風風向 (D)河川走向。
46. () 昱賢打算利用寒假期間全家出遊，為了不讓下雨影響遊玩的雅興，可以最優先考慮下列哪一個景點？
(A)宜蘭冬山河 (B)臺北陽明山 (C)南投日月潭 (D)屏東墾丁。
47. () 臺灣中部地區的日月潭水庫水質較為純淨，因此提供下游居民良好的水源灌溉，種出著名的西螺米，正是「好水出好米」的最佳寫照。西螺位於雲林縣北端，北隔溪水與彰化縣相鄰，由此判斷此處稻田主要水源為下列何者？
(A)淡水河 (B)濁水溪 (C)高屏溪 (D)立霧溪。
48. () 右圖為臺灣某日的地面天氣圖，氣象播報員會如何說明此幅天氣圖？
(A)臺灣因受颱風影響，所以多強風大雨
(B)臺灣上空晴朗無雲，是一個陽光普照的好天氣
(C)臺灣因受滯留鋒面影響，會出現連續降雨
(D)臺灣上午炎熱高溫，下午則出現雷陣雨
49. () 國際上常發生爭奪小島主權歸屬的問題，主要的原因在於小島掌握下列哪項因素？
(A)經濟海域的資源利用權利 (B)國家領土總面積的大小
(C)港口數量的多寡 (D)農作物的總面積。
50. () 右圖為某一水系的分佈圖，根據圖中資訊判斷，下列關於甲、乙、丙、丁四點的敘述，何者**正確**？
(A)甲點的流量較少 (B)乙點涵蓋的集水區範圍最大
(C)丙點位於河川上游 (D)丁點的地勢最低。

