

一、 單一選擇題 (九上新進度，每題 2 分，共 52 分):

1. () 公民老師請同學解釋「機會成本」的意義，下列哪一個同學的說法最正確？

- (A) 鈺琪：「價格低多買，價格高少買的現象，就稱為機會成本。」
(B) 品儒：「個人行為對他人或社會所產生的影響，稱為機會成本。」
(C) 卉勛：「面對選擇時，在捨棄的眾多用途中，價值最高的那個用途，其價值就是做此選擇的機會成本。」
(D) 玉秀：「將資源用於某一用途時，所放棄的其他選擇機會中，滿足程度最小、價值最低者，就稱為機會成本。」

2. () 昌珉要選購生日禮物，媽媽說可以從遊戲軟體、樂高積木、機器人、小熊撲滿四種產品中挑選。右表是昌珉對這四種產品的喜好順序，昌珉最後決定購買樂高積木，則他做此選擇的機會成本為何？ (A) 遊戲軟體 (B) 樂高積木 (C) 機器人 (D) 小熊撲滿。

價格	產品	喜愛程度
1,000 元	遊戲軟體	2
1,000 元	樂高積木	1
1,000 元	機器人	4
1,000 元	小熊撲滿	3

3. () 心好是診所的護士，每天的日薪是800元，10月3日這一天她原來是要上班的，但是為了要去看韓國BLACKPINK的演唱會而臨時跟同事換班，那麼下列哪些是心好看演唱會的機會成本？

(甲)演唱會的交通費用 (乙)上班的交通費用 (丙)演唱會門票費用 (丁)日薪800元

(A) 甲乙丙 (B) 甲乙丁 (C) 甲丙丁 (D) 乙丙丁。

4. () 下列關於「資源」的敘述，何者正確？

- (A) 使用自然資源，應以滿足人類欲望為優先考量 (B) 世界上的資源，大多具有「稀少性」
(C) 陽光、空氣、水等自然資源，皆可無限取用 (D) 資源雖無限，但人類欲望有限，所以會面臨選擇問題。

5. () 公民老師在黑板上列出如附表所示的數據，請同學單純就月薪來分析機會成本。根據表中資料，何者的解析錯誤？

工作	月薪(元)
甲	16,000
乙	18,000
丙	20,000

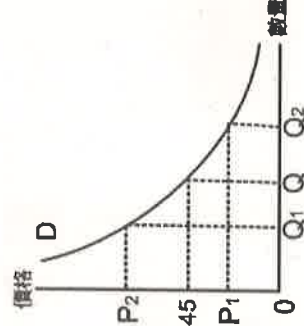
(A) 選擇甲工作的機會成本是 20,000 元 (B) 選擇丙工作的機會成本最低

(C) 選擇丙工作的機會成本為 34,000 元 (D) 選擇甲工作或乙工作的機會成本相同。

6. () 求職中的旭恩同時獲得甲、乙、丙三家公司的錄用通知，最後他選擇到甲公司上班。在不考慮其他條件的情況下，下列哪句話最能說明旭恩的選擇？

- (A) 甲公司最符合旭恩的志趣 (B) 乙公司和丙公司的薪水太低
(C) 甲公司的機會成本最低 (D) 乙公司和丙公司的機會成本太低。

7. () 右圖為香雞排的需求曲線。若香雞排的售價從 45 元調整為 70 元，而消費者的所得及其他條件不變的情況下，消費者願意購買香雞排的數量可能產生何種變化？



(A) 由 Q 往 Q1 移動 (B) 由 Q2 往 Q1 移動 (C) 由 Q 往 Q2 移動 (D) 不一定。

8. () 下列四人的說法，何者符合「需求法則」的意涵？

(A) 子傑：「百貨公司推出高單價古董芭比娃娃，仍然吸引許多人購買收藏。」

(B) 柏偉：「颱風過後，青蔥價格高漲，民眾減少購買青蔥。」

(C) 恩妍：「零用錢有限，買了張愛玲小說《色·戒》後，就不能再買王力宏最新的 CD 唱片。」

(D) 采穎：「油價上漲，計程車業者跟著調高車資。」

9. () 政府推行任何政策，必須進行規畫、評估和檢討，若以「誘因」來理解右圖中三位政府官員的對話內容，下列說明何者正確？

(A) 限塑政策屬於非金錢誘因的影響 (B) 使用金錢誘因對每個人都有效果

(C) 民眾對於相同誘因的反應有所差異 (D) 政府主要目標在於增加國家稅收。

10. () 明傑身上帶了 2,000 元到鞋店去買球鞋。他看上了一雙非常酷炫的球鞋，價格為 2,200 元，最後明傑買了一雙 1,900 元的球鞋。明傑的消費行為主要是受到下列何種因素所影響？ (A) 機會成本 (B) 預期心理 (C) 收入多寡 (D) 消費者偏好。

11. () 甲國今年西瓜盛產，造成西瓜價格下跌，吸引民眾購買，使得今年西瓜的需求數量大幅增加。上述現象可以用下列哪一個圖形來表示？



12. () 右圖是某一經濟學原理的圖示。根據內容判斷，該圖最能說明下列何種現象？

(A) 商品折扣優待，購買人潮湧現 (B) 減少員工人數，降低生產成本

(C) 檸檬價格上漲，果農增加供給數量 (D) 颱風來襲，民眾搶購蔬菜。

13. () 「廠商使用自有資金時，可以節省利息成本。」這句話對嗎？理由何在？

(A) 錯，因為這樣可以多賺些利息 (B) 對，因此可以省下向銀行貸款的利息

(C) 錯，自有資金仍有機會成本，並非沒有利息成本 (D) 對，使用自己的錢不用負擔利息成本。

14. ()我們在從事消費行為時，往往受到各種因素的影響。下列各項消費行為當中，何者是受到預期心理所影響？

- (A)百貨公司週年慶大特賣，採購人潮爆滿 (B)汽油價格即將上漲，加油站前等著加油的車輛大排長龍
(C)張先生被公司裁員，平日省吃儉用減少消費 (D)蔡董事長夫人喜歡買鑽石珠寶。

15. ()面對全球景氣的萎靡不振，各上市科技公司紛紛尋求因應之道。右表為南部科學園區各家廠商所採取的方法。請問：這三家業者所採取的是下列哪一種策略？

- (A)降低生產成本 (B)增加生產數量 (C)提高單位利潤 (D)調降商品價格。

公司行號	採取策略
封測精密公司	實施員工無薪休假
品圓代工公司	取消年終尾牙聚會
LED 製造廠	減少員工加班時間

16. ()電視製作人秉鴻想為主持人憲憲開闢新節目，只是秉鴻不知該開闢綜藝節目，還是益智節目，而大傷腦筋。請問：秉鴻面臨的選擇課題與下列何者相同？

- (A)舒涵考慮到底是要生產草莓蛋糕，還是牛角麵包 (B)百貨公司的化妝品業者，特別針對女性消費者推出促銷方式
(C)名牌皮包標榜純手工打造，而非機器生產 (D)生產者考量何種生產方式最能降低生產成本。

17. ()新聞不斷報導「雞蛋殘留有害人體的抗生素」的消息，引起消費者不安，蛋價也跟著下跌。依據「供給法則」判斷，此時生產者最可能採取下列何種措施？

- (A)增加供給數量 (B)減少供給數量 (C)增加需求量 (D)減少需求量。



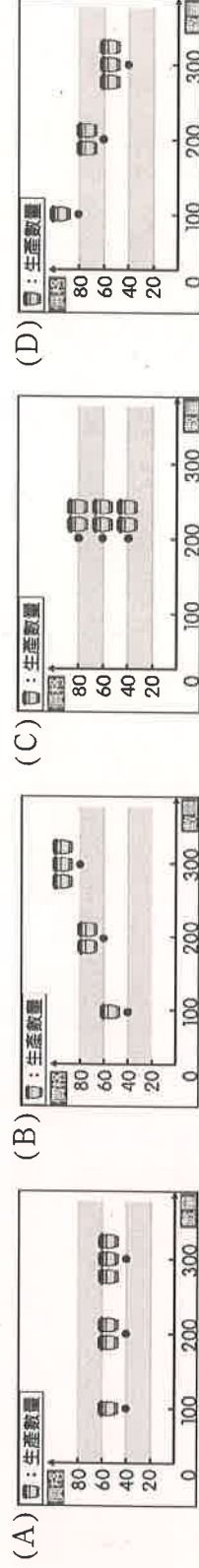
18. ()右圖為快樂旅行社推出的旅遊促銷方案。下列相關敘述何者正確？

- (A)消費者參加此一行程，其旅費將會增加 (B)快樂旅行社提供的是有形的財貨
(C)業者是運用需求法則來提高利潤 (D)此一促銷方案可以降低業者的成本。

19. ()新聞報導：一位高麗菜農表示，每當市場上高麗菜價格提高時，大家就會一窩蜂的種植高麗菜，但大家搶種的結果，就是高麗菜收成的數量太多，超過市場上需要的數量，因此造成高麗菜價格崩跌，賣出的價格都不夠收成的成本。為了減少損失，他開放高麗菜田讓民眾自行摘採，一顆 10 元。很多民眾看了便宜，一次都採十幾顆，整個菜園也迅速被採光了。請問：根據上文所述，對於高麗菜在市場上的價格與銷售，下列說明何者正確？

- (A)高麗菜價格崩跌的主因是民眾無力購買 (B)由於其他蔬菜盛產，造成高麗菜滯銷
(C)高麗菜價格上漲，會提高農夫種植意願 (D)增加產量可帶動市場上高麗菜價格上漲。

20. ()庭萱以市售豆花為例，製作了一幅圖解釋「價格對生產者的影響」，應是下列何者？



21. ()幾個同學正在思考社會資源的分配問題，下列何人的說法最為正確？

- (A)阿菁：任何資源的分配只能以追求效率為主要目標 (B)阿妍：社會資源分配的規則應由政府全權決定
(C)阿涵：用投票方式決定社會資源的使用最公平 (D)阿岑：分配社會資源應顧及是否符合公平正義。
()孟家參加一場研討會，以下為主講者對國內農業生產行為的觀察紀錄，他想闡述的主題應為下列何者？

- ★鳳梨、釋迦外銷價格看好，農夫搶種，預期收成後能賣個好價錢。
★中國禁輸入鳳梨、釋迦，價格崩跌，農夫考慮日後改種其他作物。

(A)政府限制農業向外發展業務 (B)生產方式與自然生態的關連

(C)產品價格變動對生產者的影響 (D)食品加工在農業上的發展性。

23. ()新型冠狀病毒疫情來勢洶洶，各國防疫物資嚴重不足，右圖為我國與甲國口罩銷售方式的比較，依照圖中內容判斷，下列何項推論正確？

- (A)我國發生有人高價囤積口罩的情形 (B)甲國的口罩交易受到政府強力干預
(C)我國政府的做法不利資源公平分配 (D)甲國的經濟弱勢者可能無力購買。



24. ()由於資源有限且具有多種用途，生產者為了有效使用資源、追求更多利潤，都必須思考種種課題，並做出決策。下列何者屬於「為誰生產」的課題？

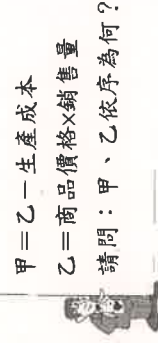
- (A)宗祐考慮要生產筆記型電腦還是智慧型手機 (B)家甄考慮洗面皂要用手工製作還是透過機器生產
(C)秉鴻考慮變速自行車是自行設廠生產或是委外代工生產 (D)思涵考慮產品主要消費族群要針對上班族還是學生。

25. ()右圖是洪老師請同學完成的學習單。下列哪個同學的答案是正確的？

- (A)睿濠：「甲是銷貨收入，乙是利潤。」 (B)子芸：「甲是銷貨收入，乙是機會成本。」
(C)宥煊：「甲是利潤，乙是銷貨收入。」 (D)云瑄：「甲是利潤，乙是機會成本。」

26. ()在推崇綠色消費的今日，許多店家也紛紛響應。以下何種店家的做法，具「非金錢誘因」概念？

- (A)攜帶可重複使用的袋子享 8 折優惠 (B)分享綠色消費理念給親朋好友並提出證明者，當次消費可享 8 折優惠
(C)用可重複使用的容器裝餐點，下次消費時折抵 10 元 (D)使用環保餐具的顧客可使用寄杯功能



41. () 承上題，公視戲劇「我們與惡的距離」，其中有一段劇情，媒體工作者以公開死刑犯家屬資訊，為死去的家人出一口氣，請問：這樣的行為，是否為尊重人權的表現？

(A) 可以，媒體替天行道，公布加害人家屬的資訊，可讓大眾向其追究責任
(B) 不可以，加害者家屬也受人權保障，如此公布加害人家屬的資訊，使其遭受外人的辱罵，不合乎尊重人權之精神
(C) 可以，受害人的人權受到侵犯，受害人家屬有權藉此表達自身對加害人的不滿
(D) 可以，加害人之所以如此，很可能因為家庭因素導致，透過此方法，可有效找出加害人的犯罪動機。

42. () 政諺向友人提及一則新聞內容，認為此舉具有保障人權的精神，他所指的應是下列哪一則新聞？

(A) 高鐵免費接駁公車，採用無障礙空間設計，方便身障人士搭乘
(B) 絕美天空步道落成，使用原住民族傳統建材裝飾，極具文化美感
(C) 知名手機大廠發表新技術，採用面部辨識功能，減少失竊危機
(D) 縣府規畫春日梅子節活動，鼓勵民眾品嚐梅子，感受地方特色

43. () 父母對子女如未盡到教養、照顧、保護、監督等責任，則會受到不同的制裁，如法院可判決停止不適任父母親權的行使。右表中的四種情況，何人最可能被判決停止親權？

(A) A (B) B (C) C (D) D

44. () 爸爸因為兒子幫忙買肉圓「沒加辣」，竟情緒失控對妻小施暴，事後夫妻兩人協議離婚，法院將兒子監護權判給媽媽。請根據上述判斷，下列何者正確？

(A) 父母濫用管教權利，社會局可依法停止其親權

(B) 兒子日後將因父母離婚而喪失其對父親遺產的繼承權

(C) 夫妻離婚時，對於未成年子女親權的行使，妻子依法無法爭取權利

(D) 爸爸日後可能因為曾對兒子施暴，而喪失可受其扶養的權利

45. () 原住民族的部落會議在部落自治基礎上的角色是 什麼？

(A) 是原住民族部落中扮演文化傳承的團體

(C) 是原住民族的權力核心，會議的議決是部落族人共同遵行的依據

(B) 是中央政府轄下的地方政府組織

(D) 是原住民族的教育單位。

人物	管教方式
(A) 趙先生	拆閱國中的兒子書信
(B) 錢媽媽	徵求國小的女兒同意後將她賣給王老闆
(C) 孫先生	反對高中的女兒想和男朋友結婚
(D) 李太太	反對就讀研究所的養子購買筆記型電腦

46. () 翊豪與巧思於國中時相識、相戀，攜手走向紅毯。結婚後，他們分別找到不錯的工作，但由於翊豪的工作在上海、巧思的工作在屏東，因此決定養毛小孩，過著兩人世界的這對夫妻，只好相約每一季排出假期，在高雄相聚一段時間。請問：翊豪與巧思所組成的家庭生活模式，應為下列何者？

(A) 重組家庭、聯合家庭 (B) 重組家庭、跨國婚姻家庭 (C) 頂客家庭、兩地家庭 (D) 頂客家庭、跨國婚姻家庭。

47. () 下文是一位身心障礙者的日誌，根據內容判斷，下列何者最能闡述他的想法？

7月21日 天氣：晴

今天去面試工作，我能感受到面試官對身心障礙者的偏見歧視和刻意刁難。雖然我是顏面傷殘者，但我仍有能力工作、與人善意互動，也能為我所做的事情負責。唉，真希望能快點找到工作！

(A) 每個人都有人性尊嚴，應該受到同等尊重 (B) 職業無高低貴賤之分，只要努力就能成功

(C) 杜絕性別歧視，才能使女性安心進入職場 (D) 利用時間充實自己，方不易被社會所淘汰。

48. () 我國國民都能領取身分證，平均每十年會更換一次身分證，近期新式身分證設計出爐，新式規格引發民眾討論。請問：擁有我國身分證所代表的意義為何？

(A) 出生在我國境內 (B) 長期居住於我國 (C) 擁有我國國籍 (D) 年滿20歲。

49. () 林立在原住民族社群網站上蒐集資料，主要內容是關於「如何奠定原住民族自治的基礎」，下列哪一個連結提供的訊息較符合他的需要？

(A) 連結一：第三次部落會議計畫事項 (B) 連結二：巡迴醫師宣導預防針施打

(C) 連結三：颱風暴雨造成河水暴漲區 (D) 連結四：祖靈傳說故事連載第12篇。

50. () 下列四人中，何人已取得我中華民國的國籍？

(A) 父母均為我國國民，在美國出生的品聖 (B) 父母為外籍人士，來臺灣旅遊時早產的小孩彥碩

(C) 剛和我國籍男子新婚的韓國女子昀欣 (D) 申請到花蓮念大學的香港留學生鈺真。

同學辛苦了，記得將答案劃在答案卡上，收卷時只需繳交答案卡即可