

【地理】共 34 分

一、選擇題（一題 2 分）

- ( ) 1. 在中國某些地區仍存在，欲結婚的男性向未來親家支付「彩禮」習俗（在台灣稱聘金），然而，這幾年來彩禮不斷創新高，顯示中國男子娶妻的成本及難度日漸增加。請問這和一胎化政策所造成的哪一個影響有關？ (A) 少子化 (B) 高齡化 (C) 人口外移 (D) 性別比失衡

- ( ) 2. 中國流傳一段順口溜：「北京看全國都是基層，上海看全國都是鄉下，新疆看全國都太擁擠，西藏看全國都沒信仰，內蒙看全國都缺牛奶，海南看全國都太寒冷。」其中「海南看全國都太寒冷」主要因下列何種因素所造成？ (A) 緯度的差異

(B) 地勢的起伏 (C) 季風的風向 (D) 時區的不同。

- ( ) 3. 附圖為中國全國性商品糧基地分布示意圖，由分布位置可知，可能與下列哪一地理特性相關？

- (A) 大多位於平原地區 (B) 位於乾燥氣候區  
(C) 環境負載力較低區 (D) 位於最高階梯區。



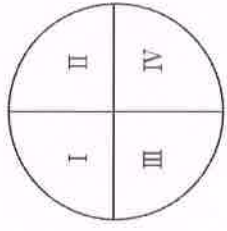
- ( ) 4. 黑戶，是指在中國無戶籍資料、沒有身分證的人。由於父母沒有能力繳交「社會撫養費」，不能辦理戶口，進而喪失了教育、就業、結婚等基本權利，有些人甚至需要借用家中唯一有戶口的小孩的戶籍才能就醫。請問黑戶可能和中國的哪一個特徵最有關係？ (A) 計畫生育 (B) 族群複雜 (C) 人口負成長 (D) 人口數龐大



- ( ) 5. 中國遷移到海外的華人，會將文化向外傳播，稱為「文化擴散」。請問下列何者並非有關華人的文化擴散？

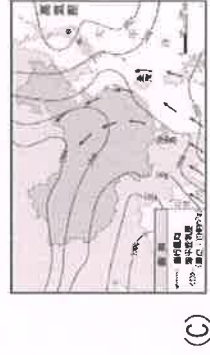
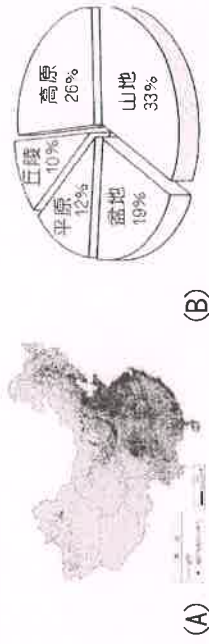
- (A) 新加坡有中國城，可以吃到中式餐點如海南雞飯  
(B) 馬來西亞有濃厚的傳統新年習俗，例如舞龍舞獅  
(C) 美國二月十四為情人節，會送小禮物給喜歡的人  
(D) 潮州三山國王廟為當時廣東先民凝聚同鄉而建立

- ( ) 6. 奕綸將中國國土大致分為四個象限，用以說明其乾燥程度的分布狀況，如附圖所示。若乾燥程度愈高則顏色愈深，則圖中哪一個象限的顏色應最深？

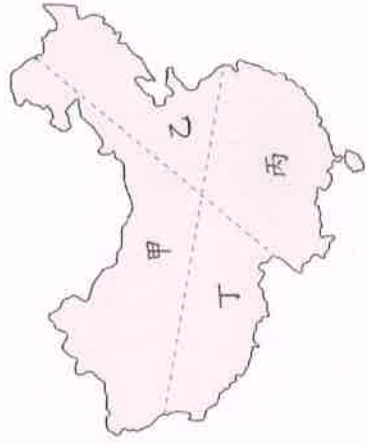


- (A) I (B) II  
(C) III (D) IV。

- ( ) 7. 「一江春水向東流」、「滾滾長江東逝水」，中國詩詞中經常會描述河流的流向，請問下列哪一張圖是造成此現象的原因？



- ( ) 8. 荔枝原產於中國，相傳楊貴妃很喜歡吃荔枝，唐代詩人杜牧寫到「一騎紅塵妃子笑，無人知是荔枝來」，即可知楊貴妃對荔枝的喜愛。荔枝的營養生長期適溫在 24-30℃，此外，充沛、均勻的降雨有利於荔枝的生長，從氣候條件分析，附圖中哪一區域最適合栽種荔枝？ (A) 甲 (B) 乙 (C) 丙 (D) 丁



- ( ) 9. 浩子騎著單車從中國沿海某地出發，打算探訪中國的邊境之地，其路線如附圖所示。請問下列敘述何者正確？  
(A) 冬季氣溫愈來愈高 (B) 起點城市可能是上海  
(C) 最後到達的邊境為內蒙古 (D) 經濟程度愈來愈高。



<題組一>

2012 年通車的「哈大高鐵」，南起遼寧省大連市，北至黑龍江省哈爾濱市，雖然該區夏季炎熱，但冬季溫度在 0℃ 以下，土壤容易結冰，產生凍土，加上常常有暴風雪的產生，即使鐵路行經路線海拔很低，幾乎無太多地形起伏，十分平坦，在建設上仍有許多難關。在高鐵完工後，除了使當地的交通運輸更為便利外，也吸引到許多觀光客前往搭乘，一起體驗鐵路沿線的美好風光。(改寫自《穿越-40℃ 的雪國列車！世界首條高寒高鐵「哈大鐵路」》)

- ( ) 10. 根據文本內容，請問右圖中的四條鐵路哪一條最有可能是「哈大高鐵」？ (A) 甲 (B) 乙 (C) 丙 (D) 丁



- ( ) 11. 若乘坐哈大高鐵去到某地旅遊，請問哪一個是去到當地最有可能會看的景象？

- (A) 廣大無邊的沙漠  
(B) 參觀知名景點窯洞  
(C) 農民使用機械化耕作  
(D) 當地居民住在蒙古包

<題組二>

中國的省級行政區劃中，可分為省、直轄市、自治區與特別行政區，下圖中甲～戊則是中國的自治區。

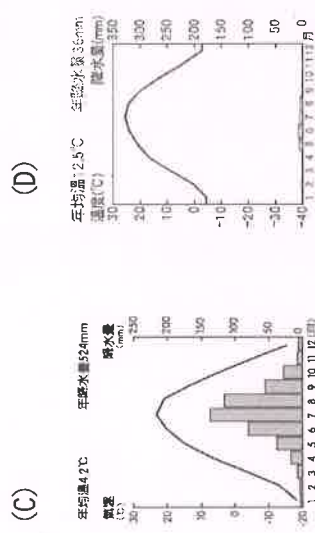



- ( ) 12. 老師請八年五班分組，準備報告位於自治區的中國的少數民族，請問以下哪一組的報告內容是正確的？  
(A) 甲民族被譽為草原上的民族，隨處可見風吹草低見牛羊的特殊景觀。  
(B) 乙民族為寧夏回族，女生通常頭戴頭巾，男生則是頭戴小白帽。  
(C) 丙自治區為少數民族中人口最多的民族，所在地以高地氣候為主  
(D) 丁自治區因地處邊陲，鄰國眾多，所以民族組成十分多元

- ( ) 13. 高山症，指人體處在高海拔地區時，由於氣壓改變，導致空氣中的氧氣含量減少，人就會因缺氧出現頭痛、嘔吐等症狀。在中國某地區，雖然該地有世界第一高峰，許多登山客都慕名前往挑戰，但由於當地平均高度超過 4000 公尺，仍有許多民眾因害怕引發高山症而卻步。請問上述的某地區最有可能是哪個地方？

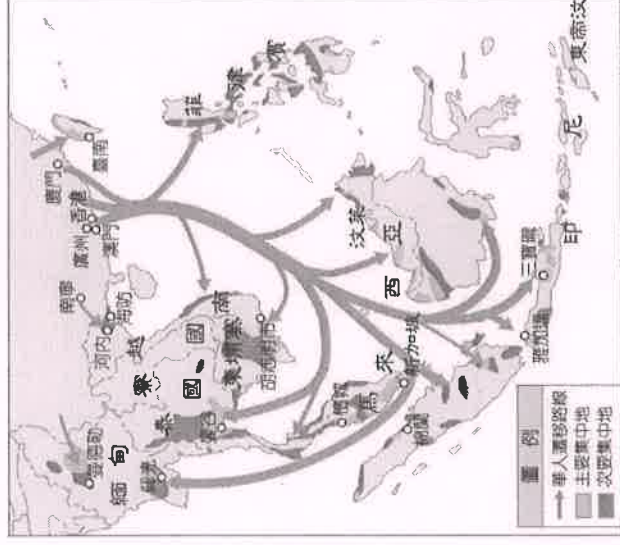
- (A) 甲，黃土高原 (B) 乙，青藏高原  
(C) 丙，黃土高原 (D) 戊，青藏高原

- ( ) 14. 承上題，此區因空氣稀薄，水氣量不多，經常晴朗無雲，日夜溫差大但年溫差小，夏涼冬冷，請問下列哪張氣候圖符合以上敘述？



<題組三>

下圖為近代中國東南沿海人口向外遷徙示意圖，請回答下列問題：



- ( ) 15. 若由附圖資訊中華人遷移路線與集中地判斷，下列哪個國家不是華人主要的遷移地？

- (A) 越南 (B) 泰國 (C) 寮國 (D) 菲律賓  
( ) 16. 印尼最大的唐人街位於雅加達的草埔。草埔知名的建築物金德院，便是當地最早的華人寺廟之一。除印尼之外，許多東南亞國家也有不少華人居住，依照圖中一開始向外遷移的地區來判斷，請問這些華人的祖先原先最可能居住在中國境內哪種地理環境？ (A) 山多田少的丘陵 (B) 水草豐美的草原  
( ) 17. 當時華人向海外遷移多搭乘帆船，根據上圖判斷，當時由廈門出發到新加坡時，主要是利用哪一季節與風向順風而行？

- (A) 夏季，↘ (B) 冬季，↗  
(C) 春季，↗ (D) 秋季，↘



## 【歷史】共 34 分

- ( ) 18. 西元前十一世紀周人滅商後，其勢力持續向東方擴展，由於周管轄的土地與人口在短時間內急速增加，為了天下的長治久安，因此周朝的統治者，設計出一套有效的政治制度管理各地。上述政治制度的內容，最可能是下列何者？

- (A) 在領土內設置郡、縣，官員由國君直接任免  
(B) 實施科舉制度，促進社會各階層人才的流動  
(C) 將百姓編入戶籍，並以法律規範人民的義務  
(D) 依據貴族的身分等級，授予土地與冊封爵位。
- ( ) 19. 西元 1978 年，中國湖北省考古挖掘出一組曾侯乙編鐘，是目前規模最大、音域最齊全且最廣的編鐘系統。這套編鐘除了象徵古代青銅器的高超技術外，還代表著這套編鐘主人的社會地位。當時社會使用這些青銅樂器象徵身分地位，且依據每個人的身分進行不同的規範，不同身分者聽的樂舞、使用的器物、出巡的排場都不相同，不可任意違反或破壞，藉此達到統治上的目的。請問，其目的為何？
- (A) 安撫商朝遺民 (B) 區別尊卑差異  
(C) 確立繼承血脈 (D) 保衛王室安全。

- ( ) 20. 自漢代起，中國逐漸形成講究身分的世族社會，不僅掌控政權，在經濟上還擁有大量土地。此外，他們凡事講求門當戶對，以維持其尊貴的社會地位，甚至連皇帝都對世族有所顧忌。請問：下列關於世族的敘述，何者**錯誤**？

- (A) 世族社會的形成和漢代「經學取士」有關  
(B) 曹魏時開始實施九品官人之法，更加擴大世族勢力  
(C) 魏晉時，形成了「上品無世族，下品無寒門」的現象  
(D) 唐代中期以後，因戰亂、科舉等因素勢力逐漸式微。
- ( ) 21. 東周以來，國與國間競爭激烈，各國皆尋求富強的改革機會，而商鞅推動的變法內容使秦國趨於富強，奠定秦國的雄厚實力，使其最終有機會攻滅各國完成統一大業。請問：商鞅變法帶來的富強契機為何？

- (A) 有效掌握戶口，充實國家稅賦  
(B) 實施焚書坑儒，嚴格控制思想  
(C) 地方推舉人才，選拔賢能人才  
(D) 設立考試制度，任官更為客觀。

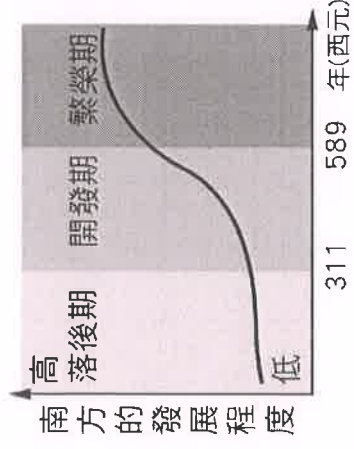
- ( ) 22. 查群勤奮好學，飽讀詩書，欲入朝為官，施展抱負，為民謀福。請設想查群若是身處不同時代，下列何項敘述可能為查群受選拔任官的情形？

- (A) 若他是西周時代的平民，  
可憑藉出色的才能與謀略受到國君重用  
(B) 若他為漢代經學世家的成員，  
可透過九品官人法出任官員  
(C) 若他為曹魏時期的儒家學子，  
可能因獲得軍功受地方長官薦舉任官  
(D) 若他是唐代的平民子弟，  
可能透過科舉獲得出任官員的資格。

- ( ) 23. 西元 751 年的戰役他們俘虜了中國士兵，有部分是造紙匠。他們把這些中國工匠運送到撒馬爾罕造紙。此後，撒馬爾罕紙成為東方對漢式綿紙的正式稱謂。關於上文提到的「他們」應來自哪個地區？

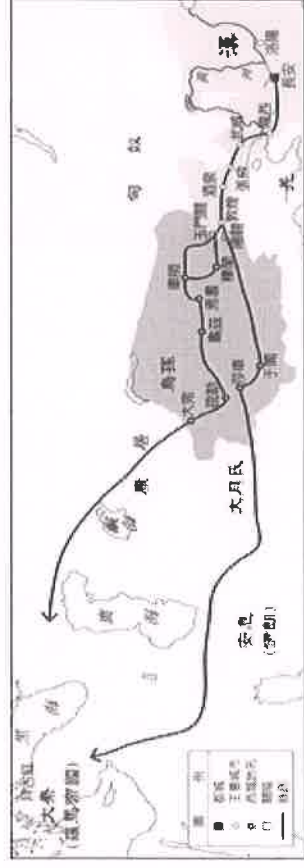
- (A) 大食 (B) 吐蕃 (C) 新羅 (D) 日本。

- ( ) 24. 中國歷代的政權發展大多位於黃河流域地區，但隨著人口成長、政權版圖擴大、外族入侵等因素，中國的政權版圖開始向西、向南發展。另外，隨著戰爭動亂，北方人士開始大量南遷，也加速了南方的經濟發展。根據上述短文，以及附圖所示，人口大量南遷的時代應於下列何者？
- (A) 先秦時期 (B) 西漢初年 (C) 魏晉南北朝 (D) 唐代。

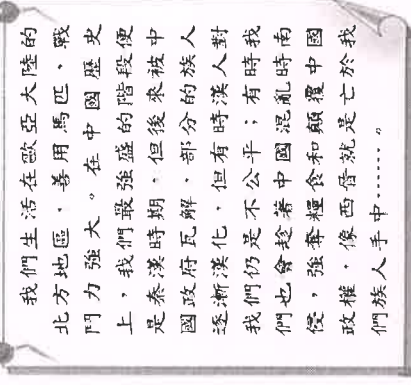


- ( ) 25. 小蓮在參加歷史研討會時上臺報告，播放一張東西貿易交流圖(如附圖)，以此講解某位歷史人物貢獻。請問：下列何者是小蓮最有可能用來描述此人物的字句？

- (A) 派遣大將蒙恬征伐匈奴，並命人修築城牆，  
抵禦草原民族入侵，保障中原安全。  
(B) 不畏艱辛前往天竺學習十餘年，回國後從事佛經翻譯工作，對中國佛教的發展貢獻很大。  
(C) 在他出使西域的過程中，曾被外族俘虜囚禁，  
卻也使朝廷更加了解西域形勢，東西商路更加活絡。  
(D) 派大將李靖征服東突厥，使國力大振，國威遠播，  
一時西域各族紛紛歸順，被尊為「天可汗」。



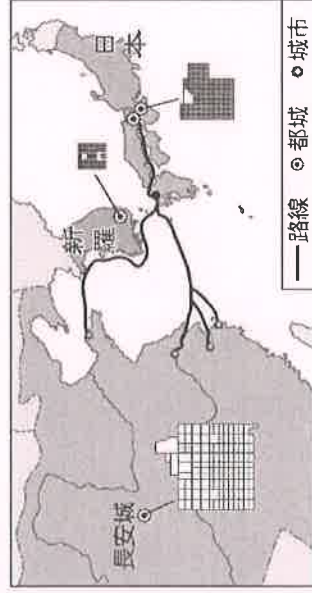
- ( ) 26. 沁沁參觀「胡人天下」的展覽，在闖關遊戲中，他得到以下的提示。請問：他應該要選擇下列何者才能繼續闖關？
- (A) 犬戎 (B) 匈奴 (C) 鮮卑 (D) 東突厥。



- ( ) 27. 玄奘法師自幼即在佛門，亟欲一睹佛土的真面目，因此決定長途跋涉到西土一探究竟。於是他從河西走廊向西，一路經新疆、阿富汗、喀什米爾，總共在外 19 年。請問：玄奘所處的時代背景應為下列何者？

- (A) 魏晉南北朝亂世，人們尋求宗教慰藉  
(B) 張騫出使西域，歐亞交通暢通  
(C) 秦始皇修築長城，抵禦草原民族侵擾  
(D) 唐朝風氣開放，胡風盛行。

- ( ) 28. 美國漢學家費正清的著作《中國：傳統與變革》中說：「作為橫跨中亞陸上商路的東端終點，以及有史以來最大帝國的都城，長安城擠滿了來自亞洲各地的人。」當時城區面積有 83 平方公里，城內百業興旺，人口近百萬，其中長住的外國人有數萬人之多。他們在長安城中從事商貿、宗教、飲食等各行各業。請問：美國學者書中所述的朝代，可能還會出現什麼情形？
- (A) 雲岡石窟於此時開鑿 (B) 張騫成功往來絲路  
(C) 孝文帝推動胡漢融合 (D) 胡人擔任政府官員。
- ( ) 29. 下圖呈現某一時期東亞部分國家的都城規畫，以及交流路線示意圖。根據內容判斷，圖中的路線最可能是下列何者？ (A) 鄭成功船隊在東亞的貿易路線  
(B) 耶穌會教士在東亞的傳教路線  
(C) 甲午戰爭時日本進攻中國的路線  
(D) 唐朝時日本使者前往中國的路線。



- ( ) 30. 在今湖北省雲夢縣睡虎地發現的秦墓竹簡中，出土一些法律文書，其中一份資料記錄戶籍狀況，寫著某里的無爵平民甲的家如下：戶籍記載包括房屋、財產、人口、奴婢、牲畜等，鉅細靡遺。請問：由上述內容的記載，可以推論當時政府推動此制度的作用為何？ (甲) 建立封建制度  
(乙) 建立中央集權 (丙) 作為徵兵依據  
(丁) 作為課稅依據 (戊) 民間講學資料
- (A) 甲丙丁 (B) 乙丁戊 (C) 乙丙丁 (D) 丙丁戊。

家屋一棟二室，各有入口，室皆瓦蓋，設有木造的門；種有桑樹十株；妻某在逃，不予查封；成年女兒某，未婚；未成年男子某，身高六尺五寸；奴婢：未成年女子某；雄犬一隻。

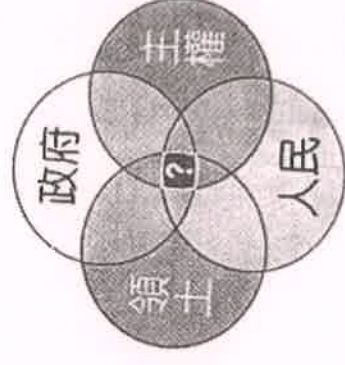
- ( ) 31. 劉先生在與友人談論自身家族歷史時提到：「我們跟漢代皇室的劉姓家族完全沒有關係，我們先祖不屬於漢族，而是來自北方，姓獨孤，直至進入中原地區才更改姓氏為劉姓。」請問：劉先生的家族最可能來自哪一族？
- (A) 匈奴族，在漢武帝時代戰敗臣服於漢，後世協助漢朝駐守邊境，因表現亮眼受皇帝賜姓劉  
(B) 鮮卑族，北魏孝文帝時代，政府遷都洛陽並推行漢化政策，將原姓氏改為漢人姓氏  
(C) 突厥族，唐太宗時代來到洛陽經商，為了方便做生意而取了漢人姓氏  
(D) 大和族，為唐代日本派遣至中國的遣唐使，後在長安任官時擁有了漢人姓氏。

- ( ) 32. 宜庭正在製作有關唐代「東亞文化圈」的報告，但是有個地方寫錯了。請你在下列選項中幫她找出這個錯誤？
- (A) 影響的國家包含新羅、日本等國  
(B) 唐代派遣使節到各國留學，學習他國長處  
(C) 佛教是東亞文化圈共同的元素之一  
(D) 中國文字、法律與制度對鄰近國家的影響很大。
- ( ) 33. 悟空發現日本是一個深受中國文化影響的國家，日本長期與中國往來接觸，甚至影響日本歷史與文化的發展，日語中「大化革新」的意思就是偉大的變化。請問，關於大化革新的敘述何者正確？
- (A) 模仿中國小篆字體創造日本文字  
(B) 中國透過公主和親帶動文化交流  
(C) 目的在於學習唐朝律令制度  
(D) 中國文獻中稱其為「君子國」。
- ( ) 34. 附圖為《圖說中國史》一書中國某時期的文字演變圖表。請問：關於此圖乙時期的歷史敘述，何者正確？
- (A) 君主採行郡縣制度以加強中央集權  
(B) 封建諸侯的勢力超越天子  
(C) 貴族身份世代相襲被稱為世族  
(D) 為了征伐匈奴，派遣張騫出使西域



## 【公民】共 32 分

- ( ) 35. 附圖是用來解釋某名詞的示意圖，請問：其中「？」交集處為下列何者？ (A) 美利堅合眾國 (B) 南島語族  
(C) 塔利班組織 (D) 薩摩亞群島。



- ( ) 36. 現今一般疾病的患者可以選擇不接受治療，即使有生命危險，國家也不能強制就醫；但新冠肺炎屬於法定傳染病，在《嚴重特殊傳染病肺炎防治及紓困振興特別條例》中，授權政府把患者強制隔離治療，而費用應由政府負擔。根據上文，請問下列敘述何者正確？
- (A) 一般疾病不受治療是基於人民的自由權  
(B) 內文提到的條例是由人民選舉的民意代表依一定程序制定而成  
(C) 政府把病患強制治療是一種權利的行使  
(D) 法律保障人民權力不受政府任意侵犯。



( ) 37. 俄烏戰爭自 2022 年 2 月開打至今仍未止息，俄軍部隊攻佔 (甲) 烏克蘭各大城市和區域，(乙) 烏克蘭民眾倉狂逃離家園躲避戰火，另外親俄的烏克蘭東部兩個省自行宣布獨立，歐美國家聯合世界各國 (丙) 不承認其國際地位，(丁) 烏克蘭總統也懇請世界各國伸出援手，提供武器及資金的援助，力抗俄國。請問：以上 (甲)、(乙)、(丙)、(丁) 分別為何種國家構成要素？

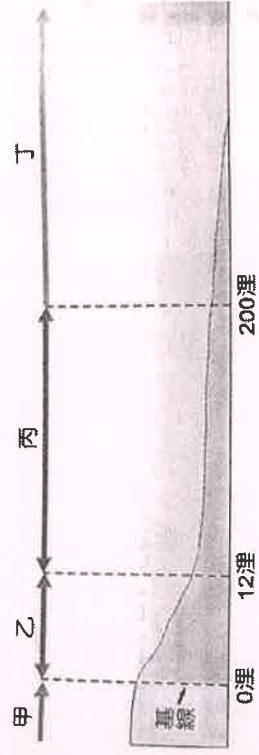
- (A) 人民、領土、政府、主權 (B) 人民、領土、主權、政府  
(C) 領土、人民、政府、主權 (D) 領土、人民、主權、政府

( ) 38. 位於西非的幾內亞於西元 2021 年發生軍人奪權事件，軍方領導人占領國營電視臺，宣布解散當時的政府，並廢止憲法。下列相關敘述何者正確？

- (A) 該事件屬於國家主權的變動  
(B) 發生該事件等同國家的滅亡  
(C) 政府是短暫、可改變的  
(D) 該國已合法轉移統治權。

( ) 39. 今年八月，中國有多枚彈道飛彈穿越臺灣領空，國防部發布新聞稿表示，共軍彈道發射後的主要飛行路徑位於大氣層外，對本島未構成危害，所以未攔截，也未發布空襲警報。上述提及的「領空」範圍應包含右列那些代號？

- (A) 甲 (B) 甲、乙 (C) 甲、乙、丙 (D) 甲、乙、丙、丁



( ) 40. 下列四位同學針對「人民」發表自己的想法。請問：何者的說明錯誤？

- (A) 新住民取得我國身分證，達法定資格後，可享有參政權  
(B) 在台的外籍移工雖不具我國國籍，但仍應遵守我國法律  
(C) 國中生雖有我國國籍，但未達法定年齡，仍非國民  
(D) 美國籍旅客來台灣產子，仍然不能取得我國國籍。

( ) 41. 美國聯邦參議院通過「二〇二二年臺灣政策法」法案，強調拜登政府將持續深化台美關係，提供臺灣外交、經濟、軍事援助，協助臺灣，請問：美國強化與我國的外交軍事援助，這與國家構成要素及其存在目的的哪些項目有關？

	(A)	(B)	(C)	(D)
國家組成要素	人民	領土	政府	主權
國家存在目的	保障基本人權	維持社會秩序	促進經濟發展	保衛國家安全

( ) 42. 法國學者孟德斯鳩主張三權分立，請問：這三權指的是？

- (A) 行政權、司法權、監察權 (B) 行政權、立法權、司法權  
(C) 立法權、考試權、監察權 (D) 行政權、監察權、立法權。

( ) 43. 下列選項中，何者屬於「權力」的展現？

- (A) 張警官依法進入民宅，將通緝犯逮捕歸案  
(B) 大山向政府申請紓困補助金  
(C) 小玉在網路上發表他對酒駕的看法  
(D) 阿華透過投票權的行使，選出心中理想的候選人。

( ) 44. 下列關於「國家」的描述，下列敘述何者正確？

- (A) 國家必須由同一個民族組成  
(B) 國家的組成要素包含人民、主權、領土、政黨，缺一不可  
(C) 政府的更替不會影響該國在國際上的地位  
(D) 只要是居住在這個國家的人民，就是這個國家的國民。

( ) 45. 下列選項中，何者不是民主國家「有限政府」的特色？

- (A) 政府的職權及運作方式必須受到憲法的規範  
(B) 將權力分給不同的機關行使  
(C) 政府機關的權力各自獨立，避免彼此制衡  
(D) 政府須依法而治，接受人民的監督與約束。

( ) 46. 各政黨在選舉前，除了舉辦黨內初選外，亦常以「民調」數字為基礎決定候選人，以爭取執政的機會。上述做法顯示民主政治具有何種特色？

- (A) 民意政治、責任政治 (B) 政黨政治、民意政治  
(C) 法治政治、政黨政治 (D) 責任政治、法治政治。

( ) 47. 依據我國憲法本文第 12 條規定：人民有秘密通訊之自由。因此為避免人民利益受到損害，非因犯罪調查之需要，並經法院同意，國家不得任意監聽人民之通訊及其內容。請問：以上規定主要在保障

- (A) 人民的積極權力 (B) 人民的消極權力  
(C) 人民的積極權利 (D) 人民的消極權利。

( ) 48. 孫中山提出五權分立來補救三權分立的缺失。請問：下列關於五權分立的描述，何者正確？

- (A) 為了避免議會專制，將監察權從司法權中獨立出來  
(B) 為了避免政府濫用私人，將考試權從行政權中獨立出來

將考試權從行政權中獨立出來

- (C) 多了司法及監察權兩權  
(D) 歐美各國的政府體制多採用五權分立。

( ) 49. 在民主國家中，行政機關要推動政策，必須要有立法機關制定的法律作為依據。若行政機關違法濫權，侵害到人民利益時，人民可依法定程序向司法機關尋求協助。請問：上述內容最符合下列何種概念？

- (A) 分權制衡 (B) 定期選舉  
(C) 國家主權 (D) 政黨輪替。

( ) 50. 政黨政治是指不同政黨間有公平競爭的機會。下列情形何者符合政黨政治的精神？

- (A) 7/28 舉辦「臺鐵都會區捷運化桃園段地下化建設計畫」  
(桃園市平鎮區路段) 工程第 1 場公聽會  
(B) 市政質詢時，市長被議員問贊不贊成「廢死」，市長說：依法行政  
(C) 日本前首相安倍晉三被暗殺，警察廳長下台，多名奈良警察也遭懲處  
(D) 2020 年總統副總統選舉時，民進黨、國民黨和親民黨都推出候選人參選，最後民進黨勝出取得執政權。