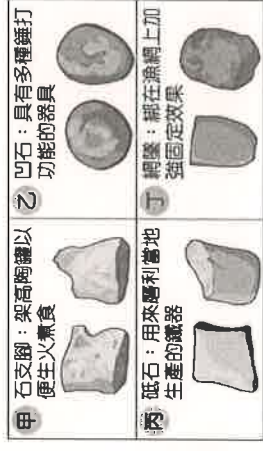


一、 歷史單一選擇題 (每題 2 分，共 78 分)：

1. ( ) 代表臺灣「新石器時代」的文化有哪些？(甲)大坌坑文化；(乙)十三行文化；(丙)圓山文化；(丁)卑南文化  
(A)甲乙丙 (B)甲乙丁 (C)甲丙丁 (D)乙丙丁
2. ( ) 史前時代可以分為舊石器時代、新石器時代與金屬器時代，通常考古學者區分史前文化分期的依據，是依下列何者？  
(A)遺址四周的地理環境 (B)遺址中動植物的化石 (C)史前人類使用的器物 (D)出土的人類遺骸
3. ( ) 人類早期有一段漫長的演化過程，稱為「史前時代」。請問：史前時代與歷史時代是以何者為劃分依據？  
(A)陶器的使用 (B)部落的形成 (C)文字的發明 (D)農業的出現
4. ( ) 右圖是臺灣某考古遺址中，同一文化層出土的四種石器。圖中何者最適合作為判斷該文化層所屬時代的證據？



- (A)甲 (B)乙 (C)丙 (D)丁
5. ( ) 臺灣的原住民，依其主要生活區域的不同，可分為平埔族和高山各族。其中有關平埔族的敘述，下列哪一項正確？

- (A)其漢化的時間較高山各族稍晚 (B)早期生活在平原、丘陵地區  
(C)大約可分為泰雅、布農等十六族 (D)移入臺灣的時間在漢人之後
6. ( ) 西班牙人計畫以臺灣為跳板到日本貿易，但是並不順利，是因為日本當時進行何種措施所致？  
(A)開港通商 (B)明治維新 (C)鎖國政策 (D)同化政策
7. ( ) 萬新史前文化實習隊在某處挖掘出下列三個遺址，在遺址中發現的文物列表如右表。請問：由上到下挖掘出這三個遺址的順序為何？  
(A)丙甲乙 (B)甲乙丙 (C)乙丙甲 (D)乙甲丙。
8. ( ) 萬華的古地名「艋舺」發音是Banka，艋舺不是臺語，而是臺灣原住民平埔族凱達格蘭族語，專家認為是「獨木舟」之意；而菲律賓獨有的「螃蟹船」也叫做Bangca，這之間絕對不是巧合。由此推論，臺灣原住民與菲律賓群島所使用的語言應同屬於下列哪一語系？

甲遺址	獸骨、石器、灰爐、陶器
乙遺址	灰爐、魚骨、石器、獸骨
丙遺址	陶器、灰爐、鐵渣、玻璃

- (A)南島語系 (B)北島語系 (C)印歐語系 (D)亞非語系。
9. ( ) 下列何者不屬於「新石器時代」的特色？  
(A)已用陶器裝置食物 (B)仍然以採集漁獵為主，尚未飼養家畜  
(C)磨製石器是主要製作器具的技術 (D)懂得農業耕作活動。
10. ( ) 中、日兩地的商人及海盜原先大多聚集在澎湖，為何至 15、16 世紀時會轉往臺灣發展？  
(A)欲在臺灣反清復明 (B)明朝政府派兵進駐澎湖 (C)澎湖被荷蘭人所占領 (D)被西班牙人所驅離。
11. ( ) 欣吟在整理各方勢力在臺灣競逐的筆記，發現西班牙為了與荷蘭對抗占領臺灣北部。請問：下列何者不是西班牙的占領地？(A)雞籠 (B)淡水 (C)大員 (D)蛤仔難。
12. ( ) 承上題，17 世紀時，西班牙占據臺灣北部的目的為何？  
(A)作為與日本貿易的據點 (B)作為與朝鮮貿易的據點  
(C)作為與東南亞貿易的轉口站 (D)作為向菲律賓發展的據點。

甲	葡萄牙—菲律賓
乙	英國—巴達維亞
丙	西班牙—澳門
丁	荷蘭—臺灣

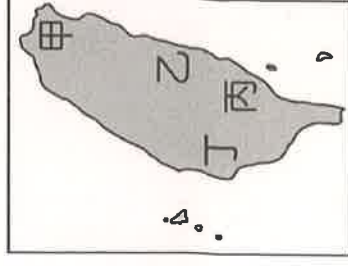
13. ( ) 整理了大航海時代，歐洲各國在亞洲的殖民地簡表，如右表，其中何者正確？  
(A)甲 (B)乙 (C)丙 (D)丁。

14. ( ) 某傳記記載：「他是福建人，因犯案而逃至日本。1624 年，他率眾至今日的雲林、嘉義一帶開墾，後人尊其為『開山之祖』，今日北港地區有一座開臺紀念碑，就是為了紀念他而設立的。」請問：傳記中所指的是何人？(A)施琅 (B)顏思齊 (C)鄭成功 (D)鄭芝龍。

二、 歷史題組：每題 1 分，共 6 分

■ 根據考古學者的發掘與研究，臺灣地區至今已發現近二千處史前文化的遺址，這些遺址呈現不同的文化特色。請問：

15. ( ) 在臺灣的新石器時代中，下列哪一個史前遺址由於臨近湖泊，而留下大量貝殼堆積而成的貝塚遺跡？  
(A)圓山文化 (B)大坌坑文化 (C)卑南文化 (D)十三行文化
16. ( ) 從十三行文化遺址中出土的玻璃手環、瑪瑙珠及中國銅錢等，可以說明當時的哪一種情形？  
(A)已有國家的形成 (B)已經建立海外殖民地  
(C)不懂得航海，只依靠外來者的供應 (D)已能與島內外居民進行貿易。
17. ( ) 萬新國中師生到臺灣某地戶外教學。導覽老師說道：「此一文化存在的年代大約距今 5300 年至 2300 年間，其面積超過 30 萬平方公尺，是目前臺灣發現最大的史前聚落，遺址裡出土許多石棺與精美的玉器陪葬品，是太平洋與東南亞地區規模最大的石棺墓葬群遺址。」請問：他們戶外教學的地點在右圖中的何處？(A)甲 (B)乙 (C)丙 (D)丁。





18. ( ) 唯丞在某展覽中看到右圖。請問：可可參觀的展覽主題可能為何？

- (A)「重返十三行」
- (B)「穿越五千年——大坌坑」
- (C)「卑南·都蘭」
- (D)「長濱探索」。



■ 歷史課時·陳老師在黑板上展示一張臺南地區的古地圖（如附圖）。請問：

19. ( ) 右圖中的普羅民遮城，是現今的哪一個古蹟？

- (A)赤崁樓 (B)紅毛城 (C)安平古堡 (D)億載金城。



20. ( ) 歐洲各國人士的東來，其背景為何？

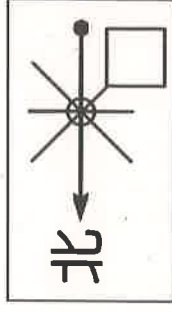
- (A)歐洲實施海禁政策 (B)歐洲頒布鎖國政策
- (C)歐洲發現新航路 (D)歐洲限制貿易對象。

三、地理單一選擇題（每題 2 分，共 28 分）：

21. ( ) 有關位置的敘述，下列何者屬於「相對位置」的概念？

- (A)萬新國中位在萬丹鄉新鐘路 8 號 (B)八八快速道路聳立在萬新國中北方
- (C)7-11 超商位在新鐘路和萬新路交會口上 (D)萬新國中的經緯度為（120.40E，22.50N）

22. ( ) 右圖中的方向標空格應填入哪個方位？ (A)東北 (B)西北 (C)東南 (D)西南。



23. ( ) (甲)東半球和西半球 (乙)北半球和南半球。上述甲、乙的劃分，主要是依據下列何者？

- (A)甲——本初經線；乙——赤道 (B)甲——赤道；乙——本初經線
- (C)甲——北回歸線；乙——南回歸線 (D)甲——南回歸線；乙——赤道。



24. ( ) 右圖是品樂就讀學校的地圖。如果品樂要從行政大樓走到圖書館，她應該朝哪個方向走？

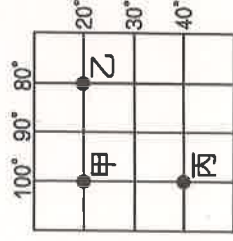
- (A)西北方 (B)西南方 (C)東北方 (D)東南方。

25. ( ) 學完了經線的特性後，老師出了一項作業，請同學比較本初經線和國際換日線。下面四個學生的敘述，何者錯誤？

- (A)懷之：兩條線的方向不同，本初經線是南北向，國際換日線是東西向
- (B)辛空：兩條線的左右兩側時間差，都適用「東加西減」的概念
- (C)佩宸：本初經線左右兩側日期相同，但是國際換日線左右兩側日期不同
- (D)子涵：本初經線與國際換日線相差180度。

26. ( ) 右圖為一個經緯度的網格系統。請問：關於圖中三地的位置關係，何者正確？

- (A)甲地位在乙地的東方 (B)甲的緯度比乙地高 (C)三地皆位在東半球 (D)三地皆位於南半球

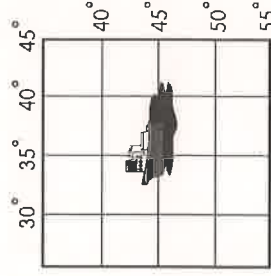


27. ( ) 關於下表經線與緯線的比較，下列何者正確？ (A)甲 (B)乙 (C)丙 (D)丁。

	(甲)長度	(乙)方向	(丙)度數	(丁)影響
經線	本初經線最長	東西向	東、西各180度	氣候
緯線	每一條都等長	南北向	南、北各90度	時間

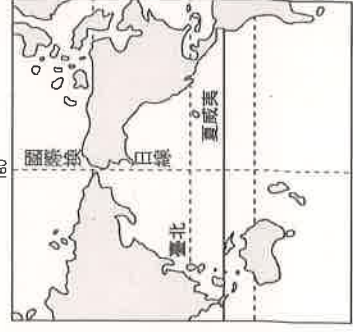
28. ( ) 右圖中的某艘貨輪遇上惡劣的天氣而發生船難，且出現嚴重漏油的危機，於是該船船長立即發出求救訊號。請問：該船發生事故的經緯度位置在哪裡？

- (A)35°W，45°N (B)35°W，45°S (C)35°E，45°N (D)35°E，45°S。



29. ( ) 就讀萬新國中的恩葦和班上同學一起參加畢業旅行到英國倫敦(0°)參觀，恩葦習慣要在睡前向爸爸媽媽報平安，若恩葦在倫敦時間10月4號晚上10點打電話給在臺灣的父母。請問：這時恩葦的父母最可能在做什麼事？ (A)晨間慢跑 (B)中午用餐 (C)喝下午茶 (D)準備就寢

30. ( ) 右圖中的國際換日線貫穿太平洋。假設今天臺北是10月5日早上，而此線右側的夏威夷應是下列哪個日期？ (A)10月3日 (B)10月4日 (C)10月5日 (D)10月6日。



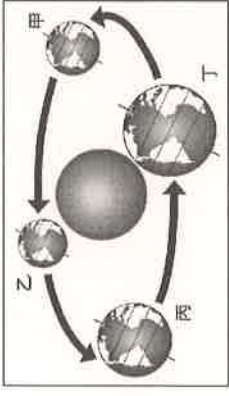
31. ( ) 萬新國中親師會舉辦「校園尋找大作戰」的活動，為了讓家長更能清楚了解學校配置，校方應準備下列哪一比例尺的地圖最為恰當？

- (A)五分之一 (B)五分之一 (C)五萬分之一 (D)五十萬分之一。



32. ( ) 「旅行，就從地圖開始。首先找一張世界地圖，看看所要到的地方，先找到它的(甲)緯度了解目的地和臺灣的時差，再看(乙)經度推測當地的氣候特色。接著閱讀當地(丙)大比例尺的街道圖，並從(丁)圖例計算旅遊景點與當地車站的距離……。」上列敘述中，文中有關粗體黑字的敘述何者正確？ (A)甲 (B)乙 (C)丙 (D)丁。

33. ( ) 右圖為地球公轉的示意圖。請問：當臺灣冬至吃湯圓的時候，地球的位置應位在何處？ (A)甲 (B)乙 (C)丙 (D)丁



34. ( ) 臺灣高鐵於西元2007年1月通車後，成為臺灣西部重要的長途交通動脈之一。在臺北的榮恩想要搭乘高鐵到高雄找妙麗，先行上網找到了如下圖所示的四張高鐵地圖，請判斷四張圖的比例尺，由大到小依序排列為何？

(A)甲乙丙丁 (B)丙甲乙丁 (C)丁乙甲丙 (D)丁甲丙乙。



(甲)



(乙)



(丙)



(丁)

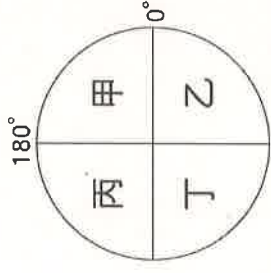
#### 四、地理題組 (每題 1 分，共 6 分)：

〔(一)底下是有關『經緯線』的描述，請回答下列各題：〕

35. ( ) 下列哪組經緯度的數值標示是錯誤的？

(A) (100°E, 90°N) (B) (1°W, 50°S) (C) (40°E, 100°S) (D) (179°W, 1°N)

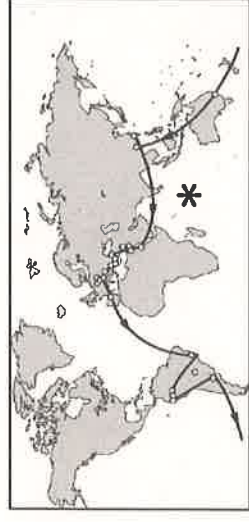
36. ( ) 臺灣的經緯度位於東、北半球，若以右圖的示意圖來表達地球的各半球，則臺灣的位置應位於右圖哪一位置上？ (A)甲 (B)乙 (C)丙 (D)丁。



〔(二)右圖是某探險家的環遊世界航程地圖，請回答下列各題：〕

37. ( ) 環遊世界是許多人小時候的夢想，真正長大後卻只有少數人得以實現願望。

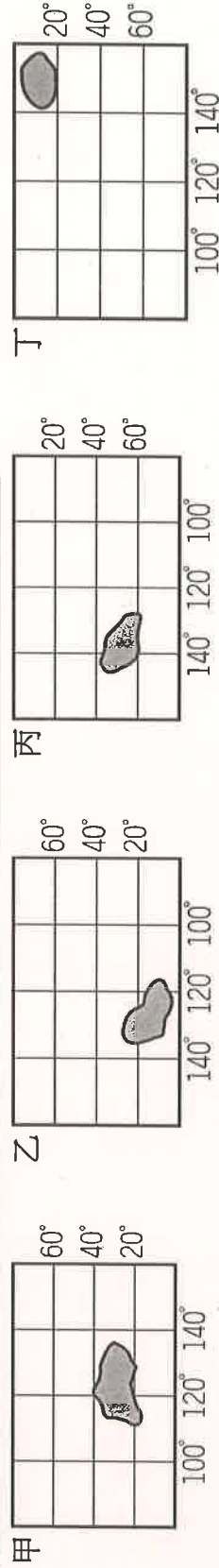
右圖為某探險家的環遊世界航程地圖，若以圖中路線分布判斷，此次環球之行缺少了下列哪一洲行程？ (A)亞洲 (B)大洋洲 (C)非洲 (D)北美洲



38. ( ) 右圖中打上「\*」的海域名稱是什麼？

(A)大西洋 (B)太平洋 (C)印度洋 (D)北極海。

〔(三)下列四個假想的經緯度地圖，甲、乙、丙、丁代表四個地點。請問：〕



39. ( ) 哪些地區最有可能全都位居熱帶氣候區？ (A)甲乙 (B)乙丙 (C)丙丁 (D)乙丁。

40. ( ) 哪一地區的時間是最快 (早)？ (A)甲 (B)乙 (C)丙 (D)丁。

#### 五、公民單一選擇題 (每題 2 分，共 32 分)：

41. ( ) 我國國民都能領取身分證，平均每十年會更換一次身分證，近期新式身分證設計出爐，新式規格引發民眾討論。  
請問：擁有我國身分證所代表的意義為何？

- (A)出生在我國境內 (B)長期居住於我國 (C)擁有我國國籍 (D)年滿 20 歲。

42. ( ) 下列情境中，何者適用《性別平等教育法》？  
(A)在學校上游泳課時，被同學嘲笑發育不全 (B)在公車上被不認識的人觸碰身體  
(C)在工作場所被迫聽老闆講黃色笑話 (D)在網路上公開散播明星不雅照片。

43. ( ) 下列四人中，何人已取得我國的國籍？

(A)父母均為我國國民，在美國出生的豐澤

(C)剛和我國籍男子新婚的韓國女子欣吟

44. ( ) 搭乘臺北捷運時，君翰聞著剛買的鹽酥雞，忍不住伸手要拿來吃，珮如告誡君翰，捷運有車廂內不得飲食的相關規範，即便沒其他人會發現，也請忍到下車後離開再吃。請問：上述珮如的態度，符合現代公民應具備的何項基本德性？

(A)和平尊重包容 (B)遵守法律規範 (C)理性批判思考 (D)捍衛公平正義。

45. ( ) 2000年屏東縣高樹國中學生葉永鋕，因與眾不同的性別氣質而遭到同學取笑，某些同學常常蓄意在廁所脫掉葉永鋕的褲子以便檢查葉永鋕是否是男生，造成葉永鋕只能利用上課期間去上廁所，最後發生葉永鋕意外死亡的憾事。請問，上述同學對待葉永鋕同學的行為，我們可稱為什麼？ (A)性霸凌 (B)性騷擾 (C)性別刻板印象 (D)性侵害。



46. ( ) 有關我國「國民」與「公民」之間的差異，下列說明何者正確？

- (A) 只有國民是具有我國國籍者 (B) 公民是指經官方審核，歸化為我國國籍者  
(C) 公民可行使參政權，國民則否 (D) 不論國民或公民，都具有年齡門檻的限制。  
47. ( ) 下表是四人的自我介紹，依據內容判斷，何者具有我國公民的身分？(A)嘉睿 (B)芯亞 (C)侑紋 (D)可軒

嘉睿：「我申請歸化成功，所以今年年底首度可以參與投票。」
芯亞：「我因為躲避家鄉戰亂，輾轉來到臺灣，目前住在收容所。」
侑紋：「我對臺灣選舉產生興趣，所以遠從美國來臺灣就讀大學。」
可軒：「我娶臺灣女生並定居臺灣，但至今仍未獲得臺灣身分證。」

48. ( ) 電視劇《我們與惡的距離》熱映，引發民眾對於許多社會議題的熱烈討論，其中包括民眾對精神障礙者既定的刻板印象，導致排擠他們，使他們不能平等享有基本權利。在現實生活中衡山基金會經常在許多場合為精神障礙者發聲，希望社會給予公平對待。請問：該基金會的作為是在實現現代公民應具備的何項德性？

- (A) 和平尊重包容 (B) 理性思考批判 (C) 參與公共事務 (D) 捍衛公平正義。

49. ( ) 下列關於國中生之身分與角色的敘述，何者正確？

- (A) 同時具有國民與公民的身分 (B) 享有國民受教權以及參政權  
(C) 必須負擔遵守法律的義務 (D) 還不需要學習參與公共事務

50. ( ) 岳勳因應徵新工作，參加多場面試，下列哪一位老闆經營的公司具有性別平權的觀念？

(A)

(B)

(C)

(D)

51. ( ) 關於「人權」與「人性尊嚴」的敘述，何者錯誤？

- (A) 人性尊嚴是要靠自己爭取才能獲得 (B) 人權是所有人不可或缺、也不可剝奪的必要權利  
(C) 人權具有普世、平等、不可剝奪三項特徵 (D) 人性尊嚴是人權保障的核心價值。

52. ( ) 家奎向友人提及一則新聞內容，認為此舉具有保障人權的精神，他所指的應是下列哪一則新聞？

- (A) 高鐵免費接駁公車，採用無障礙空間設計，方便身障人士搭乘  
(B) 絕美天空步道落成，使用原住民傳統建材裝飾，極具文化美感  
(C) 知名手機大廠發表新技術，採用面部辨識功能，減少失竊危機  
(D) 縣府規畫春日梅子節活動，鼓勵民眾品嚐梅子，感受地方特色。

53. ( ) 右圖中，小芳所遇到的問題是下列何項因素所造成的？

- (A) 種族歧視 (B) 性別歧視 (C) 性別偏見 (D) 性別刻板印象。



54. ( ) 下表是韻慈在公民課上的研究報告。請問：表中敘述何者顯示出「性別刻板印象」？(A)甲 (B)乙 (C)丙 (D)丁

甲	男女在工作職場上以能力論薪酬
乙	男性適合當醫生，女性較適合擔任護理師
丙	男性也可以有纖細溫柔的特質
丁	女軍官勇闖天堂路

印度某部電影內容簡介如下：「一名父親希望兩個女兒拿到奧運金牌，但在印度從沒有女性參加運動，更不用說拿取金牌。因此在村莊裡，所有人都嘲笑父親，把女兒頭髮剪得像男生，練得跟男生一樣，未來肯定嫁不出去也沒人要。後來兩個女兒明白了，如果自己不努力，會像村莊其他女生一樣命運終身受到男性控制。所以勤奮練習，最終果真拿到了金牌。父親告訴女兒：『你的冠軍將成為榜樣，讓印度的女孩們知道，她們是有能力反抗早被決定好的命運和未來的』。」  
請依文章，回答第55~56題。

55. ( ) 上文內容最符合下列哪一項說明？(A)未來交付給父母決定才是正確的行為 (B)父親最終是希望女兒能選擇自己的未來 (C)女孩不留長髮造型，是不尊重女性的行為 (D)嘲笑女孩髮型像男生，屬於性騷擾行為。

56. ( ) 上文中畫雙底線部分，顯示出村莊民眾對女生的期望，與下列何項相似？

- (A) 不論生男或生女，都是父母心肝寶貝 (B) 這份工作只要你有能力，歡迎來挑戰  
(C) 男生應出外打拚工作，女生應在家打掃洗衣 (D) 倒垃圾的工作應均等，哥哥是一、三、五，姊姊是二、四、六。

辛苦了，請同學確實將答案劃記在電腦答案卡上，只需繳交答案卡即可！